

Constable GD in CAPFs SSF Rifleman GD in Assam Rifles and Sepoy in NCB Examination 2022

| | |
|----------------|-------------------------------|
| Roll Number | |
| Candidate Name | |
| Venue Name | |
| Exam Date | 07/02/2023 |
| Exam Time | 9:00 AM - 10:00 AM |
| Subject | Constable GD Examination 2022 |

Section : Part-A-General Intelligence and Reasoning

Q.1 D \$ E का अर्थ है 'D, E की पुत्री है'
D @ E का अर्थ है 'D, E की माता है'
D + E का अर्थ है 'D, E का पिता है'
D * E का अर्थ है 'D, E का पति है'
यदि P * T \$ X + Z है, तो P, Z से किस प्रकार संबंधित है?

- Ans
- 1. बहन का पति
 - 2. पुत्री
 - 3. पिता का भाई
 - 4. बहन

Q.2 कौन-सा अक्षर-समूह दी गई श्रृंखला में प्रश्नचिह्न (?) के स्थान पर आकर श्रृंखला को पूर्ण करेगा?
NUZD, LSXB, ?, HOTX, FMRV

- Ans
- 1. JQVA
 - 2. JQVZ
 - 3. JQWZ
 - 4. JRVZ

Q.3 सात व्यक्ति P, Q, R, S, T, U और V एक सीधी पंक्ति में उत्तर की ओर मुख करके बैठे हैं। P के दाईं ओर केवल चार व्यक्ति बैठे हैं। P और S के बीच केवल दो व्यक्ति बैठे हैं। Q, V के दाईं ओर तीसरे स्थान पर बैठा है। T, V के दाईं ओर दूसरे स्थान पर बैठा है। U, T के बाईं ओर तीसरे स्थान पर बैठा है। पंक्ति के अंतिम दाएं सिरे पर कौन बैठा है?

- Ans
- 1. S
 - 2. P
 - 3. T
 - 4. R

Q.4 नीचे दिए गए समीकरण में, किन 2 चिहनों को आपस में बदलने की आवश्यकता है ताकि यह संतुलित हो जाए?

$$\frac{1}{4} \div \frac{1}{16} - 5 + 45 \times 25 = 40$$

- Ans 1. × और -
 2. + और ×
 3. + और -
 4. ÷ और ×

Question ID : 26433085656
Status : Answered
Chosen Option : 1

Q.5 निम्नलिखित में से कौन-सा अक्षर-समूह दी गई शृंखला में प्रश्न-चिह्न (?) के स्थान पर आएगा?
AVXE, DSUH, GPRK, ?, MJLQ

- Ans 1. JJPM
 2. KJON
 3. KKON
 4. JMON

Question ID : 26433076444
Status : Answered
Chosen Option : 4

Q.6 किस विकल्प में निम्नलिखित शब्दों का वह क्रम दिया गया है, जिस क्रम में वे अंग्रेजी शब्दकोश में आते हैं?

- 1 domestic
2 dozen
3 double
4 doctor
5 down

- Ans 1. 4,1,3,2,5
 2. 4,1,3,5,2
 3. 4,3,1,5,2
 4. 4,3,1,2,5

www.exammix.com

Q.7 तीन कथनों के बाद तीन निष्कर्ष I, II और III दिए गए हैं। कथनों को सत्य मानते हुए, भले ही वे सामान्य रूप से ज्ञात तथ्यों से भिन्न प्रतीत होते हों, निर्धारित करें कि कौन-सा/से निष्कर्ष, कथनों का तार्किक रूप से अनुसरण करता है/करते हैं।

कथन:

सभी मास्क सैनिटाइज़र हैं।

सभी हैंडवाश सैनिटाइज़र हैं।

सभी सैनिटाइज़र दवाएँ हैं।

निष्कर्ष:

I. सभी हैंडवाश दवाएँ हैं।

II. सभी दवाएँ मास्क हैं।

III. कुछ दवाएँ हैंडवाश हैं।

- Ans
- 1. केवल निष्कर्ष I और II अनुसरण करते हैं
 - 2. सभी निष्कर्ष अनुसरण करते हैं
 - 3. केवल निष्कर्ष I और III अनुसरण करते हैं
 - 4. केवल निष्कर्ष II और III अनुसरण करते हैं

Question ID : 26433082316

Status : Answered

Chosen Option : 3

Q.8 एक कूट भाषा में 'sweet fruits' को 're de', 'mango is sweet' को 'de me ke', 'orange is citrus' को 'ke le pe', 'eat orange' को 'pe ne' के रूप में कूटबद्ध किया जाता है। शब्द 'mango' के लिए कूट क्या होगा?

- Ans
- 1. me
 - 2. pe
 - 3. ke
 - 4. de

Q.9 नीचे दिए गए समीकरण को सही बनाने के लिए किन दो चिन्हों को गणितीय रूप से परस्पर बदलना चाहिए?

$$72 \times 3 + 48 \div 6 - 16 = 296$$

- Ans
- 1. + और -
 - 2. ÷ और -
 - 3. × और +
 - 4. × और ÷

Question ID : 264330117540

Status : Answered

Chosen Option : 4

Q.10 दिए गए विकल्पों में से वह संख्या चुनिए, जो निम्नलिखित श्रृंखला में प्रश्न-चिह्न (?) को प्रतिस्थापित कर सके।
8, 10, 17, 19, 35, 37, ?

Ans 1. 71

2. 47

3. 74

4. 77

Question ID : 26433078918

Status : Not Answered

Chosen Option : --

Q.11 छः मित्र (अमन, बिप्लब, चिरंतन, दिव्या, एलिजाबेथ और फिरोज) एक वृत्ताकार मेज के परितः मेज के केंद्र की ओर मुख करके बैठे हैं। अमन, बिप्लब के बाईं ओर तीसरे स्थान पर बैठा है। चिरंतन, अमन के ठीक बगल में है। एलिजाबेथ, दिव्या के दाईं ओर दूसरे स्थान पर बैठी है। चिरंतन, दिव्या के ठीक बगल में नहीं है। बिप्लब के बाईं ओर ठीक बगल में कौन बैठा है?

Ans 1. चिरंतन

2. दिव्या

3. एलिजाबेथ

4. फिरोज

Question ID : 26433092771

Status : Answered

Chosen Option : 2

Q.12 उस विकल्प का चयन करें जो तीसरे शब्द से उसी प्रकार संबंधित है, जिस प्रकार दूसरा शब्द पहले शब्द से संबंधित है।
(शब्दों को अर्थपूर्ण शब्दों के रूप में माना जाना चाहिए और शब्द में अक्षरों की संख्या/व्यंजनों की संख्या/स्वरों की संख्या के आधार पर उन्हें एक-दूसरे से संबंधित नहीं किया जाना चाहिए)
मकड़ी : मकड़ी का जाला :: घोड़ा : ?

Ans 1. कारवान

2. हवेली

3. अस्तबल

4. गुफा

Question ID : 26433082575

Status : Answered

Chosen Option : 3

Q.13 दी गई आकृति के सही दर्पण प्रतिबिम्ब का चयन करें जब दर्पण को MN पर रखा जाए जैसा कि नीचे दर्शाया गया है।



Ans

✗ 1.

✓ 2.

✗ 3.

✗ 4.

Question ID : 26433085550

Status : Answered

Chosen Option : 2

Q.14 दिए गए विकल्पों में से वह संख्या चुनिए, जो निम्नलिखित श्रृंखला में प्रश्न-चिह्न (?) को प्रतिस्थापित कर सके।

14, 12, 27, 25, 53, 51, ?

Ans ✓ 1. 105

✗ 2. 180

✗ 3. 150

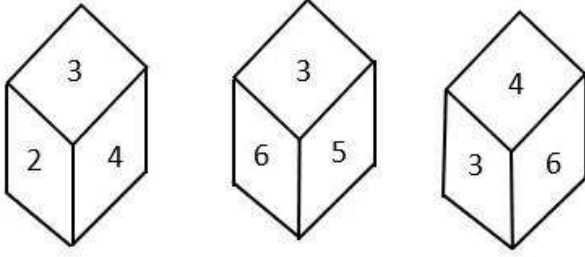
✗ 4. 108

Question ID : 26433078926

Status : Not Answered

Chosen Option : --

Q.15 एक ही पासे की तीन अलग-अलग स्थितियों को दर्शाया गया है। '3' दर्शाने वाले फलक के विपरीत फलक की संख्या ज्ञात कीजिए।



- Ans
- 1. 2
 - 2. 1
 - 3. 4
 - 4. 5

Question ID : 26433090080

Status : Answered

Chosen Option : 2

Q.16 उस विकल्प का चयन करें जो तीसरी संख्या से उसी प्रकार संबंधित है जिस प्रकार दूसरी संख्या पहली संख्या से संबंधित है और छठवीं संख्या पाँचवीं संख्या से संबंधित है।
42 : 91 :: 84 : ? :: 149 : 198

- Ans
- 1. 128
 - 2. 133
 - 3. 142
 - 4. 131

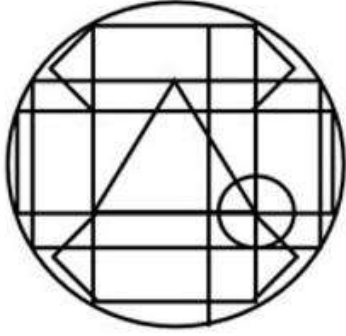
Question ID : 26433069189

Status : Not Answered

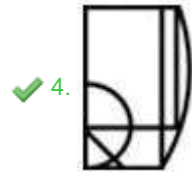
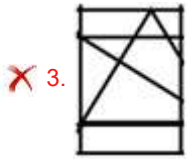
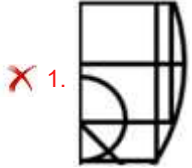
Chosen Option : --

Q.17 उस विकल्प-आकृति का चयन कीजिए, जो प्रस्तुत आकृति में अंतर्निहित है।

(घुमाना अनुमन्य नहीं है)



Ans

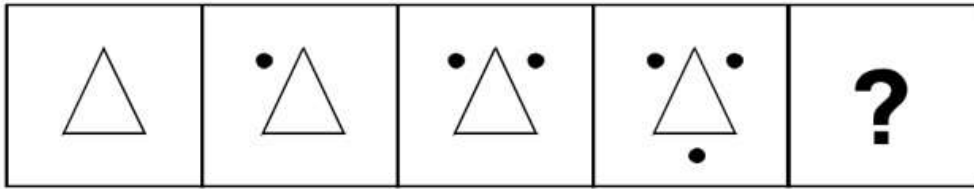


Question ID : 26433076577

Status : Answered

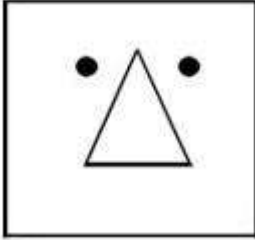
Chosen Option : 1

Q.18 दिए गए विकल्पों में से उस आकृति का चयन करें जो निम्नलिखित श्रृंखला में प्रश्नवाचक चिह्न (?) का स्थान ले सकती है।

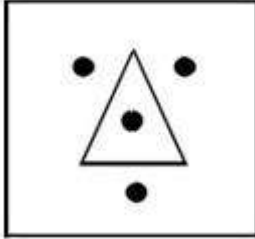


Ans

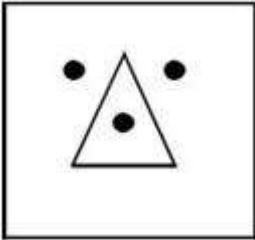
✗ 1.



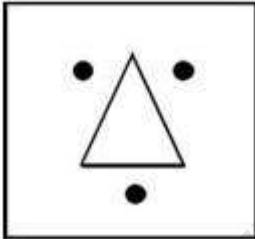
✓ 2.



✗ 3.



✗ 4.



Question ID : 26433080487

Status : Answered

Chosen Option : 2

Q.19 उस विकल्प का चयन करें जो पाँचवें पद से उसी तरह से संबंधित है, जिस तरह से दूसरा पद पहले पद से संबंधित है और चौथा पद तीसरे पद से संबंधित है।

PREPARE : ERAPERP :: COMPARE : ERAPMOC :: DESPAIR : ?

Ans ✗ 1. RIASPED

✗ 2. SPAIRDE

✗ 3. ESPAIRD

✓ 4. RIAPSED

Question ID : 26433067264

Status : Answered

Chosen Option : 4

Q.20 एक निश्चित कूट भाषा में, 'TRIFLED' को 'YQNEQDI' और 'BRIEF' को 'GQNDK' के रूप में लिखा जाता है। उसी कूट भाषा में 'FALTER' को किस प्रकार से लिखा जाएगा?

- Ans
- 1. KZQSJQ
 - 2. KYQTHP
 - 3. KZQSHR
 - 4. KYPSJQ

Question ID : 26433069465
Status : Answered
Chosen Option : 1

Section : Part-B-General Knowledge and General awareness

Q.1 सुल्तान जोहोर कप किस खेल से संबंधित है?

- Ans
- 1. क्रिकेट
 - 2. हॉकी
 - 3. फुटबॉल
 - 4. बास्केटबॉल

Question ID : 264330116280
Status : Not Answered
Chosen Option : --

Q.2 निम्नलिखित में से कौन सी एक कायांतरित चट्टान है?

- Ans
- 1. शैल
 - 2. ग्रेनाइट
 - 3. बलुआ पत्थर
 - 4. कार्टजाइट

Question ID : 26433089663
Status : Answered
Chosen Option : 1

Q.3 निम्नलिखित में से कौन-सा एक मौलिक कर्तव्य है?

- Ans
- 1. अधिवक्ताओं की गरिमा के लिए अपमानजनक प्रथाओं का त्याग करना
 - 2. किसी भी प्रशासनिक अधिकारी की गरिमा के लिए अपमानजनक प्रथाओं का त्याग करना
 - 3. पुरुषों की गरिमा के लिए अपमानजनक प्रथाओं का त्याग करना
 - 4. ऐसी प्रथाओं का त्याग करे जो स्त्रियों के सम्मान के वीरुध हैं

Question ID : 26433089953
Status : Not Answered
Chosen Option : --

Q.4 The _____ of a country is measured by the development of manufacturing industries.

- Ans
- 1. economic strength
 - 2. debt
 - 3. expenditure
 - 4. liability

Question ID : 264330115405
Status : Answered
Chosen Option : 1

Q.5 निम्नलिखित में से कौन सी गतिविधि अर्थव्यवस्था के तृतीयक क्षेत्र से संबंधित है?

- Ans
- 1. कपड़ा बुनना
 - 2. ऑटोमोबाइल निर्माण
 - 3. मत्स्यन
 - 4. भंडारण

Question ID : 264330115574
Status : Answered
Chosen Option : 2

Q.6 निम्नलिखित में से कौन जून 2022 में सूरमा, त्रिपुरा की विधान सभा के सदस्य बने?

- Ans
- 1. स्वप्ना दास पॉल
 - 2. सुदीप रॉय बर्मन
 - 3. राजनाथ सिंह
 - 4. साधन पांडे

Question ID : 264330114941
Status : Answered
Chosen Option : 2

Q.7 अनबुझा चूना कैसे निर्मित होता है?

- Ans
- 1. कैल्शियम ऑक्साइड और जल के दोहरे अपघटन द्वारा
 - 2. कैल्शियम ऑक्साइड और कैल्शियम कार्बोनेट के विस्थापन द्वारा
 - 3. कैल्शियम कार्बोनेट और कैल्शियम हीड्राक्साइड के अपघटन द्वारा
 - 4. तापन पर कैल्शियम कार्बोनेट के कैल्शियम ऑक्साइड और कार्बन डाइऑक्साइड में अपघटन द्वारा

Question ID : 26433087846
Status : Not Answered
Chosen Option : --

Q.8 निम्नलिखित में से किस बिहू को रोंगाली बिहू के नाम से भी जाना जाता है?

- Ans
- 1. माघ बिहू
 - 2. भोगली बिहू
 - 3. बोहाग बिहू
 - 4. कोंगाली बिहू

Question ID : 264330115117

Status : Not Answered

Chosen Option : --

Q.9 लोक नृत्य 'चेराव' मुख्य रूप से किस भारतीय राज्य से संबंधित है?

- Ans
- 1. ओडिशा
 - 2. बिहार
 - 3. मिजोरम
 - 4. गोवा

Question ID : 26433072925

Status : Answered

Chosen Option : 3

Q.10 निवल मूल्य = परिसंपत्तियां - _____

- Ans
- 1. मौजूदा परिसंपत्तियां
 - 2. देयताएं
 - 3. हिस्सेदारी
 - 4. बही ऋण

Question ID : 264330115327

Status : Answered

Chosen Option : 4

Q.11 उत्तर प्रदेश के निम्नलिखित में से किस पूर्व मुख्यमंत्री का अक्टूबर 2022 में निधन हो गया?

- Ans
- 1. विजय कश्यप
 - 2. नारायण दत्त तिवारी
 - 3. मुलायम सिंह यादव
 - 4. कल्याण सिंह

Question ID : 264330115030

Status : Answered

Chosen Option : 3

Q.12 भारत में कौन से दो सामाजिक समूह हैं जो गरीबी के प्रति अत्यन्त संवेदनशील हैं?

- Ans
- 1. सवर्ण और ब्राह्मण
 - 2. अनुसूचित जनजाति और अनुसूचित जाति
 - 3. अनुसूचित जनजाति और अन्य पिछड़ा वर्ग
 - 4. ब्राह्मण और अनुसूचित जाति

Question ID : 264330116066

Status : Answered

Chosen Option : 2

Q.13 हर्षवर्धन ने नर्मदा नदी पार करके दक्कन की ओर बढ़ने की कोशिश की तब चालुक्य नरेश, _____ ने उन्हें रोक दिया।

- Ans
- 1. पुलकेशिन द्वितीय
 - 2. समुद्रगुप्त प्रथम
 - 3. चंद्रगुप्ता
 - 4. समुद्रगुप्त द्वितीय

Question ID : 264330115459

Status : Not Answered

Chosen Option : --

Q.14 2016 में भारत सरकार द्वारा किन करेंसी नोटों का विमुद्रीकरण किया गया था?

- Ans
- 1. ₹500 and ₹100
 - 2. ₹100 and ₹1,000
 - 3. ₹500 and ₹1,000
 - 4. ₹500 and ₹50

Question ID : 26433072953

Status : Answered

Chosen Option : 3

Q.15 _____ भगोड़े आर्थिक अपराधियों को भारतीय अदालतों के अधिकार क्षेत्र से बाहर रहकर भारत में कानून की प्रक्रिया से बचने से रोकने के उपाय प्रदान करता है।

- Ans
- 1. विदेशी आर्थिक अपराधी अधिनियम, 2018
 - 2. आर्थिक अपराधी अधिनियम, 2018
 - 3. भगोड़ा अपराधी अधिनियम, 2015
 - 4. भगोड़ा आर्थिक अपराधी अधिनियम, 2018

Question ID : 264330116212

Status : Not Attempted and Marked For Review

Chosen Option : --

Q.16 दिए गए कथनों में से कौन सा सही है?
I. अम्ल लाल लिटमस को नीला कर देता है।
II. अम्ल स्वाद में कड़वे होते हैं।

- Ans 1. ना तो I ना तो II
 2. केवल I
 3. केवल II
 4. I तथा II दोनों

Question ID : 264330115245
Status : Answered
Chosen Option : 4

Q.17 पहली निर्वाचित संसद निम्नलिखित में से किस वर्ष में अस्तित्व में आई थी?

- Ans 1. 1949
 2. 1955
 3. 1952
 4. 1950

Question ID : 26433086844
Status : Answered
Chosen Option : 4

Q.18 हीरो इंडियन सुपर लीग (ISL) के उद्घाटन मैच का विजेता ATK था, जो _____ में स्थित एक फुटबॉल क्लब है।

- Ans 1. कोलकाता
 2. बेंगलुरु
 3. चेन्नई
 4. मुंबई

Question ID : 26433089928
Status : Answered
Chosen Option : 2

Q.19 गोपिका वर्मा ने _____ के लिए 2018 संगीत नाटक अकादमी पुरस्कार जीता।

- Ans 1. भरतनाट्यम
 2. ओड़िसी
 3. मणिपुरी
 4. मोहिनीअट्टम

Question ID : 264330115866
Status : Not Answered
Chosen Option : --

Q.20 वे 1893 में शिकागो में हुई विश्व धर्म संसद में दिए गए उनके भाषण के लिए लोकप्रिय हैं। यहां 'वे' किसे कहा जा रहा है?

- Ans
- 1. केशव चन्द्र सेन
 - 2. स्वामी दयानंद सरस्वती
 - 3. महात्मा गांधी
 - 4. स्वामी विवेकानंद

Question ID : 264330115717

Status : Answered

Chosen Option : 2

Section : Part-C-Elementary Mathematics

Q.1 एक मकान का वर्तमान मूल्य ₹46,40,000 है। यदि इसके मूल्य में 5% प्रतिवर्ष की दर से अवमूल्यन होता है, तो 3 वर्ष बाद मकान का मूल्य क्या होगा?

- Ans
- 1. ₹39,78,220
 - 2. ₹44,08,000
 - 3. ₹41,87,600
 - 4. ₹40,70,520

Question ID : 26433087384

Status : Answered

Chosen Option : 4

Q.2 एक पेंटिंग की क्रीमत 140000 रुपए से बढ़कर 182000 रुपए हो गई। पेंटिंग की क्रीमत में प्रतिशत वृद्धि है:

- Ans
- 1. 50 प्रतिशत
 - 2. 10 प्रतिशत
 - 3. 30 प्रतिशत
 - 4. 40 प्रतिशत

Question ID : 264330116816

Status : Answered

Chosen Option : 3

Q.3 10%, 5% और $3\frac{1}{2}\%$ की क्रमिक छूटों के बराबर एक एकल छूट _____ होगी।

- Ans
- 1. 14.5%
 - 2. 16.9475%
 - 3. 17.4925%
 - 4. 18.5%

Question ID : 26433080316

Status : Answered

Chosen Option : 3

Q.4 चक्रवृद्धि ब्याज की किस दर से कोई धनराशि 3 वर्षों में वार्षिक रूप से चक्रवृद्धि होते हुए 3.375 गुनी हो जाती है?

- Ans 1. 50%
2. 150%
3. 100%
4. 200%

Question ID : 26433065091

Status : Answered

Chosen Option : 1

Q.5 एक थोक व्यापारी के पास 1000 kg चीनी है, जिसका एक भाग वह 6% लाभ पर और शेष 12% लाभ पर बेचता है। उसका लाभ कुल मिलाकर 10% है। 6% लाभ पर बेची गई मात्रा कितनी है? (दो दशमलव तक विचार करें)

- Ans 1. 666.66 kg
2. 333.33 kg
3. 663.66 kg
4. 336.33 kg

Question ID : 26433076269

Status : Answered

Chosen Option : 2

Q.6 राम और रमेश दो किलोमीटर दौड़ते हैं और राम 40 सेकंड से जीत जाता है। राम और नरेश दो किलोमीटर दौड़ते हैं और राम 650 मीटर से जीत जाता है। जब रमेश और नरेश समान दूरी दौड़ते हैं, तो रमेश 25 सेकंड से जीत जाता है। राम द्वारा दो किलोमीटर दौड़ने में लिया गया समय ज्ञात कीजिए।

- Ans 1. 2 मिनट, 35 सेकंड
2. 3 मिनट, 35 सेकंड
3. 3 मिनट, 15 सेकंड
4. 2 मिनट, 15 सेकंड

Question ID : 26433065003

Status : Not Answered

Chosen Option : --

Q.7 यदि एक ठोस लम्ब वृत्तीय शंकु का आयतन $v \text{ cm}^3$ है और इसकी ऊँचाई $h \text{ cm}$ है, तो शंकु की त्रिज्या _____ है।

- Ans
- 1. $\frac{3v}{\pi h^2} \text{ cm}$
 - 2. $\sqrt{\frac{v}{\pi h}} \text{ cm}$
 - 3. $\frac{v}{\pi h^2} \text{ cm}$
 - 4. $\sqrt{\frac{3v}{\pi h}} \text{ cm}$

Question ID : 26433079973

Status : Answered

Chosen Option : 4

Q.8 ₹936 को P, Q और R में गलती से $\frac{1}{2} : \frac{1}{3} : \frac{1}{4}$ के बजाय 2 : 3 : 4 के अनुपात में विभाजित कर दिया जाता है। वितरण में R का लाभ _____ है।

- Ans
- 1. ₹24
 - 2. ₹200
 - 3. ₹216
 - 4. ₹124

Question ID : 26433073110

Status : Answered

Chosen Option : 2

Q.9 निम्नलिखित को सरल कीजिए।
30% of [{ (820% of 40) - 28 }] % of 600

- Ans
- 1. 200
 - 2. 540
 - 3. 500
 - 4. 250

Question ID : 26433075342

Status : Answered

Chosen Option : 2

Q.10 वह सबसे छोटी धनात्मक संख्या कौन सी है, जिसे 12 और 21 दोनों में से घटाए जाने पर उनका तृतीयानुपात 36 होता है?

- Ans
- 1. 5
 - 2. 4
 - 3. 3
 - 4. 2

Question ID : 26433080118

Status : Answered

Chosen Option : 3

Q.11 एक व्यक्ति 2 km/h, 3 km/h और 4 km/h की चाल से तीन समान दूरियाँ तय करता है और कुल 52 मिनट का समय लेता है। कुल दूरी ज्ञात कीजिए।

- Ans
- 1. 2.5 km
 - 2. 2.7 km
 - 3. 2.8 km
 - 4. 2.4 km

Question ID : 26433076371

Status : Answered

Chosen Option : 4

Q.12 A, B और C क्रमशः $5 \frac{m}{s}$, $3 \frac{m}{s}$ और $8 \frac{m}{s}$ की चाल से दौड़ते हैं। वे एक ही समय पर एक ही बिंदु से दौड़ना शुरू करते हैं। कुछ समय बाद, यह पाया गया कि A और C के बीच की दूरी 6 m है। A और B के बीच की दूरी ज्ञात कीजिए।

- Ans
- 1. 2 m
 - 2. 5 m
 - 3. 4 m
 - 4. 3 m

Question ID : 26433071338

Status : Answered

Chosen Option : 3

Q.13 16 के घन और 48 के वर्ग का महत्तम समापवर्तक ज्ञात करें।

- Ans
- 1. 256
 - 2. 128
 - 3. 512
 - 4. 768

Question ID : 264330116658

Status : Answered

Chosen Option : 1

Q.14 बलवेंद्र सीसीटीवी कैमरे की बिक्री पर पहले 9% और 4% की दो क्रमिक छूट देता है और फिर वह Rs.268 की नकद छूट भी देता है। यदि सीसीटीवी कैमरे का अंकित मूल्य Rs.5,000 है, तो किसी ग्राहक के लिए सीसीटीवी कैमरे का अंतिम मूल्य क्या होगा?

- Ans
- 1. Rs.4,000
 - 2. Rs.4,636
 - 3. Rs.4,368
 - 4. Rs.4,100

Question ID : 26433080319

Status : Answered

Chosen Option : 4

Q.15 एक बेईमान दुकानदार क्रय मूल्य पर चावल बेचता है लेकिन वह 1000 ग्राम की जगह 925 ग्राम के गलत वजन का उपयोग करता है। उसका लाभ प्रतिशत ज्ञात कीजिए।

- Ans 1. 8.11 प्रतिशत
 2. 5.3 प्रतिशत
 3. 6.01 प्रतिशत
 4. 7.0 प्रतिशत

Question ID : 26433074336

Status : Answered

Chosen Option : 1

Q.16 एक ठोस लम्ब वृत्तीय बेलन, जिसके आधार की त्रिज्या 22.5 cm है और जिसकी ऊँचाई 24 cm है, को पिघलाकर एक लंब वृत्तीय शंकु के आकार में ढाला जाता है जिसके आधार की त्रिज्या 36 cm है। इस शंकु की ऊँचाई कितनी होगी?

- Ans 1. 28.125 cm
 2. 30.25 cm
 3. 26.225 cm
 4. 29.105 cm

Question ID : 26433075301

Status : Answered

Chosen Option : 1

Q.17 24 पुरुष एक काम को 9 दिनों में पूरा करते हैं। उनके काम शुरू करने के 3 दिन बाद, 8 और पुरुष उनके साथ जुड़ गए। उन सभी को शेष कार्य को पूरा करने में कितने दिन लगेंगे?

- Ans 1. 5.5
 2. 9
 3. 4.5
 4. 4

Question ID : 26433076211

Status : Answered

Chosen Option : 3

Q.18 यदि चाय के मूल्य में 20% की वृद्धि की जाती है, तो चाय की खपत में कितने प्रतिशत की कमी की जानी चाहिए, ताकि चाय पर खर्च में वृद्धि न हो?

- Ans 1. $16\frac{2}{3}\%$
 2. $33\frac{1}{3}\%$
 3. 20%
 4. 25%

Question ID : 26433075138

Status : Answered

Chosen Option : 1

Q.19 एक वस्तु 2.6 मिनट में 15 m और अगले 26 km को 30 km /h की चाल से चलती है। इस पूरी क्रिया के लिए इसकी औसत चाल (m/sec में) ज्ञात कीजिए।

- Ans
- 1. 8.59
 - 2. 2.92
 - 3. 7.94
 - 4. 3.76

Question ID : 26433080002

Status : Not Answered

Chosen Option : --

Q.20 अमन एक कार्य को 78 दिनों में कर सकता है। राम यह कार्य 39 दिनों में कर सकता है। अमन ने अकेले काम शुरू किया। कितने दिनों के बाद राम को उसके साथ जुड़ना चाहिए, ताकि काम 39 दिनों में समाप्त हो जाए?

- Ans
- 1. 39/2 दिन
 - 2. 17/2 दिन
 - 3. 77/2 दिन
 - 4. 27/2 दिन

Question ID : 264330116896

Status : Not Answered

Chosen Option : --

Section : Part-D-English

Q.1 Select the most appropriate option to fill in the blanks in the given sentence.

Shelley is good at _____ and also has a new _____ of the Oxford dictionary launched last month.

- Ans
- 1. addition; edition
 - 2. edition; addition
 - 3. edition; edition
 - 4. addition; addition

Question ID : 26433084774

Status : Answered

Chosen Option : 1

Q.2 Select the most appropriate meaning of the given idiom.

Has bigger fish to fry

- Ans
- 1. Has easier plans to solve the issue
 - 2. Has better choice of food
 - 3. Has greater plans to discuss
 - 4. Has more important work to do

Question ID : 26433073494

Status : Answered

Chosen Option : 4

Q.3 Select the most appropriate synonym of the given word.
Swindle

- Ans**
- 1. Threat
 - 2. Observation
 - 3. Fraud
 - 4. Ride

Question ID : 26433086487
Status : Not Answered
Chosen Option : --

Q.4 Identify the spelling error in the given sentence and select the option that rectifies the error.

He dared to compete against the experienced boxer.

- Ans**
- 1. deired
 - 2. experianced
 - 3. compete
 - 4. ageinst

Question ID : 26433060320
Status : Answered
Chosen Option : 3

Q.5 Select the most appropriate ANTONYM of the given word.
Escalate

- Ans**
- 1. Diminish
 - 2. Enlarge
 - 3. Corrupt
 - 4. Intensify

Question ID : 26433084751
Status : Answered
Chosen Option : 1

Q.6 Select the most appropriate meaning of the given idiom.

A cakewalk

- Ans**
- 1. An easy task or victory
 - 2. An unexpected twist
 - 3. A precious memory to cherish
 - 4. A stylish walk

Question ID : 26433073484
Status : Answered
Chosen Option : 1

Q.7 Select the most appropriate synonym of the word given in the bracket to fill in the blank.

Rohan _____ (insufficient) the compassion required to be a doctor.

- Ans
- 1. voided
 - 2. oversized
 - 3. lacked
 - 4. was deprived

Question ID : 26433084620
Status : Answered
Chosen Option : 3

Q.8 Select the correct word for the blanks in the given sentence.

I need a blue _____ for writing and my brother runs a _____ for dogs.

- Ans
- 1. herd
 - 2. shelter
 - 3. pen
 - 4. nib

Question ID : 26433060531
Status : Answered
Chosen Option : 3

Q.9 Select the most appropriate ANTONYM of the given word.

Follow

- Ans
- 1. Supplant
 - 2. Displace
 - 3. Predate
 - 4. Ensnare

Question ID : 26433084599
Status : Answered
Chosen Option : 4

Q.10 Select the most appropriate option to fill in the blank.

When the separatist tendencies become very active, the unity of any nation can be in _____.

- Ans
- 1. docile
 - 2. solitaire
 - 3. negotiation
 - 4. peril

Question ID : 26433092407
Status : Not Answered
Chosen Option : --

Q.11 Select the most appropriate option that can substitute the underlined segment in the given sentence.

The library is the right place to write an article from a journal.

- Ans
- 1. to fill an article
 - 2. to correct an article
 - 3. to find the article
 - 4. to read an article

Question ID : 26433088986
Status : Answered
Chosen Option : 4

Q.12 Select the most appropriate synonym of the given word.

Calamity

- Ans
- 1. Windfall
 - 2. Prosperity
 - 3. Disaster
 - 4. Fortune

Question ID : 26433074044
Status : Answered
Chosen Option : 3

Q.13 Select the correct spelling of the underlined word in the following sentence.

You can eat anything you like accept the rice pudding.

- Ans
- 1. accede
 - 2. assess
 - 3. except
 - 4. axcept

Question ID : 26433072369
Status : Answered
Chosen Option : 3

Q.14 Select the most appropriate option that can substitute the underlined segment in the given sentence.

The treaty was signed by both the parties to retain the status-quo.

- Ans
- 1. current situation
 - 2. unnatural behaviour
 - 3. class of societies
 - 4. previous condition

Question ID : 26433099875
Status : Not Answered
Chosen Option : --

Q.15 Parts of the following sentence have been given as options. One of them may contain an error. Select the part that contains the error from the given options. If you don't find any error, mark 'No error' as your answer.

Last night I played my guitar loudly and the neighbours complain.

- Ans
- 1. No error
 - 2. Last night I played
 - 3. my guitar loudly
 - 4. and the neighbours complain

Question ID : 26433090486

Status : Answered

Chosen Option : 4

Comprehension:

In the following passage, some words have been deleted. Read the passage carefully and select the most appropriate option to fill in each blank.

Looking at the stars is a glimpse (1) _____ history. Some of the things we see (2) _____ millions of light-years (3) _____. Everything in the universe (4) _____ a past but stars don't try to hide it. They just (5) _____ shining, for everyone to see.

SubQuestion No : 16

Q.16 Select the most appropriate option to fill in blank number 1.

- Ans
- 1. besides
 - 2. up
 - 3. among
 - 4. of

Question ID : 26433089313

Status : Answered

Chosen Option : 4

Comprehension:

In the following passage, some words have been deleted. Read the passage carefully and select the most appropriate option to fill in each blank.

Looking at the stars is a glimpse (1) _____ history. Some of the things we see (2) _____ millions of light-years (3) _____. Everything in the universe (4) _____ a past but stars don't try to hide it. They just (5) _____ shining, for everyone to see.

SubQuestion No : 17

Q.17 Select the most appropriate option to fill in blank number 2.

- Ans
- 1. flush
 - 2. are
 - 3. grow
 - 4. separate

Question ID : 26433089314

Status : Answered

Chosen Option : 3

Comprehension:

In the following passage, some words have been deleted. Read the passage carefully and select the most appropriate option to fill in each blank.

Looking at the stars is a glimpse (1) _____ history. Some of the things we see (2) _____ millions of light-years (3) _____. Everything in the universe (4) _____ a past but stars don't try to hide it. They just (5) _____ shining, for everyone to see.

SubQuestion No : 18

Q.18 Select the most appropriate option to fill in blank number 3.

Ans 1. between

2. away

3. close

4. now

Question ID : 26433089315

Status : Answered

Chosen Option : 2

Comprehension:

In the following passage, some words have been deleted. Read the passage carefully and select the most appropriate option to fill in each blank.

Looking at the stars is a glimpse (1) _____ history. Some of the things we see (2) _____ millions of light-years (3) _____. Everything in the universe (4) _____ a past but stars don't try to hide it. They just (5) _____ shining, for everyone to see.

SubQuestion No : 19

Q.19 Select the most appropriate option to fill in blank number 4.

Ans 1. can

2. has

3. should

4. have

Question ID : 26433089316

Status : Answered

Chosen Option : 2

Comprehension:

In the following passage, some words have been deleted. Read the passage carefully and select the most appropriate option to fill in each blank.

Looking at the stars is a glimpse (1) _____ history. Some of the things we see (2) _____ millions of light-years (3) _____. Everything in the universe (4) _____ a past but stars don't try to hide it. They just (5) _____ shining, for everyone to see.

SubQuestion No : 20

Q.20 Select the most appropriate option to fill in blank number 5.

- Ans 1. part
 2. blight
 3. keep
 4. force

Question ID : 26433089317
Status : Answered
Chosen Option : 3

Section : Part-D-Hindi

Q.1 'खाक में मिलाना' मुहावरे का सही अर्थ क्या है?

- Ans 1. मिट्टी में मिलाना
 2. नष्ट करना
 3. जला देना
 4. प्रमाण नष्ट कर देना

Question ID : 26433065916
Status : Not Answered
Chosen Option : --

Q.2 'अमृत' का पर्याय निम्न में से क्या है?

- Ans 1. पीयूष
 2. अभ्र
 3. हय
 4. तोय

Question ID : 26433062914
Status : Not Answered
Chosen Option : --

Q.3 निम्नलिखित विकल्पों में से 'जो किसी व्यक्ति या संस्था का प्रतिनिधित्व करता हो' वाक्यांश के लिए एक सार्थक शब्द क्या होगा?

- Ans 1. प्रतिनिधि
 2. कर्तव्यपरायण
 3. उत्तरदायी
 4. निष्ठावान

Question ID : 26433062538
Status : Not Answered
Chosen Option : --

Q.4 'हमें गरीब लोगों की मदद करनी चाहिए।' ऊपर दिए वाक्य में रेखांकित स्थान पर आने वाले शब्द का पर्यायवाची क्या होगा?

- Ans
- 1. सहायता
 - 2. परोपकार
 - 3. अवहेलना
 - 4. दया

Question ID : 26433085104
Status : Not Answered
Chosen Option : --

Q.5 निम्न वाक्य में रेखांकित शब्द के विलोम शब्द से रिक्त स्थान की पूर्ति कीजिए।
'कुरूप' होना केवल बाहरी गुण है जबकि _____ होना आंतरिक।

- Ans
- 1. मलिन
 - 2. धनवान
 - 3. धैर्य
 - 4. सुंदर

Question ID : 26433085073
Status : Not Answered
Chosen Option : --

Q.6 निम्नलिखित विकल्पों में से किस एक वाक्य में संख्यावाचक विशेषण का उचित प्रयोग नहीं किया गया है?

- Ans
- 1. मैं शौभाग्यशाली हूँ, जिसका ऐसा मित्र है।
 - 2. गिलास में आधा पानी बचा है।
 - 3. कार में तीन लोग थे।
 - 4. ट्रेन में पचास आदमी थे।

Question ID : 26433062970
Status : Not Answered
Chosen Option : --

Q.7 'खगोल' शब्द का विलोम क्या होगा?

- Ans
- 1. पाताल
 - 2. पृथ्वी
 - 3. भूगोल
 - 4. पहाड़

Question ID : 26433067095
Status : Not Answered
Chosen Option : --

Q.8 निम्न विकल्पों में से शुद्ध वाक्य का चयन कीजिए।

- Ans
- 1. मैंने आज भात नहीं खाया हूँ।
 - 2. विश्वेश्वर ने दो मकान खरीदे।
 - 3. पत्नी ने एक पत्र लिखी।
 - 4. वह बैठे और एक कहानी सुनाया।

Question ID : 26433063076

Status : Not Answered

Chosen Option : --

Q.9 निम्न वाक्य में रेखांकित शब्द को विकल्पों में दिए गए शब्दों में से सर्वाधिक उपयुक्त शब्द से बदलें।
समालोचक साहित्य का अंवेक्षण करते हैं।

- Ans
- 1. अध्ययन
 - 2. अनुसंधान
 - 3. विरेचन
 - 4. अनुशीलन

Question ID : 26433062877

Status : Not Answered

Chosen Option : --

Q.10 निम्नलिखित वाक्य में रेखांकित खंड के स्थान पर प्रयुक्त होने वाले सबसे उपयुक्त विकल्प का चयन कीजिए।

मुख्य अतिथि ने छात्रों से पुरस्कार प्रदान किए।

- Ans
- 1. के साथ
 - 2. का
 - 3. को
 - 4. में

Question ID : 26433079664

Status : Not Answered

Chosen Option : --

Q.11 निम्नलिखित में से विशेषण सम्बन्धी अशुद्धि युक्त वाक्य का चयन कीजिए।

- Ans
- 1. यह एक बढ़िया किताब है।
 - 2. तुम बहुत धीरे स्वर में बोलते हो।
 - 3. यह एक अच्छा विकल्प है।
 - 4. यह पीले फूलों की माला है।

Question ID : 26433062998

Status : Not Answered

Chosen Option : --

Q.12 'नयनों को सुंदर लगने वाला' वाक्यांश के लिए उचित शब्द क्या होगा?

- Ans
- 1. मनोहर
 - 2. नयनाभिराम
 - 3. अनुपम
 - 4. अतुलनीय

Question ID : 26433067069

Status : Not Answered

Chosen Option : --

Q.13 'मन वृन्दावन होना' मुहावरे का सही अर्थ है -

- Ans
- 1. अत्यधिक प्रसन्न होना
 - 2. प्रेम हो जाना
 - 3. भक्ति भाव होना
 - 4. घूमने जाना

Question ID : 26433065932

Status : Not Answered

Chosen Option : --

Q.14 निम्नलिखित वाक्य के किस शब्द में अशुद्धि है?
राम और श्याम विद्यालय जा रहे हैं।

- Ans
- 1. श्याम
 - 2. राम
 - 3. रहे
 - 4. विद्यालय

Question ID : 26433066764

Status : Not Answered

Chosen Option : --

Q.15 निम्नलिखित वाक्यांश के लिए उपयुक्त सार्थक शब्द क्या होगा?
सूर्य के डूबने का समय

- Ans
- 1. अस्ताचल
 - 2. क्षितिज
 - 3. सूर्यास्त
 - 4. उदयाचल

Question ID : 26433073310

Status : Not Answered

Chosen Option : --

Comprehension:

प्रश्न संख्या 1 से 5 तक के उत्तर दिए गए गद्यांश के आधार पर दीजिए।
मिठाइयों के बाद कुछ दुकानें लोहे की चीज़ों की हैं, कुछ गिलट और कुछ नकली गहनों की। लड़कों के लिए यहाँ कोई 1. _____ न था। वे सब आगे बढ़ जाते हैं। हामिद लोहे की दुकान पर रुक जाता है। कई चिमटे रखे हुए थे। उसे ख्याल आया, दादी के पास चिमटा नहीं है। तब से 2. _____ उतारती हैं तो हाथ जल जाता है। अगर वह चिमटा ले जाकर दादी को दे दे, तो वह कितनी 3. _____ होंगी ! फिर उनकी उँगलियाँ कभी न जलेंगी। घर में काम की चीज़ हो जाएगी। खिलौनों से क्या फायदा ? व्यर्थ में पैसे खराब होते हैं। ज़रा देर ही तो 4. _____ होती है। फिर तो खिलौने को कोई आँख उठाकर नहीं देखता। ये तो घर पहुँचते-पहुँचते टूट-फूट कर बराबर हो जाएँगे। 5. _____ कितने काम की चीज़ है! रोटियाँ तब से उतार लो, चूल्हे में सेंक लो।

SubQuestion No : 16

Q.16 विकल्पों में से उपयुक्त शब्द के चयन द्वारा रिक्त स्थान 1 की पूर्ति कीजिए।

- Ans 1. आवश्यक
 2. आकर्षण
 3. विशेषता
 4. आसरा

Question ID : 26433069919

Status : Not Answered

Chosen Option : --

Comprehension:

प्रश्न संख्या 1 से 5 तक के उत्तर दिए गए गद्यांश के आधार पर दीजिए।
मिठाइयों के बाद कुछ दुकानें लोहे की चीज़ों की हैं, कुछ गिलट और कुछ नकली गहनों की। लड़कों के लिए यहाँ कोई 1. _____ न था। वे सब आगे बढ़ जाते हैं। हामिद लोहे की दुकान पर रुक जाता है। कई चिमटे रखे हुए थे। उसे ख्याल आया, दादी के पास चिमटा नहीं है। तब से 2. _____ उतारती हैं तो हाथ जल जाता है। अगर वह चिमटा ले जाकर दादी को दे दे, तो वह कितनी 3. _____ होंगी ! फिर उनकी उँगलियाँ कभी न जलेंगी। घर में काम की चीज़ हो जाएगी। खिलौनों से क्या फायदा ? व्यर्थ में पैसे खराब होते हैं। ज़रा देर ही तो 4. _____ होती है। फिर तो खिलौने को कोई आँख उठाकर नहीं देखता। ये तो घर पहुँचते-पहुँचते टूट-फूट कर बराबर हो जाएँगे। 5. _____ कितने काम की चीज़ है! रोटियाँ तब से उतार लो, चूल्हे में सेंक लो।

SubQuestion No : 17

Q.17 विकल्पों में से उपयुक्त शब्द के चयन द्वारा रिक्त स्थान 2 की पूर्ति कीजिए।

- Ans 1. पूरियाँ
 2. फुलकियाँ
 3. कचौरियाँ
 4. रोटियाँ

Question ID : 26433069920

Status : Not Answered

Chosen Option : --

Comprehension:

प्रश्न संख्या 1 से 5 तक के उत्तर दिए गए गद्यांश के आधार पर दीजिए।
मिठाइयों के बाद कुछ दुकानें लोहे की चीज़ों की हैं, कुछ गिलट और कुछ नकली गहनों की। लड़कों के लिए यहाँ कोई 1. _____ न था। वे सब आगे बढ़ जाते हैं। हामिद लोहे की दुकान पर रुक जाता है। कई चिमटे रखे हुए थे। उसे ख्याल आया, दादी के पास चिमटा नहीं है। तब से 2. _____ उतारती हैं तो हाथ जल जाता है। अगर वह चिमटा ले जाकर दादी को दे दे, तो वह कितनी 3. _____ होंगी ! फिर उनकी उँगलियाँ कभी न जलेंगी। घर में काम की चीज़ हो जाएगी। खिलौनों से क्या फायदा ? व्यर्थ में पैसे खराब होते हैं। ज़रा देर ही तो 4. _____ होती है। फिर तो खिलौने को कोई आँख उठाकर नहीं देखता। ये तो घर पहुँचते-पहुँचते टूट-फूट कर बराबर हो जाएँगे। 5. _____ कितने काम की चीज़ है! रोटियाँ तब से उतार लो, चूल्हे में सेंक लो।

SubQuestion No : 18

Q.18 विकल्पों में से उपयुक्त शब्द के चयन द्वारा रिक्त स्थान 3 की पूर्ति कीजिए।

- Ans 1. दुःखी
 2. सौभाग्यशाली
 3. प्रसन्न
 4. निराश

Question ID : 26433069921

Status : Not Answered

Chosen Option : --

Comprehension:

प्रश्न संख्या 1 से 5 तक के उत्तर दिए गए गद्यांश के आधार पर दीजिए।
मिठाइयों के बाद कुछ दुकानें लोहे की चीज़ों की हैं, कुछ गिलट और कुछ नकली गहनों की। लड़कों के लिए यहाँ कोई 1. _____ न था। वे सब आगे बढ़ जाते हैं। हामिद लोहे की दुकान पर रुक जाता है। कई चिमटे रखे हुए थे। उसे ख्याल आया, दादी के पास चिमटा नहीं है। तब से 2. _____ उतारती हैं तो हाथ जल जाता है। अगर वह चिमटा ले जाकर दादी को दे दे, तो वह कितनी 3. _____ होंगी ! फिर उनकी उँगलियाँ कभी न जलेंगी। घर में काम की चीज़ हो जाएगी। खिलौनों से क्या फायदा ? व्यर्थ में पैसे खराब होते हैं। ज़रा देर ही तो 4. _____ होती है। फिर तो खिलौने को कोई आँख उठाकर नहीं देखता। ये तो घर पहुँचते-पहुँचते टूट-फूट कर बराबर हो जाएँगे। 5. _____ कितने काम की चीज़ है! रोटियाँ तब से उतार लो, चूल्हे में सेंक लो।

SubQuestion No : 19

Q.19 विकल्पों में से उपयुक्त शब्द के चयन द्वारा रिक्त स्थान 4 की पूर्ति कीजिए।

- Ans 1. आशा
 2. खुशी
 3. उत्सुकता
 4. आस

Question ID : 26433069922

Status : Not Answered

Chosen Option : --

Comprehension:

प्रश्न संख्या 1 से 5 तक के उत्तर दिए गए गद्यांश के आधार पर दीजिए।
मिठाइयों के बाद कुछ दुकानों लोहे की चीज़ों की हैं, कुछ गिलट और कुछ नकली गहनों की। लड़कों के लिए यहाँ कोई 1. _____ न था। वे सब आगे बढ़ जाते हैं। हमिद लोहे की दुकान पर रुक जाता है। कई चिमटे रखे हुए थे। उसे ख्याल आया, दादी के पास चिमटा नहीं है। तवे से 2. _____ उतारती हैं तो हाथ जल जाता है। अगर वह चिमटा ले जाकर दादी को दे दे, तो वह कितनी 3. _____ होंगी ! फिर उनकी उँगलियाँ कभी न जलेंगी। घर में काम की चीज़ हो जाएगी। खिलौनों से क्या फायदा ? व्यर्थ में पैसे खराब होते हैं। ज़रा देर ही तो 4. _____ होती है। फिर तो खिलौने को कोई आँख उठाकर नहीं देखता। ये तो घर पहुँचते-पहुँचते टूट-फूट कर बराबर हो जाएँगे। 5. _____ कितने काम की चीज़ है! रोटियाँ तवे से उतार लो, चूल्हे में सेंक लो।

SubQuestion No : 20

Q.20 विकल्पों में से उपयुक्त शब्द के चयन द्वारा रिक्त स्थान 5 की पूर्ति कीजिए।

- Ans 1. चिमटा
 2. चिमटी
 3. प्लास
 4. पेचकस

Question ID : 26433069923

Status : Not Answered

Chosen Option : --

www.exammix.com

Constable GD in CAPFs SSF Rifleman GD in Assam Rifles and Sepoy in NCB Examination 2022

| | |
|----------------|-------------------------------|
| Roll Number | |
| Candidate Name | |
| Venue Name | |
| Exam Date | 07/02/2023 |
| Exam Time | 11:45 AM - 12:45 PM |
| Subject | Constable GD Examination 2022 |

Section : Part-A-General Intelligence and Reasoning

Q.1 आठ व्यक्ति - D, E, G, H, M, N, Y और Z एक सीधी पंक्ति में उत्तर की ओर मुख करके बैठे हैं। Y पंक्ति के किसी एक सिरे पर बैठा है। Y और Z के बीच केवल दो व्यक्ति बैठे हैं। E, Z के दाईं ओर तीसरे स्थान पर बैठा है। E और D के बीच केवल चार व्यक्ति बैठे हैं। G, E के दाईं ओर किसी एक स्थान पर बैठा है। N, Z के ठीक बगल में नहीं बैठा है। H, M के दाईं ओर दूसरे स्थान पर बैठा है। M के बाईं ओर कितने व्यक्ति बैठे हैं?

- Ans
- 1. एक
 - 2. कोई नहीं
 - 3. दो
 - 4. तीन

Q.2 'C \$ D' का अर्थ है 'C, D का भाई है'
'C # D' का अर्थ है 'C, D की बहन है'
'C + D' का अर्थ है 'C, D का पिता है'
'C - D' का अर्थ है 'C, D की माता है'
यदि 'P \$ Z + Q \$ B' है, तो P, B से किस प्रकार संबंधित है?

- Ans
- 1. P, B का पिता है
 - 2. P, B का चाचा/ताऊ है
 - 3. P, B का भाई है
 - 4. P, B का ससुर है

Question ID : 26433087126

Status : Answered

Chosen Option : 2

Q.3 उस विकल्प का चयन कीजिए जो तीसरे शब्द से उसी प्रकार संबंधित है जिस प्रकार दूसरा शब्द पहले शब्द से संबंधित है। (शब्दों को अर्थपूर्ण शब्दों के रूप में मानना है और उन्हें शब्द में अक्षरों/व्यंजनों/स्वरों की संख्या के आधार पर एक-दूसरे से संबंधित नहीं करना है।)
सोमवार : गुरुवार :: बुधवार : ?

- Ans
- 1. शनिवार
 - 2. सोमवार
 - 3. शुक्रवार
 - 4. रविवार

Question ID : 26433067977

Status : Answered

Chosen Option : 1

Q.4 एक निश्चित कूट भाषा में, 'we can go' को 'ti mi pi' के रूप में लिखा जाता है, 'can i sit' को 'pi ri di' के रूप में लिखा जाता है और 'sit and go' को 'di si ti' के रूप में लिखा जाता है। उसी भाषा में 'and' को कैसे लिखा जाएगा?

- Ans
- 1. pi
 - 2. ti
 - 3. di
 - 4. si

Question ID : 26433070327

Status : Answered

Chosen Option : 4

Q.5 निम्नलिखित में से कौन सी संख्या दी गई श्रृंखला में प्रश्न चिह्न (?) के स्थान पर आएगी?
665, 670, 663, 674, 661, 678, ?, 682

- Ans
- 1. 676
 - 2. 680
 - 3. 659
 - 4. 625

Question ID : 26433089767

Status : Answered

Chosen Option : 3

Q.6 एक निश्चित कूट भाषा में 'GLAD' शब्द को 'ZLADG' लिखा जाता है। 'SCAR' शब्द को 'ZCARS' लिखा जाता है। उसी भाषा में 'LOST' शब्द को कैसे लिखा जाएगा?

- Ans
- 1. ZLOST
 - 2. ZTLOS
 - 3. ZOTLS
 - 4. ZOSTL

Question ID : 26433090108

Status : Answered

Chosen Option : 4

Q.7 उस विकल्प का चयन करें, जो चौथे पद से उसी प्रकार संबंधित है जिस प्रकार पहला पद दूसरे पद से संबंधित है और पाँचवाँ पद छठे पद से संबंधित है।
407 : 37 :: ? : 59 :: 253 : 23

- Ans
- 1. 341
 - 2. 539
 - 3. 738
 - 4. 649

Question ID : 26433074549
Status : Answered
Chosen Option : 4

Q.8 नीचे दिए गए समीकरण को गणितीय रूप से सही बनाने के लिए किन दो गणितीय चिन्हों को परस्पर बदलना चाहिए?
 $12 + 112 \div 16 - 8 \times 64 = 140$

- Ans
- 1. \div और \times
 - 2. $+$ और \div
 - 3. $+$ और \times
 - 4. $+$ और $-$

Question ID : 264330117562
Status : Answered
Chosen Option : 3

Q.9 उस विकल्प का चयन कीजिए जो पांचवें पद से उसी प्रकार संबंधित है जिस प्रकार दूसरा पद पहले पद से और चौथा पद तीसरे पद से संबंधित है।
STAY : ASTY :: BEAM : ABEM :: RIDE : ?

- Ans
- 1. DEIR
 - 2. SJEF
 - 3. EFHQ
 - 4. DRIE

Question ID : 26433087193
Status : Answered
Chosen Option : 1

Q.10 निम्नलिखित में से कौन-सा पद दी गई श्रृंखला में प्रश्न-चिह्न (?) के स्थान पर आएगा?
DVH, FWM, JZR, LAW, PDB, ?

- Ans
- 1. SFG
 - 2. SHE
 - 3. RFH
 - 4. REG

Question ID : 26433069454
Status : Answered
Chosen Option : 4

Q.11 पाँच दोस्त A, B, C, D और E एक पंक्ति में उत्तर की ओर मुख करके बैठे हैं। E, D के दाईं ओर ठीक बगल में है, और A बाएं सिरे पर है। C, A और D के ठीक मध्य में है। E के दाईं ओर ठीक बगल में कौन होगा?

- Ans
- 1. D
 - 2. A
 - 3. B
 - 4. C

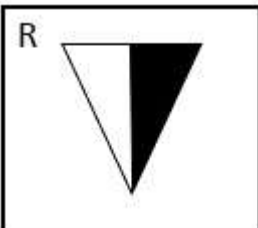
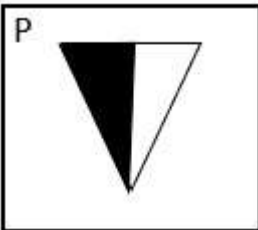
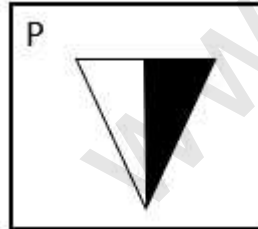
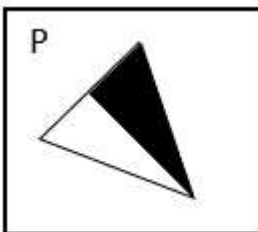
Question ID : 26433079063
 Status : Answered
 Chosen Option : 3

Q.12 निम्नलिखित आकृति शृंखला में प्रश्न-चिह्न (?) के स्थान पर नीचे दिए गए

विकल्पों में से कौन-सी आकृति आएगी?



Ans

- 1. 
- 2. 
- 3. 
- 4. 

Question ID : 26433081693
 Status : Answered
 Chosen Option : 3

Q.13 निम्नलिखित में से कौन सा विकल्प नीचे दिए गए शब्दों के उस क्रम को निरूपित करता है जिस क्रम में वे अंग्रेजी शब्दकोश में आते हैं?

1. Expensive
2. Experiment
3. Expertise
4. Expiry
5. Expert

Ans ✓ 1. 1, 2, 5, 3, 4

✗ 2. 1, 2, 3, 4, 5

✗ 3. 2, 1, 5, 3, 4

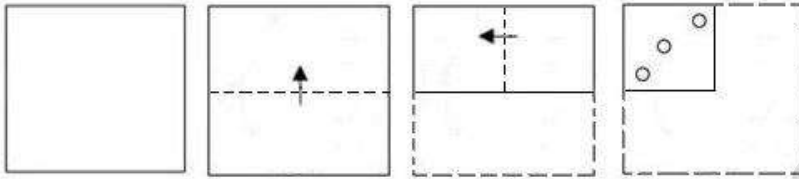
✗ 4. 1, 2, 3, 5, 4

Question ID : 26433086969

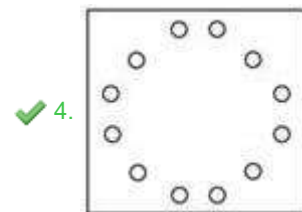
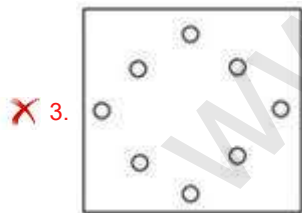
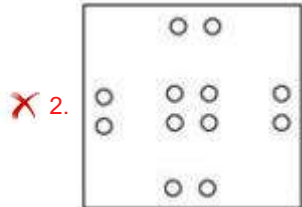
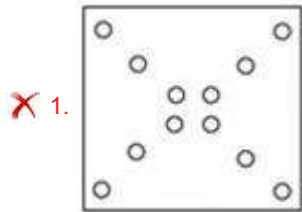
Status : Answered

Chosen Option : 1

Q.14 एक कागज को नीचे दिखाए अनुसार मोड़ा और काटा गया है। कागज की तह खुलने पर यह कैसा दिखाई देगा?



Ans



Question ID : 26433090955

Status : Answered

Chosen Option : 4

Q.15 विकल्पों में दिए गए गणितीय चिह्नों का कौन सा संयोजन निम्न समीकरण में * चिह्नों के स्थान पर क्रमिक रूप से आकर समीकरण को संतुलित करेगा?
 $91 * 7 * 2 * 4 * 10 * 5$

Ans 1. +, -, =, ÷, ×

2. ÷, =, ×, +, -

3. ×, ÷, +, =, -

4. ×, ÷, +, -, =

Question ID : 26433094994

Status : Answered

Chosen Option : 2

Q.16 तीन कथन दिए गए हैं, जिनके बाद तीन निष्कर्ष I, II और III दिए गए हैं। कथनों को सत्य मानते हुए, भले ही वे सामान्य रूप से ज्ञात तथ्यों से भिन्न प्रतीत होते हों, निर्धारित करें कि कौन-सा/से निष्कर्ष कथनों का तार्किक रूप से अनुसरण करता है/करते हैं।

कथन:

सभी सेब संतरे हैं।

कुछ संतरे केले हैं।

सभी केले कीवी हैं।

निष्कर्ष:

I. कुछ संतरे कीवी हैं।

II. कुछ संतरे सेब हैं।

III. कुछ सेब केले हैं।

Ans 1. केवल निष्कर्ष III अनुसरण करता है

2. सभी निष्कर्ष अनुसरण करते हैं

3. केवल निष्कर्ष II और III अनुसरण करते हैं

4. केवल निष्कर्ष I और II अनुसरण करते हैं

Question ID : 26433090998

Status : Answered

Chosen Option : 4

Q.17 दी गई आकृति की सही दर्पण-प्रतिबिंब का चयन करें, जब दर्पण को MN पर रखा जाता है, जैसा कि नीचे दिखाया गया है।



- Ans
- ✗ 1. $\text{b t } \cap \text{C } \text{? } \Delta \text{E}$
 - ✗ 2. $\text{b t } a \text{C } \text{? } \nabla \text{E}$
 - ✓ 3. $\text{b t } \cap \text{C } \text{? } \Delta \text{E}$
 - ✗ 4. $\text{b t } a \text{ } \cap \text{? } \Delta \text{E}$

Question ID : 26433090147

Status : Answered

Chosen Option : 3

Q.18 निम्नलिखित में से कौन सी संख्या दी गई श्रृंखला में प्रश्न चिह्न (?) के स्थान पर आएगी?
23, 50, 108, 228, ?, 964

- Ans
- ✗ 1. 478
 - ✗ 2. 474
 - ✗ 3. 468
 - ✓ 4. 472

Question ID : 26433085642

Status : Answered

Chosen Option : 4

Q.19 कौन-सा अक्षर-समूह दी गई श्रृंखला में प्रश्नचिह्न (?) के स्थान पर आकर श्रृंखला को पूर्ण करेगा?
KSCA, OXWG, ?, WHKS, AMEY

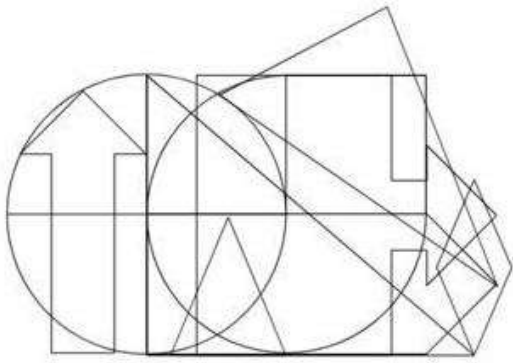
- Ans
- ✓ 1. SCQM
 - ✗ 2. TQMS
 - ✗ 3. XTRM
 - ✗ 4. VGMR

Question ID : 26433079425

Status : Answered


Chosen Option : 1

Q.20 उस विकल्प आकृति का चयन करें जो नीचे दी गई आकृति में अंतर्निहित है।
(आकृति घुमाने की अनुमति नहीं है)




Ans

✗ 1.




✗ 2.



✓ 3.



✗ 4.



Section : Part-B-General Knowledge and General awareness

Q.1 उपभोक्ता पोषक तत्वों के _____ के साथ बेहतर गुणवत्ता वाले खाद्य पदार्थों की अपेक्षा करते हैं।

- Ans
- 1. मिलावट
 - 2. संदूषण
 - 3. प्रतिधारण
 - 4. बहिष्करण

Question ID : 264330115265
Status : Answered
Chosen Option : 2

Q.2 बक्सर का युद्ध _____ में लड़ा गया था।

- Ans
- 1. 1757
 - 2. 1755
 - 3. 1760
 - 4. 1764

Question ID : 264330115726
Status : Answered
Chosen Option : 4

Q.3 बैडमिंटन पोस्ट की ऊँचाई कितनी होती है?

- Ans
- 1. 1.55 m
 - 2. 1.85 m
 - 3. 1.80 m
 - 4. 1.45 m

Question ID : 26433092336
Status : Not Answered
Chosen Option : --

Q.4 किसी राज्य के राज्यपाल के सभी कार्यकारी कार्यों को _____ के नाम से किया जाना अभिव्यक्त किया जाएगा।

- Ans
- 1. मुख्यमंत्री
 - 2. मंत्रिमंडल
 - 3. राज्यपाल
 - 4. महाधिवक्ता

Question ID : 26433089187
Status : Answered
Chosen Option : 1

Q.5 बेंगलुरु में 108 फीट ऊंची कांस्य प्रतिमा, स्टेचू ऑफ़ प्रोस्पेरिटी, जिसका उद्घाटन प्रधानमंत्री नरेंद्र मोदी ने किया था, किसकी स्मृति में बनाई गई है?

- Ans
- 1. वल्लभभाई पटेल
 - 2. नादप्रभु केम्पेगौड़ा
 - 3. मगदी केम्पेगौड़ा
 - 4. ऋषभनाथ

Question ID : 264330115052

Status : Answered

Chosen Option : 4

Q.6 तंजौर बालासरस्वती एक प्रसिद्ध _____ नृत्यांगना थीं।

- Ans
- 1. कुचिपुड़ी
 - 2. भरतनाट्यम
 - 3. सत्रीया
 - 4. ओडिसी

Question ID : 264330115894

Status : Answered

Chosen Option : 2

Q.7 कौन से राजनीतिक नेता जून 2022 में केरल के थिक्काकारा निर्वाचन क्षेत्र से विधान सभा के सदस्य बने?

- Ans
- 1. जगदीप धनखड़
 - 2. अमित शाह
 - 3. पिनाराई विजयन
 - 4. उमा थॉमस

Question ID : 264330114972

Status : Answered

Chosen Option : 3

Q.8 धनात्मक शुद्ध निर्यात वाले राष्ट्र में व्यापार _____ होता/होती है।

- Ans
- 1. ऋण
 - 2. घाटा
 - 3. अधिशेष
 - 4. राशि

Question ID : 264330115349

Status : Answered

Chosen Option : 3

Q.9 निम्न में से एक ऐसे तत्व की पहचान करें, जो अर्ध-धातु नहीं है।

- Ans
- 1. आर्सेनिक
 - 2. सीजियम
 - 3. सिलिकॉन
 - 4. जर्मेनियम

Question ID : 26433087853

Status : Answered

Chosen Option : 2

Q.10 दिए गए विकल्पों में से _____ सिंचाई की एक विधि है।

- Ans
- 1. नहर
 - 2. दोहरी फसल लेना
 - 3. जुताई
 - 4. सीढ़ीदार खेती

Question ID : 264330115434

Status : Answered

Chosen Option : 1

Q.11 सूर्य पृथ्वी से लगभग _____ कि.मी. दूर है।

- Ans
- 1. 50 मिलियन
 - 2. 20 मिलियन
 - 3. 150 मिलियन
 - 4. 100 मिलियन

Question ID : 264330116092

Status : Not Answered

Chosen Option : --

Q.12 फुटबॉल मैच में टच लाइन की अधिकतम लंबाई कितनी होती है?

- Ans
- 1. 90 m
 - 2. 120 m
 - 3. 100 m
 - 4. 110 m

Question ID : 26433090753

Status : Answered

Chosen Option : 2

Q.13 _____ बजट से भारत में बजट घाटा दिखाने की प्रथा बंद कर दी गई है।

- Ans
- 1. 1994-95
 - 2. 1997-98
 - 3. 2003-04
 - 4. 2001-02

Question ID : 26433054803
Status : Not Answered
Chosen Option : --

Q.14 निम्नलिखित में से कौन एक भरतनाट्यम नर्तकी है?

- Ans
- 1. सितारा देवी
 - 2. तंजौर बालासरस्वती
 - 3. वी सत्यनारायण शर्मा
 - 4. कलामंडलम कल्याणीकुट्टी अम्मा

Question ID : 26433071691
Status : Answered
Chosen Option : 4

Q.15 प्रसिद्ध शासक कनिष्क _____ वंश के थे।

- Ans
- 1. हूण
 - 2. कुषाण
 - 3. शुंग
 - 4. शक

Question ID : 26433089863
Status : Answered
Chosen Option : 2

Q.16 वर्तमान में, पृथ्वी पर अलवणजल के 70 प्रतिशत स्रोत कहां से प्राप्त किए जा सकते हैं?

- Ans
- 1. अंटार्कटिका, ग्रीनलैंड और दुनिया के पहाड़ी क्षेत्र
 - 2. प्रशांत महासागर
 - 3. हिमालय और आर्कटिक महासागर
 - 4. हिमालय और बंगाल की खाड़ी

Question ID : 26433087892
Status : Answered
Chosen Option : 1

Q.17 निम्नलिखित राजनीतिक नेताओं में से कौन अगस्त 2022 में वेंकैया नायडू के बाद भारत के उपराष्ट्रपति बने?

- Ans
- 1. विश्वभूषण हरिचंदन
 - 2. जगदीप धनखड़
 - 3. आरिफ मोहम्मद खान
 - 4. भगत सिंह कोश्यारी

Question ID : 264330114888

Status : Answered

Chosen Option : 2

Q.18 निम्नलिखित में से किस अनुच्छेद के तहत संपत्ति के अधिकार को कानूनी अधिकार के रूप में स्थानांतरित कर दिया गया है?

- Ans
- 1. अनुच्छेद 301-A
 - 2. अनुच्छेद 333
 - 3. अनुच्छेद 345
 - 4. अनुच्छेद 300-A

Question ID : 26433089181

Status : Answered

Chosen Option : 4

Q.19 व्यक्तिगत संचार के साधनों का एक उदाहरण दें।

- Ans
- 1. रेडियो
 - 2. कंप्यूटर
 - 3. टेलीफोन सेवा
 - 4. टेलीविजन

Question ID : 264330115596

Status : Answered

Chosen Option : 3

Q.20 विशु पर्व मुख्य रूप से भारत के निम्नलिखित में से किस राज्य में मनाया जाता है?

- Ans
- 1. केरल
 - 2. मध्य प्रदेश
 - 3. असम
 - 4. राजस्थान

Question ID : 26433094896

Status : Answered

Chosen Option : 1

Q.1 जब एक ब्लूटूथ ईयरफोन की कीमत में 12% की वृद्धि की जाती है, तो इसकी बिक्री(ब्लूटूथ ईयरफोन की संख्या) 20% कम हो जाती है। इसके राजस्व पर पड़ने वाला शुद्ध प्रभाव क्या है?

- Ans
- 1. 14.0% की कमी
 - 2. 10.4% की कमी
 - 3. 10.4% की वृद्धि
 - 4. 14.0% की वृद्धि

Question ID : 26433080294

Status : Answered

Chosen Option : 2

Q.2 एक अलमारी ₹15,500 में खरीदी गई और ₹260 इसके परिवहन पर खर्च किए गए। 20% का लाभ प्राप्त करने के लिए इसे किस कीमत पर बेचा जाना चाहिए?

- Ans
- 1. ₹18910
 - 2. ₹18916
 - 3. ₹18912
 - 4. ₹18914

Question ID : 26433079772

Status : Answered

Chosen Option : 3

Q.3 दिए गए व्यंजक का मान क्या है?

$$9 \div \frac{3}{5} + 25 \left(\frac{4}{5} + \frac{3}{15} \right) - 9 \text{ of } \frac{2}{3}$$

- Ans
- 1. 42
 - 2. 37
 - 3. 45
 - 4. 34

Question ID : 26433081636

Status : Answered

Chosen Option : 4

Q.4 चेन्नई में एक आई.पी.एल. मैच का टिकट ₹2,500 का था। जब टिकट की कीमत कम की गई, तो टिकटों की बिक्री(टिकटों की संख्या) में 50% की वृद्धि हुई, लेकिन राजस्व में 15% की कमी देखी गई। टिकट की घटी हुई कीमत (दशमलव के बाद दो स्थानों तक पूर्णांकित) क्या थी?

- Ans
- 1. ₹2,250.33
 - 2. ₹2,125.67
 - 3. ₹1,450.33
 - 4. ₹1416.67

Question ID : 26433076222

Status : Answered

Chosen Option : 4

Q.5 एक दुकानदार फलों का उपहार पैकेट बेच रहा है, जिसमें वह सेब और आम मिला कर दे रहा है। पैकेट में ₹100 प्रति kg की औसत दर से कुल 12 kg फल हैं। पैकेट में ₹90 प्रति kg की दर से 8 kg सेब हैं, जबकि ₹X प्रति kg की दर से 4 kg आम हैं। 'X' का मान ज्ञात करें।
नोट: पैकिंग के लिए अन्य सभी शुल्कों पर ध्यान नहीं दिया जाना है।

- Ans
- 1. 110
 - 2. 100
 - 3. 120
 - 4. 95

Question ID : 26433082498

Status : Answered

Chosen Option : 3

Q.6 रमेश को ₹800 के अंकित मूल्य वाली एक पुस्तक पर दो ऑफर मिल रहे थे। वह या तो 20% प्रत्येक की दो क्रमिक छूट ले सकता था, या 30% और 10% की दो क्रमिक छूट ले सकता था। यदि रमेश ने बेहतर ऑफर वाली योजना को चुना होता, तो उसने अन्य योजना के मुकाबले कितनी अधिक बचत की होती?

- Ans
- 1. ₹8
 - 2. ₹6
 - 3. ₹16
 - 4. ₹20

Question ID : 26433076328

Status : Answered

Chosen Option : 1

Q.7 Rs.1,920 में बेची गई किसी वस्तु पर अर्जित लाभ का प्रतिशत, Rs.1,280 में इसी वस्तु को बेचे जाने पर हुई हानि के प्रतिशत के बराबर है। 25% लाभ कमाने के लिए वस्तु को किस कीमत पर बेचा जाना चाहिए?

- Ans
- 1. Rs.2,000
 - 2. Rs.1,940
 - 3. Rs.2,020
 - 4. Rs.1,960

Question ID : 26433075847

Status : Answered

Chosen Option : 1

Q.8 एक पुलिसकर्मी ने 420 m की दूरी से एक चोर को देखा। चोर भागने लगता है और पुलिसकर्मी उसका पीछा करता है। पुलिसकर्मी और चोर क्रमशः 25 km/h और 20 km/h की चाल से दौड़ते हैं। तीन मिनट के बाद उनके बीच की दूरी क्या होगी?

- Ans
- 1. 250 m
 - 2. 320 m
 - 3. 170 m
 - 4. 230 m

Question ID : 26433075739

Status : Answered

Chosen Option : 3

Q.9 A और B एक साथ काम करते हुए एक प्रोजेक्ट को 16 दिनों में पूरा कर सकते हैं जबकि B अकेला इसे 24 दिनों में पूरा कर सकता है। A अकेले प्रोजेक्ट को कितने दिनों में पूरा कर सकता है?

- Ans
- 1. 44 दिन
 - 2. 36 दिन
 - 3. 48 दिन
 - 4. 42 दिन

Question ID : 26433080362

Status : Answered

Chosen Option : 3

Q.10 40 आदमी एक काम को 15 दिनों में पूरा कर सकते हैं। उन्होंने काम करना शुरू किया, और 5 दिनों के बाद 10 और आदमी उनके साथ जुड़ गए। पूरा काम कितने दिनों में पूरा होगा?

- Ans
- 1. 12
 - 2. 11
 - 3. 13
 - 4. 10

Question ID : 26433082991

Status : Answered

Chosen Option : 3

Q.11 एक गोले का संपूर्ण पृष्ठीय क्षेत्रफल 22176 cm^2 है। गोले का व्यास ज्ञात कीजिए।

$$\left(\pi = \frac{22}{7} \text{ का उपयोग कीजिए} \right)$$

- Ans
- 1. 24 cm
 - 2. 42 cm
 - 3. 21 cm
 - 4. 84 cm

Question ID : 26433087407

Status : Answered

Chosen Option : 4

Q.12 एक इलेक्ट्रॉनिक दुकान किसी भी इलेक्ट्रॉनिक उपकरण की खरीद पर 20% की छूट दे रही है, जिसकी कीमत ₹80,000 या उससे अधिक है, ₹50,000 और ₹79,999 के बीच की वस्तुओं पर 16% की छूट, ₹20,000 से लेकर ₹49,999 तक की वस्तुओं पर 10% की छूट और मोबाइल कवर, इयरफ़ोन, चार्जर आदि जैसे किसी भी मोबाइल एक्सेसरीज़ की खरीद पर 3% की छूट दे रही है। नियम और शर्तों के अनुसार ये सभी छूट स्वतंत्र हैं और केवल मूल्य रेंज के आधार पर प्रदान की जाती हैं। अजय ने ₹40,000 की कीमत का एक मोबाइल, ₹90,000 का एक लैपटॉप और ₹400 का एक मोबाइल कवर खरीदा। उसे कुल कितनी छूट मिली?

- Ans
- 1. ₹22,002
 - 2. ₹22,120
 - 3. ₹22,012
 - 4. ₹21,012

Question ID : 26433082504

Status : Answered

Chosen Option : 3

Q.13 एक राशि चक्रवृद्धि ब्याज पर 3 वर्षों में Rs.4,900 और 5 वर्षों में Rs.6,400 हो जाती है, जब ब्याज वार्षिक रूप से चक्रवृद्धि किया जाता है। वार्षिक ब्याज दर ज्ञात कीजिए।

- Ans
- 1. $13\frac{2}{7}\%$
 - 2. $11\frac{2}{7}\%$
 - 3. $12\frac{2}{7}\%$
 - 4. $14\frac{2}{7}\%$

Question ID : 26433082979

Status : Answered

Chosen Option : 4

Q.14 वर्ष 2019 में ₹1,20,000 की राशि का 12% वार्षिक की दर से सावधि जमा में निवेश किया गया था, जिसकी गणना वार्षिक चक्रवृद्धि आधार पर की गई। वर्ष 2022 में इसका मूल्य लगभग क्या होगा?

- Ans
- 1. ₹1,61,253
 - 2. ₹1,43,200
 - 3. ₹1,68,591
 - 4. ₹1,56,400

Question ID : 26433091564

Status : Answered

Chosen Option : 3

Q.15 यदि एक बेलन की ऊंचाई में 25% की वृद्धि की जाती है, और उसके आधार की त्रिज्या में 15% की कमी की जाती है, तो उसके वक्र पृष्ठीय क्षेत्रफल में प्रतिशत वृद्धि/कमी ज्ञात कीजिए।

- Ans
- 1. 6.25% वृद्धि
 - 2. 2.23% कमी
 - 3. 4.15% कमी
 - 4. 3.25% वृद्धि

Question ID : 26433075006

Status : Answered

Chosen Option : 1

Q.16 एक पुलिसकर्मी 120 मीटर आगे एक चोर को देखता है, तुरंत पुलिसकर्मी चोर का पीछा करना शुरू कर देता है। पुलिसकर्मी एक मिनट में 26 मीटर और चोर 20 मीटर दौड़ता है। पुलिसकर्मी कितने समय में चोर को पकड़ लेगा?

- Ans
- 1. 19 मिनट
 - 2. 20 मिनट
 - 3. 18 मिनट
 - 4. 21 मिनट

Question ID : 26433075474

Status : Answered

Chosen Option : 2

Q.17 यदि प्रथम 110 प्राकृत संख्याओं का लघुत्तम समापवर्त्य N है, तो प्रथम 115 प्राकृत संख्याओं का लघुत्तम समापवर्त्य ज्ञात कीजिए।

- Ans
- 1. $111 \times 112 \times 113 \times 114 \times 115N$
 - 2. $115N$
 - 3. $111 \times 113N$
 - 4. $113N$

Question ID : 26433090316

Status : Answered

Chosen Option : 1

Q.18 दूध और पानी के मिश्रण में 18 भाग दूध और 8 भाग पानी है। मिश्रण के कितने भाग को हटाकर पानी से प्रतिस्थापित कर दिया जाना चाहिए, ताकि पानी और दूध का अनुपात बराबर हो जाए?

- Ans
- 1. $\frac{10}{18}$
 - 2. $\frac{12}{18}$
 - 3. $\frac{1}{18}$
 - 4. $\frac{5}{18}$

Question ID : 26433081548
Status : Answered
Chosen Option : 4

Q.19 दूध और पानी के 90 लीटर मिश्रण में दूध और पानी का अनुपात 4 : 1 है। मिश्रण में कितना पानी मिलाना चाहिए ताकि दूध का पानी से अनुपात 3 : 1 हो जाए?

- Ans
- 1. 5.5 लीटर
 - 2. 7 लीटर
 - 3. 6 लीटर
 - 4. 6.5 लीटर

Question ID : 26433076189
Status : Answered
Chosen Option : 3

Q.20 यदि 12 पुरुष 60 मीटर लंबी दीवार का निर्माण 5 दिन में कर सकते हैं, तो 24 पुरुष 2 दिन में उसी दीवार की कितनी लंबाई का निर्माण कर सकते हैं?

- Ans
- 1. 44 मीटर
 - 2. 46 मीटर
 - 3. 42 मीटर
 - 4. 48 मीटर

Question ID : 26433080122
Status : Answered
Chosen Option : 4

Q.1 Select the most appropriate meaning of the underlined idiom that can be substituted in the following sentence.

I am at sea after listening to the arguments.

- Ans
- 1. totally relaxed
 - 2. perplexed
 - 3. stuck in the seas
 - 4. sailing on the seas

Question ID : 26433072235
Status : Not Answered
Chosen Option : --

Q.2 Select the most appropriate option that can substitute the underlined segment in the given sentence.

She heard a loud humming noise and guess that it is being an aeroplane.

- Ans
- 1. has guessed that it is aeroplane
 - 2. guessing that it were aeroplane
 - 3. to guess that it is being the aeroplane
 - 4. guessed that it was an aeroplane

Question ID : 26433092289
Status : Not Answered
Chosen Option : --

Q.3 Select the most appropriate option that can substitute the underlined segment in the given sentence.

Travel on a hot dusty train gives me no pleasure.

- Ans
- 1. Travels on a
 - 2. Travel in a
 - 3. Travelling on a
 - 4. Travelling at a

Question ID : 264330102395
Status : Not Answered
Chosen Option : --

Q.4 Select the most appropriate homonym to fill in the blank.

I had to keep very _____ when the photographer was taking my picture.

- Ans
- 1. chum
 - 2. shrill
 - 3. still
 - 4. lid

Question ID : 26433088788
Status : Not Answered
Chosen Option : --

Q.5 Complete the sentence by choosing the most appropriate synonym of the underlined word.

If the answer is false, it is _____.

- Ans
- 1. correct
 - 2. untrue
 - 3. genuine
 - 4. right

Question ID : 26433088863
Status : Not Answered
Chosen Option : --

Q.6 Select the most appropriate ANTONYM of the word given in the bracket to fill in the blank.

If a person commits a crime with (malice) _____, they did it on purpose.

- Ans
- 1. disdain
 - 2. rancour
 - 3. disgust
 - 4. goodwill

Question ID : 26433059598
Status : Not Answered
Chosen Option : --

Q.7 Select the most appropriate ANTONYM of the underlined word in the given sentence.
The engineers finally destroyed the ship to its original form.

- Ans
- 1. restored
 - 2. reversed
 - 3. abolished
 - 4. started

Question ID : 26433055484
Status : Not Answered
Chosen Option : --

Q.8 Select the most appropriate synonym for the underlined word in the given sentence.

He was brusque and candid in the interview.

- Ans
- 1. brave
 - 2. abrupt
 - 3. pursue
 - 4. vociferous

Question ID : 26433072074
Status : Not Answered
Chosen Option : --

Q.9 Select the correct option to substitute the underlined segment in the given sentence. If no substitution is required, select 'No substitution'.

One must do his work.

- Ans
- 1. their work
 - 2. her work
 - 3. one's work
 - 4. No substitution

Question ID : 26433090809

Status : Not Answered

Chosen Option : --

Q.10 Select the correct spelling of the word to fill in the blank in the given sentence.

Trouble and disease give us bad _____.

- Ans
- 1. expereinces
 - 2. experiences
 - 3. xpreiences
 - 4. xperiences

Question ID : 26433084768

Status : Not Answered

Chosen Option : --

Q.11 The following sentence has been split into four segments. Identify the segment that contains a grammatical error.

I visit my school / once a year / to meeting / my former teachers.

- Ans
- 1. once a year
 - 2. I visit my school
 - 3. my former teachers
 - 4. to meeting

Question ID : 264330108880

Status : Not Answered

Chosen Option : --

Q.12 Select the most appropriate idiom for the underlined segment.

I thought I finished my work but I realised that all of my work is faulty. I have to start it over again.

- Ans
- 1. break the back of something
 - 2. go back to the drawing board
 - 3. break new ground
 - 4. get a pat on the back

Question ID : 264330100298

Status : Not Answered

Chosen Option : --

Q.13 Select the most appropriate synonym of the word given in brackets and complete the sentence.

The weather is _____ (gloomy) and windy.

- Ans
- 1. bright
 - 2. jovial
 - 3. cloudy
 - 4. shiny

Question ID : 26433089400
Status : Not Answered
Chosen Option : --

Q.14 Select the most appropriate synonym of the given word.

Slack

- Ans
- 1. Hyperactive
 - 2. Inactive
 - 3. Provocation
 - 4. Tight

Question ID : 26433088760
Status : Not Answered
Chosen Option : --

Q.15 Identify the MISSPELT word in the following sentence.

In our school, innovative and effective academic and evaluation strategies and intervantions are needed.

- Ans
- 1. strategies
 - 2. effective
 - 3. innovative
 - 4. intervantions

Question ID : 26433073660
Status : Not Answered
Chosen Option : --

Comprehension:

In the following passage, some words have been deleted. Read the passage carefully and select the most appropriate option to fill in each blank.

And you could hardly call it a (1) _____ at all, because Uncle Bob held his (2) _____ as though he had hold of a shovel, and tried to scoop up every ball that came over the net, even those he should have left for Uncle Ted. And then he took off his (3) _____ and played in just his trousers and stockinged feet, and with his face split nearly in two by his grin, he started (4) _____ over the net, and playing on Arnold's side instead. And the ball would (5) _____ on the roof of the house, or land in the rambler roses and bring down a shower of petals, and getting it again Uncle Bob would shake down more petals all over himself, so they'd be in his hair.

SubQuestion No : 16

Q.16 Select the most appropriate option to fill in blank no. 1.

- Ans
- 1. cork
 - 2. ball
 - 3. racket
 - 4. game

Question ID : 26433092980

Status : Not Answered

Chosen Option : --

Comprehension:

In the following passage, some words have been deleted. Read the passage carefully and select the most appropriate option to fill in each blank.

And you could hardly call it a (1) _____ at all, because Uncle Bob held his (2) _____ as though he had hold of a shovel, and tried to scoop up every ball that came over the net, even those he should have left for Uncle Ted. And then he took off his (3) _____ and played in just his trousers and stockinged feet, and with his face split nearly in two by his grin, he started (4) _____ over the net, and playing on Arnold's side instead. And the ball would (5) _____ on the roof of the house, or land in the rambler roses and bring down a shower of petals, and getting it again Uncle Bob would shake down more petals all over himself, so they'd be in his hair.

SubQuestion No : 17

Q.17 Select the most appropriate option to fill in blank no. 2.

- Ans
- 1. ball
 - 2. racket
 - 3. cork
 - 4. softball

Question ID : 26433092981

Status : Not Answered

Chosen Option : --

Comprehension:

In the following passage, some words have been deleted. Read the passage carefully and select the most appropriate option to fill in each blank.

And you could hardly call it a (1) _____ at all, because Uncle Bob held his (2) _____ as though he had hold of a shovel, and tried to scoop up every ball that came over the net, even those he should have left for Uncle Ted. And then he took off his (3) _____ and played in just his trousers and stockinged feet, and with his face split nearly in two by his grin, he started (4) _____ over the net, and playing on Arnold's side instead. And the ball would (5) _____ on the roof of the house, or land in the rambler roses and bring down a shower of petals, and getting it again Uncle Bob would shake down more petals all over himself, so they'd be in his hair.

SubQuestion No : 18

Q.18 Select the most appropriate option to fill in blank no. 3.

- Ans
- 1. belt
 - 2. pants
 - 3. shirt
 - 4. trousers

Question ID : 26433092982

Status : Not Answered

Chosen Option : --

Comprehension:

In the following passage, some words have been deleted. Read the passage carefully and select the most appropriate option to fill in each blank.

And you could hardly call it a (1) _____ at all, because Uncle Bob held his (2) _____ as though he had hold of a shovel, and tried to scoop up every ball that came over the net, even those he should have left for Uncle Ted. And then he took off his (3) _____ and played in just his trousers and stockinged feet, and with his face split nearly in two by his grin, he started (4) _____ over the net, and playing on Arnold's side instead. And the ball would (5) _____ on the roof of the house, or land in the rambler roses and bring down a shower of petals, and getting it again Uncle Bob would shake down more petals all over himself, so they'd be in his hair.

SubQuestion No : 19

Q.19 Select the most appropriate option to fill in blank no. 4.

- Ans
- 1. swimming
 - 2. jumping
 - 3. slimming
 - 4. skipping

Question ID : 26433092983

Status : Not Answered

Chosen Option : --

Comprehension:

In the following passage, some words have been deleted. Read the passage carefully and select the most appropriate option to fill in each blank.

And you could hardly call it a (1) _____ at all, because Uncle Bob held his (2) _____ as though he had hold of a shovel, and tried to scoop up every ball that came over the net, even those he should have left for Uncle Ted. And then he took off his (3) _____ and played in just his trousers and stockinged feet, and with his face split nearly in two by his grin, he started (4) _____ over the net, and playing on Arnold's side instead. And the ball would (5) _____ on the roof of the house, or land in the rambler roses and bring down a shower of petals, and getting it again Uncle Bob would shake down more petals all over himself, so they'd be in his hair.

SubQuestion No : 20

Q.20 Select the most appropriate option to fill in blank no. 5.

- Ans 1. flake
 2. bounce
 3. leap
 4. jump

Question ID : 26433092984

Status : Not Answered

Chosen Option : --

Section : Part-D-Hindi

Q.1 निम्नलिखित वाक्य के रेखांकित शब्द के स्थान पर सर्वोचित विकल्प का चयन कीजिए।
उसने उपाय किया ताकि परीक्षा उत्तीर्ण कर सके।

- Ans 1. परिश्रम
 2. सहयोग
 3. तप
 4. अनुष्ठान

Question ID : 26433084963

Status : Answered

Chosen Option : 1

Q.2 'डंके की _____ पर कहना'
उक्त मुहावरे में रिक्त स्थान की पूर्ति उचित शब्द द्वारा कीजिए।

- Ans 1. टंकार
 2. चोट
 3. मार
 4. आवाज

Question ID : 26433069690

Status : Answered

Chosen Option : 2

Q.3 'चक्की के दो पाटों में कोई सबुत नहीं बचता।' इस वाक्य के निम्न में से किस शब्द में वर्तनी की अशुद्धि है?

- Ans
- 1. बचता
 - 2. सबुत
 - 3. चक्की
 - 4. पाटों

Question ID : 26433085066
Status : Answered
Chosen Option : 2

Q.4 'पंजाब _____।' उपर्युक्त वाक्य में रिक्त स्थान के लिए उपयुक्त विकल्प निम्न में से क्या होगा?

- Ans
- 1. से अभिप्राय पांच नदियों की धरती से है
 - 2. से अभिप्राय पांच संतों की धरती से है
 - 3. से अभिप्राय पांच धर्मों की धरती से है
 - 4. से अभिप्राय पांच ऋषियों की धरती से है

Question ID : 26433067050
Status : Answered
Chosen Option : 1

Q.5 'अनुचित बात के लिए आग्रह', वाक्यांश के लिए एक शब्द _____ है।

- Ans
- 1. दुराग्रह
 - 2. दुराग्रही
 - 3. सत्याग्रह
 - 4. दुस्साहस

Question ID : 26433062937
Status : Answered
Chosen Option : 3

Q.6 'घाव पर नमक _____' उपरोक्त मुहावरे में रिक्त स्थान के लिए उपयुक्त विकल्प का चयन कीजिए।

- Ans
- 1. रगड़ना
 - 2. मलना
 - 3. डालना
 - 4. छिड़कना

Question ID : 26433069685
Status : Answered
Chosen Option : 4

Q.7 निम्न में से कौन-सा शब्द समूह 'बादल' शब्द का पर्यायवाची समूह है?

- Ans
- 1. गिरी, ओद्रे
 - 2. जलधर, नग
 - 3. क्षणदा, जलधर
 - 4. जलद, नीरद

Question ID : 26433067073

Status : Answered

Chosen Option : 4

Q.8 निम्न वाक्यांश के लिए उपयुक्त एक शब्द का चयन विकल्पों में से कीजिए।
भविष्य में होने वाला

- Ans
- 1. क्रेता
 - 2. अपूर्व
 - 3. वक्ता
 - 4. भावी

Question ID : 26433070093

Status : Answered

Chosen Option : 4

Q.9 निम्नलिखित विकल्पों में से किस एक वाक्य में सर्वनाम के प्रयोग सम्बन्धी अशुद्धि है?

- Ans
- 1. जो कुछ मेरा है, वह सब आपका है।
 - 2. ये मेरे पिता जी हैं।
 - 3. मोहन तुम आकर क्षमा माँगेगा।
 - 4. तू बड़ा हो गया है, तेरी शादी करा दूँ।

Question ID : 26433062976

Status : Answered

Chosen Option : 3

Q.10 निम्नलिखित शब्द के सही पर्यायवाची शब्द का चयन विकल्पों में से कीजिए।
समुद्र

- Ans
- 1. व्याल
 - 2. सरिता
 - 3. सारंग
 - 4. पयोनिधि

Question ID : 26433066941

Status : Answered

Chosen Option : 4

Q.11 'आज की कथा को ध्यान से सुननी चाहिए।' इस वाक्य में अशुद्ध शब्द है-

- Ans
- 1. चाहिए
 - 2. ध्यान
 - 3. कथा
 - 4. सुननी

Question ID : 26433066798

Status : Answered

Chosen Option : 4

Q.12 निम्नलिखित में से शुद्ध वाक्य है-

- Ans
- 1. मोहन बहुत माधव छात्रा है।
 - 2. मोहन बहुत मेधाव छात्र है।
 - 3. मोहन बहत मेधावी छात्र है।
 - 4. मोहन बहुत मेधावी छात्र है।

Question ID : 26433080932

Status : Answered

Chosen Option : 4

Q.13 निम्नलिखित में से उस वाक्य का चयन कीजिए जिसमें 'अनिश्चयवाचक सर्वनाम' का शुद्ध प्रयोग किया गया है।

- Ans
- 1. यह कार्य कुछ नहीं कर सकता।
 - 2. मेरी समझ में कोई न कोई नहीं आ रहा है।
 - 3. आप कोई हैं जो दुखी होकर वन में भटक रहे हैं।
 - 4. आपने तो मेरी बात का कुछ का कुछ अर्थ निकाल लिया।

Question ID : 26433063007

Status : Answered

Chosen Option : 2

Q.14 निम्नलिखित में से 'युद्ध' के लिए समानार्थी शब्द नहीं है-

- Ans
- 1. संग्राम
 - 2. सहचर
 - 3. समर
 - 4. रण

Question ID : 26433085082

Status : Answered

Chosen Option : 3

Q.15 "वह व्यक्ति उनका अनुचर है।"
उक्त वाक्य में प्रयुक्त 'अनुचर' के स्थान पर उसके समानार्थी शब्द का प्रयोग निम्न में से किस वाक्य में नहीं किया गया है?

- Ans 1. वह व्यक्ति उनका निर्जर है।
 2. वह व्यक्ति उनका चाकर है।
 3. वह व्यक्ति उनका नौकर है।
 4. वह व्यक्ति उनका सेवक है।

Question ID : 26433067034

Status : Answered

Chosen Option : 1

Comprehension:

प्रश्न संख्या 1-5 के उत्तर निम्न अवतरण के आधार पर दीजिए।
भारतीय मनीषा ने जिस प्रकार संतोष करने के लिए हमें सीख दी है, उसी तरह (1). _____ करने के लिए भी कहा है। चाणक्य के अनुसार हमें इन तीन उपक्रमों में संतोष नहीं करना चाहिए- त्रिषु नैव कर्तव्यः विद्यायां जप दानयोः अर्थात् विद्यार्जन में कभी संतोष नहीं करना चाहिए कि बस, बहुत ज्ञान (2). _____ कर लिया इसी तरह जप और दान करने में भी (3). _____ नहीं करना चाहिए। वैसे संतोष करने के लिए तो कहा गया है- जब आवे संतोष धन, सब धन धुरि समान। हमें जो प्राप्त हो उसमें ही संतोष करना चाहिए- 'साईं इतना दीजिए जामे कुटुंब समाय मैं भी भूखा न रहूँ, (4). _____ न भूखा जाए। आज के मनुष्य की सांसारिकता में बढ़ती लिप्तता, वैश्विक बाजारवाद और भौतिकता की चकाचौंध के कारण संत्रास, कुंठा और असंतोष दिन-प्रतिदिन बढ़ता ही जा रहा है। इसी असंतोष को दूर करने के लिए संतोषी बनना (5). _____ हो गया है।

SubQuestion No : 16

Q.16 रिक्त स्थान (1) के लिए सर्वाधिक उपयुक्त शब्द इनमें से कौन सा होगा?

- Ans 1. असंतोष
 2. लालच
 3. प्रेम
 4. गुस्सा

Question ID : 26433092226

Status : Answered

Chosen Option : 1

Comprehension:

प्रश्न संख्या 1-5 के उत्तर निम्न अवतरण के आधार पर दीजिए।
भारतीय मनीषा ने जिस प्रकार संतोष करने के लिए हमें सीख दी है, उसी तरह (1). _____ करने के लिए भी कहा है। चाणक्य के अनुसार हमें इन तीन उपक्रमों में संतोष नहीं करना चाहिए- त्रिषु नैव कर्तव्यः विद्यायां जप दानयोः अर्थात् विद्यार्जन में कभी संतोष नहीं करना चाहिए कि बस, बहुत ज्ञान (2). _____ कर लिया इसी तरह जप और दान करने में भी (3). _____ नहीं करना चाहिए। वैसे संतोष करने के लिए तो कहा गया है- जब आवे संतोष धन, सब धन धुरि समान'। हमें जो प्राप्त हो उसमें ही संतोष करना चाहिए- 'साई इतना दीजिए जामे कुटुंब समाय मैं भी भूखा न रहूँ, (4). _____ न भूखा जाए'। आज के मनुष्य की सांसारिकता में बढ़ती लिप्तता, वैश्विक बाज़ारवाद और भौतिकता की चकाचौंध के कारण संत्रास, कुंठा और असंतोष दिन-प्रतिदिन बढ़ता ही जा रहा है। इसी असंतोष को दूर करने के लिए संतोषी बनना (5). _____ हो गया है।

SubQuestion No : 17

Q.17 रिक्त स्थान (2) के लिए सर्वाधिक उपयुक्त शब्द इनमें से कौन सा होगा?

- Ans 1. प्रदान
 2. अर्जित
 3. इकठ्ठा
 4. दान

Question ID : 26433092227

Status : Answered

Chosen Option : 2

Comprehension:

प्रश्न संख्या 1-5 के उत्तर निम्न अवतरण के आधार पर दीजिए।
भारतीय मनीषा ने जिस प्रकार संतोष करने के लिए हमें सीख दी है, उसी तरह (1). _____ करने के लिए भी कहा है। चाणक्य के अनुसार हमें इन तीन उपक्रमों में संतोष नहीं करना चाहिए- त्रिषु नैव कर्तव्यः विद्यायां जप दानयोः अर्थात् विद्यार्जन में कभी संतोष नहीं करना चाहिए कि बस, बहुत ज्ञान (2). _____ कर लिया इसी तरह जप और दान करने में भी (3). _____ नहीं करना चाहिए। वैसे संतोष करने के लिए तो कहा गया है- जब आवे संतोष धन, सब धन धुरि समान'। हमें जो प्राप्त हो उसमें ही संतोष करना चाहिए- 'साई इतना दीजिए जामे कुटुंब समाय मैं भी भूखा न रहूँ, (4). _____ न भूखा जाए'। आज के मनुष्य की सांसारिकता में बढ़ती लिप्तता, वैश्विक बाज़ारवाद और भौतिकता की चकाचौंध के कारण संत्रास, कुंठा और असंतोष दिन-प्रतिदिन बढ़ता ही जा रहा है। इसी असंतोष को दूर करने के लिए संतोषी बनना (5). _____ हो गया है।

SubQuestion No : 18

Q.18 रिक्त स्थान (3) के लिए सर्वाधिक उपयुक्त शब्द इनमें से कौन सा होगा?

- Ans 1. कम
 2. गुस्सा
 3. अधिक
 4. संतोष

Question ID : 26433092228

Status : Answered

Chosen Option : 4

Comprehension:

प्रश्न संख्या 1-5 के उत्तर निम्न अवतरण के आधार पर दीजिए।

भारतीय मनीषा ने जिस प्रकार संतोष करने के लिए हमें सीख दी है, उसी तरह (1). _____ करने के लिए भी कहा है। चाणक्य के अनुसार हमें इन तीन उपक्रमों में संतोष नहीं करना चाहिए- त्रिषु नैव कर्तव्यः विद्यायां जप दानयोः अर्थात् विद्यार्जन में कभी संतोष नहीं करना चाहिए कि बस, बहुत ज्ञान (2). _____ कर लिया इसी तरह जप और दान करने में भी (3). _____ नहीं करना चाहिए। वैसे संतोष करने के लिए तो कहा गया है- जब आवे संतोष धन, सब धन धुरि समान'। हमें जो प्राप्त हो उसमें ही संतोष करना चाहिए- 'साई इतना दीजिए जामे कुटुंब समाय मैं भी भूखा न रहूँ, (4). _____ न भूखा जाए'। आज के मनुष्य की सांसारिकता में बढ़ती लिप्तता, वैश्विक बाज़ारवाद और भौतिकता की चकाचौंध के कारण संत्रास, कुंठा और असंतोष दिन-प्रतिदिन बढ़ता ही जा रहा है। इसी असंतोष को दूर करने के लिए संतोषी बनना (5). _____ हो गया है।

SubQuestion No : 19

Q.19 रिक्त स्थान (4) के लिए सर्वाधिक उपयुक्त शब्द इनमें से कौन सा होगा?

- Ans
- 1. राजा
 - 2. शत्रु
 - 3. साधु
 - 4. मित्र

Question ID : 26433092229

Status : Answered

Chosen Option : 3

Comprehension:

प्रश्न संख्या 1-5 के उत्तर निम्न अवतरण के आधार पर दीजिए।

भारतीय मनीषा ने जिस प्रकार संतोष करने के लिए हमें सीख दी है, उसी तरह (1). _____ करने के लिए भी कहा है। चाणक्य के अनुसार हमें इन तीन उपक्रमों में संतोष नहीं करना चाहिए- त्रिषु नैव कर्तव्यः विद्यायां जप दानयोः अर्थात् विद्यार्जन में कभी संतोष नहीं करना चाहिए कि बस, बहुत ज्ञान (2). _____ कर लिया इसी तरह जप और दान करने में भी (3). _____ नहीं करना चाहिए। वैसे संतोष करने के लिए तो कहा गया है- जब आवे संतोष धन, सब धन धुरि समान'। हमें जो प्राप्त हो उसमें ही संतोष करना चाहिए- 'साई इतना दीजिए जामे कुटुंब समाय मैं भी भूखा न रहूँ, (4). _____ न भूखा जाए'। आज के मनुष्य की सांसारिकता में बढ़ती लिप्तता, वैश्विक बाज़ारवाद और भौतिकता की चकाचौंध के कारण संत्रास, कुंठा और असंतोष दिन-प्रतिदिन बढ़ता ही जा रहा है। इसी असंतोष को दूर करने के लिए संतोषी बनना (5). _____ हो गया है।

SubQuestion No : 20

Q.20 रिक्त स्थान (5) के लिए सर्वाधिक उपयुक्त शब्द इनमें से कौन सा होगा?

- Ans
- 1. आवश्यक
 - 2. नहीं
 - 3. अधिक
 - 4. कम

Question ID : 26433092230

Status : Answered

Chosen Option : 1

Constable GD in CAPFs SSF Rifleman GD in Assam Rifles and Sepoy in NCB Examination 2022

| | |
|----------------|-------------------------------|
| Roll Number | |
| Candidate Name | |
| Venue Name | |
| Exam Date | 07/02/2023 |
| Exam Time | 2:30 PM - 3:30 PM |
| Subject | Constable GD Examination 2022 |

Section : Part-A-General Intelligence and Reasoning

Q.1 उस विकल्प का चयन करें जो तीसरी संख्या से उसी प्रकार संबंधित है जिस प्रकार दूसरी संख्या पहली संख्या से संबंधित है और छठी संख्या पांचवीं संख्या से संबंधित है।
64 : 16 :: 169 : ? :: 256 : 32

- Ans
- 1. 28
 - 2. 26
 - 3. 30
 - 4. 24

Q.2 उस विकल्प का चयन कीजिए जो तीसरे शब्द से उसी प्रकार संबंधित है जिस प्रकार दूसरा शब्द पहले शब्द से संबंधित है। (शब्दों को अर्थपूर्ण शब्दों के रूप में मानना है और उन्हें शब्द में अक्षरों/व्यंजनों/स्वरो की संख्या के आधार पर एक-दूसरे से संबंधित नहीं करना है।)
घोड़ा : अस्तबल :: पक्षी : ?

- Ans
- 1. उड़ना
 - 2. छत्ता
 - 3. घोंसला
 - 4. आकाश

Q.3 एक निश्चित कूट भाषा में, 'MOVE' को 'NQWG' लिखा जाता है और 'RUST' को 'SWTV' लिखा जाता है। उसी भाषा में 'TASK' कैसे लिखा जाएगा?

- Ans
- 1. CUUM
 - 2. UCMU
 - 3. CUMU
 - 4. UCTM

Q.4 'A + B' का अर्थ है 'B, A का दादा है'
'A @ B' का अर्थ है 'B, A का भाई है'
'A % B' का अर्थ है 'B, A की पुत्री है'
'A \$ B' का अर्थ है 'B, A का पति है'
यदि A \$ B % C @ D + E है, तो E, A से किस प्रकार संबंधित है?

- Ans
- 1. पुत्र
 - 2. भाई
 - 3. ससुर
 - 4. पिता

Question ID : 26433068531

Status : Not Answered

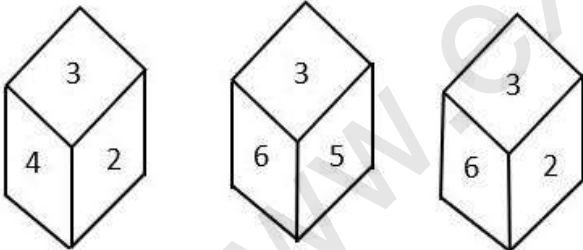
Chosen Option : --

Q.5 दिए गए विकल्पों में से वह संख्या चुनिए, जो निम्नलिखित श्रृंखला में प्रश्न-चिह्न (?) को प्रतिस्थापित कर सके।

73, 74, 66, 93, 29, ?

- Ans
- 1. 146
 - 2. 164
 - 3. 145
 - 4. 154

Q.6 एक ही पासे की तीन अलग-अलग स्थितियों को दर्शाया गया है। '3' दर्शाने वाले फलक के विपरीत फलक की संख्या ज्ञात कीजिए।



- Ans
- 1. 2
 - 2. 4
 - 3. 1
 - 4. 5

Question ID : 26433090078

Status : Answered

Chosen Option : 3

Q.7 एक कूट भाषा में 'sweet fruits' को 're de', 'mango is sweet' को 'de me ke', 'orange is citrus' को 'ke le pe', 'eat orange' को 'pe ne' के रूप में कूटबद्ध किया जाता है। शब्द 'eat' के लिए कूट क्या होगा?

- Ans 1. de
 2. ne
 3. pe
 4. re

Question ID : 26433082267

Status : Answered

Chosen Option : 2

Q.8 तीन कथनों के बाद तीन निष्कर्ष I, II और III दिए गए हैं। कथनों को सत्य मानते हुए, भले ही वे सामान्य रूप से ज्ञात तथ्यों से भिन्न प्रतीत होते हों, निर्णय लीजिए कि कौन-सा/से निष्कर्ष कथनों का तार्किक रूप से अनुसरण करता/करते है/हैं।

कथन:

सभी सेब केक हैं।

सभी केक केले हैं।

कुछ केले फल हैं।

निष्कर्ष:

I. कुछ सेब केक हैं।

II. कुछ केले सेब हैं।

III. कुछ फल केले हैं।

- Ans 1. सभी निष्कर्ष अनुसरण करते हैं।
 2. निष्कर्ष I और II दोनों अनुसरण करते हैं।
 3. निष्कर्ष I और III दोनों अनुसरण करते हैं।
 4. निष्कर्ष II और III दोनों अनुसरण करते हैं।

Q.9 यदि A का अर्थ \div , B का अर्थ \times , C का अर्थ $+$ और D का अर्थ $-$ है, तो निम्नलिखित समीकरण का मान क्या होगा?

$$24 B 12 A 8 C 10 D 6 = ?$$

- Ans 1. 48
 2. 36
 3. 40
 4. 60

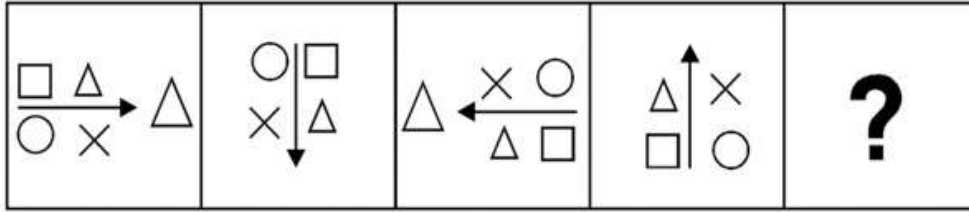
Question ID : 26433085654

Status : Answered

Chosen Option : 3

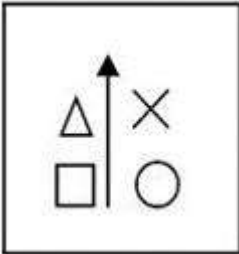
Q.10 दिए गए विकल्पों में से उस आकृति का चयन करें जो निम्नलिखित श्रृंखला में

प्रश्नवाचक चिह्न (?) का स्थान ले सकती है।

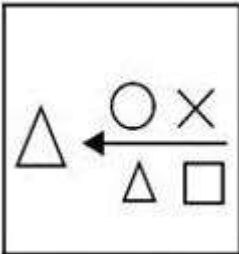


Ans

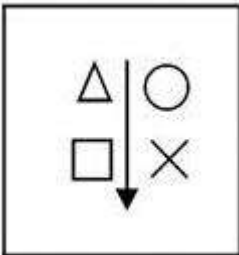
✗ 1.



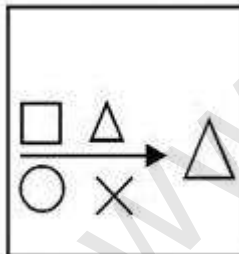
✗ 2.



✗ 3.



✓ 4.



Question ID : 26433080483

Status : Answered

Chosen Option : 4

Q.11 सात व्यक्ति I, II, III, IV, V, VI और VII एक वृत्ताकार मेज के परितः मेज के केंद्र की ओर मुख करके बैठे हुए हैं। I और III एक दूसरे के बगल में नहीं बैठे हैं। VII, VI और IV के बीच में बैठा है। IV, I के बाईं ओर ठीक बगल में बैठा है। केवल II, V और III के बीच में बैठा है। I और VII के बीच में कौन बैठा है?

- Ans
- 1. II
 - 2. VI
 - 3. IV
 - 4. III

Question ID : 264330114208

Status : Answered

Chosen Option : 3

Q.12 कौन-सा अक्षर-समूह दी गई श्रृंखला में प्रश्नचिह्न (?) के स्थान पर आकर श्रृंखला को पूर्ण करेगा?
CMUZ, FOVB, ?, LSXF, OUYH

- Ans
- 1. IQWD
 - 2. JQWD
 - 3. IQXD
 - 4. JQXD

Question ID : 26433067949

Status : Answered

Chosen Option : 1

Q.13 नीचे दिए गए समीकरण को गणितीय रूप से सही बनाने के लिए किन दो गणितीय चिन्हों को परस्पर बदलना चाहिए?

$$135 \div 15 \times 27 + 3 - 18 = 252$$

- Ans
- 1. + और ×
 - 2. ÷ और ×
 - 3. + और -
 - 4. ÷ और +

Question ID : 264330117491

Status : Answered

Chosen Option : 4

Q.14 एक शिक्षक 10 किंडरगार्टन बच्चों को दो समानांतर पंक्तियों में इस प्रकार बैठाता है कि प्रत्येक पंक्ति में पाँच-पाँच बच्चे एक-दूसरे की ओर मुख करके बैठते हैं। अनु, बॉबी, लिली, टॉम और सुधा उत्तर की ओर मुख करके पंक्ति 1 में बैठते हैं, जबकि प्रिया, रमा, उमा, कला और गुना दक्षिण की ओर मुख करके पंक्ति 2 में बैठते हैं। लिली का मुख, गुना के ठीक बगल में बैठे व्यक्ति की ओर है। टॉम, सुधा के बाईं ओर तीसरे स्थान पर बैठा है। अनु किनारों पर नहीं बैठती है। न तो प्रिया और न ही रमा किनारों पर बैठती हैं। गुना पंक्ति के ठीक मध्य में बैठा है। लिली और टॉम के बीच में केवल एक बच्चा बैठा है। कला एक किनारे पर बैठती है, लेकिन उसका मुख सुधा की ओर नहीं है। प्रिया, रमा के दाईं ओर बैठती है, लेकिन उसके ठीक बगल में नहीं है। कौन-सा बच्चा टॉम की ओर मुख करके बैठा है?

- Ans
- 1. उमा
 - 2. गुना
 - 3. प्रिया
 - 4. कला

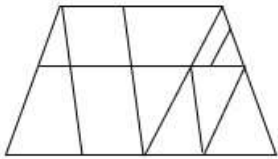
Question ID : 26433079067

Status : Not Answered

Chosen Option : --

Q.15 वह विकल्प चित्र चुनिए, जो प्रस्तुत चित्र में अंतर्निहित है। (घुमाना अनुमन्य नहीं

है)

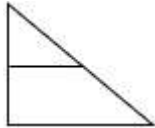


Ans

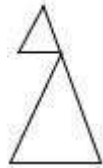
✗ 1.



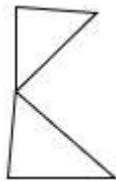
✗ 2.



✓ 3.



✗ 4.



Question ID : 26433069333

Status : Answered

Chosen Option : 3

Q.16 दर्पण को चित्र में दिखाए अनुसार MN पर रखे जाने पर दी गई आकृति के सही

दर्पण प्रतिबिंब का चयन करें।



Ans

✗ 1.

x f S m n e o j k

✗ 2.

x f S n w e o j k

✗ 3.

x f S n w o e j k

✓ 4.

k j o e w n 2 f x

Question ID : 26433082335

Status : Answered

Chosen Option : 4

Q.17 'प्रबलता' का जो संबंध 'कमजोरी' से है, वही संबंध 'साहस' का '_____ ' से है।
(शब्दों को अर्थपूर्ण शब्दों के रूप में मानना है और उन्हें शब्द में अक्षरों/व्यंजनों/स्वरों की संख्या के आधार पर एक-दूसरे से संबंधित नहीं करना है।)

- Ans
- 1. शक्ति
 - 2. झगड़ा
 - 3. कायरता
 - 4. वीरता

Question ID : 26433057749
Status : Answered
Chosen Option : 3

Q.18 कौन-सा अक्षर-समूह दी गई श्रृंखला में प्रश्नचिह्न (?) के स्थान पर आकर श्रृंखला को पूर्ण करेगा?
LQOA, ?, LUOE, LWOG, LYOI

- Ans
- 1. LRMC
 - 2. CRML
 - 3. CTPL
 - 4. LSOC

Question ID : 26433068038
Status : Answered
Chosen Option : 4

Q.19 किस विकल्प में निम्नलिखित शब्दों का वह क्रम दिया गया है, जिस क्रम में वे अंग्रेजी शब्दकोश में आते हैं?

1. lantern
2. lavish
3. lament
4. latitude
5. lately

- Ans
- 1. 3,1,4,2,5
 - 2. 3,5,1,4,2
 - 3. 3,5,4,1,2
 - 4. 3,1,5,4,2

Question ID : 26433069308
Status : Answered
Chosen Option : 4

Q.20 निम्न श्रृंखला में प्रश्न-चिह्न (?) के स्थान पर कौन सी संख्या आएगी?
57, 50, 64, ?, 71, 36

- Ans
- 1. 50
 - 2. 40
 - 3. 43
 - 4. 62

Question ID : 26433067841
Status : Answered
Chosen Option : 3

Q.1 कौन-सी पर्वत श्रृंखला शीत साइबेरियाई पवनों को भारत में प्रवेश करने से रोकती है?

- Ans
- 1. पश्चिमी घाट
 - 2. अरावली पर्वत श्रृंखला
 - 3. सतपुड़ा पर्वत श्रृंखला
 - 4. हिमालय

Question ID : 264330115980

Status : Not Answered

Chosen Option : --

Q.2 इनमें से कौन सा एक सूक्ष्म पोषक तत्व है?

- Ans
- 1. फ़ाइबर
 - 2. आयरन
 - 3. कार्बोहाइड्रेट
 - 4. जल

Question ID : 264330115231

Status : Answered

Chosen Option : 2

Q.3 निम्नलिखित में से किसे मद्रास संगीत अकादमी द्वारा TTK स्मारक पुरस्कार से सम्मानित किया गया है?

- Ans
- 1. महबूब सुभानी
 - 2. वेम्पति चिन्ना सत्यम
 - 3. उदय शंकर
 - 4. पंडित बिरजू महाराज

Question ID : 264330115848

Status : Answered

Chosen Option : 2

Q.4 SAMADHAN पोर्टल, कामगारों के लिए न्याय को सरल और त्वरित बनाने के इरादे से ऑनलाइन पंजीकरण की अनुमति देता है। औद्योगिक विवाद क्षेत्र के _____ के समक्ष उठाया जाता है।

- Ans
- 1. सुलह अधिकारी
 - 2. मंडल निरीक्षक
 - 3. सीमा-शुल्क अधिकारी
 - 4. खंड विकास अधिकारी

Question ID : 264330116194

Status : Not Answered

Chosen Option : --

Q.5 एल्युमिनियम प्रगलन भारत में _____ सबसे महत्वपूर्ण धातुकर्म उद्योग है।

- Ans
- 1. तीसरा
 - 2. पहला
 - 3. चौथा
 - 4. दूसरा

Question ID : 264330115403

Status : Answered

Chosen Option : 2

Q.6 निम्नलिखित में से कौन-सा भारत की संसदीय सरकार का सिद्धांत नहीं है?

- Ans
- 1. लोकसभा का विघटन
 - 2. बहुमत दल का शासन
 - 3. विधायिका, कार्यपालिका और न्यायपालिका के बीच शक्तियों का स्पष्ट विभाजन
 - 4. सामूहिक जिम्मेदारी

Question ID : 26433090675

Status : Answered

Chosen Option : 1

Q.7 2011 क्रिकेट विश्व कप की मेजबानी किसने की?

- Ans
- 1. भारत
 - 2. ऑस्ट्रेलिया
 - 3. भारत, श्रीलंका, बांग्लादेश
 - 4. केवल श्रीलंका, बांग्लादेश

Question ID : 264330115955

Status : Answered

Chosen Option : 3

Q.8 अर्थशास्त्रियों के अनुसार, एक गरीब राष्ट्र केवल तभी प्रगति कर सकता है, जब उसके पास अच्छा _____ हो।

- Ans
- 1. निजी क्षेत्र
 - 2. सेवा क्षेत्र
 - 3. औद्योगिक क्षेत्र
 - 4. कृषि क्षेत्र

Question ID : 264330116143

Status : Answered

Chosen Option : 3

Q.9 जनगणना 2011 के अनुसार भारत की महिला साक्षरता दर कितनी है?

Ans 1. 63.52%

2. 65.46%

3. 69.89%

4. 67.78%

Question ID : 264330116057

Status : Answered

Chosen Option : 4

Q.10 भारत के लोकतंत्र का आधार कानून का शासन है और इसका अर्थ है कि हमारे पास _____ होना चाहिए।

Ans 1. अभिव्यक्ति की स्वतंत्रता

2. एक लिखित संविधान

3. संसद की संप्रभुता

4. स्वतंत्र न्यायपालिका

Question ID : 264330115613

Status : Answered

Chosen Option : 4

Q.11 निम्नलिखित में से कौन-सी धान की फसल (paddy crop) है?

Ans 1. खीरा

2. जूट

3. चावल

4. कपास

Question ID : 264330115525

Status : Answered

Chosen Option : 3

Q.12 एक बजट दस्तावेज, जो सरकार के पूंजी खाते में परिसंपत्तियों और देयताओं से संबंधित होता है, उसे _____ कहा जाता है।

Ans 1. पूंजीगत बजट

2. शून्य बजट

3. दीर्घकालिक बजट

4. राजस्व बजट

Question ID : 264330115278

Status : Answered

Chosen Option : 1

Q.13 निम्नलिखित में से किस शास्त्रीय नृत्य शैली को मूल रूप से सादिर अट्टम के नाम से जाना जाता था?

- Ans
- 1. कुचिपुड़ी
 - 2. मणिपुरी
 - 3. सत्रीया
 - 4. भरतनाट्यम

Question ID : 264330115064

Status : Not Answered

Chosen Option : --

Q.14 नवंबर 2022 में, अजीत मोहन के स्थान पर मेटा (Meta) का नया भारतीय प्रमुख कौन बना?

- Ans
- 1. अंखी दास
 - 2. राजीव अग्रवाल
 - 3. संध्या देवनाथन
 - 4. अभिजीत बोस

Question ID : 264330114981

Status : Not Answered

Chosen Option : --

Q.15 नवंबर 2022 तक की स्थिति के अनुसार, भारत में एक राजनीतिक दल, भारतीय जनता पार्टी के अध्यक्ष कौन हैं?

- Ans
- 1. अमित शाह
 - 2. स्वतंत्र देव सिंह
 - 3. जगत प्रकाश नड्डा
 - 4. नरेन्द्र मोदी

Question ID : 264330114939

Status : Answered

Chosen Option : 3

Q.16 1962 में, मैकमोहन रेखा के क्षेत्र में भारत का युद्ध किस देश के साथ हुआ था?

- Ans
- 1. भूटान
 - 2. नेपाल
 - 3. पाकिस्तान
 - 4. चीन

Question ID : 264330115687

Status : Answered

Chosen Option : 4

Q.17 पल्लवों के अभिलेखों में कई स्थानीय सभाओं की चर्चा है। इनमें से एक था ब्राह्मण भूस्वामियों का संगठन जिसे _____ कहते थी।

- Ans
- 1. सभा
 - 2. भ्रमण
 - 3. परिषद
 - 4. नौकायन

Question ID : 264330115457
Status : Answered
Chosen Option : 3

Q.18 कॉपर क्लोराइड के साथ लेड की अभिक्रिया से कौन से उत्पाद निर्मित होते हैं?

- Ans
- 1. लेड क्लोराइड और कॉपर
 - 2. लेड ऑक्साइड और कॉपर
 - 3. लेड ऑक्साइड और कॉपर हाइड्रॉक्साइड
 - 4. कॉपर ऑक्साइड और लेड क्लोराइड

Question ID : 26433087844
Status : Answered
Chosen Option : 1

Q.19 मीराबाई चानू भारत के निम्नलिखित में से किस राज्य से संबंधित हैं?

- Ans
- 1. नागालैंड
 - 2. मणिपुर
 - 3. त्रिपुरा
 - 4. असम

Question ID : 264330116262
Status : Answered
Chosen Option : 2

Q.20 कश्मीर के लोग नवरेह उत्सव को देवी _____ को समर्पित करते हैं और इस उत्सव के दौरान उन्हें श्रद्धांजलि देते हैं।

- Ans
- 1. लक्ष्मी
 - 2. शारिका
 - 3. पार्वती
 - 4. सीता

Question ID : 264330115115
Status : Answered
Chosen Option : 2

Q.1 आकाश एक कार्य को 74 दिनों में कर सकता है। विशाल यह कार्य 37 दिनों में कर सकता है। आकाश अकेले काम शुरू करता है। कितने दिनों के बाद विशाल को उसके साथ जुड़ना चाहिए, ताकि कार्य 40 दिनों में समाप्त हो जाए?

- Ans
- 1. 16 दिन
 - 2. 23 दिन
 - 3. 25 दिन
 - 4. 19 दिन

Question ID : 264330116878

Status : Not Answered

Chosen Option : --

Q.2 एक कंपनी ने एक निश्चित कार्य को 150 दिनों में पूरा करने के लिए 200 श्रमिकों को नियोजित किया। 50 दिनों में सिर्फ एक चौथाई कार्य ही पूरा हुआ। पूरे कार्य को समय पर पूरा करने के लिए, कितने अतिरिक्त श्रमिकों को नियोजित करने की आवश्यकता है?

- Ans
- 1. 100
 - 2. 150
 - 3. 50
 - 4. 75

Question ID : 26433075988

Status : Answered

Chosen Option : 1

Q.3 एक व्यक्ति एक कार में 30 km/h की औसत चाल से 450 km की यात्रा करता है, फिर 40 km/h की चाल से 360 km की यात्रा करता है, और अंत में 50 km/h की चाल से 150 km की यात्रा करके गंतव्य तक पहुंचता है। पूरी यात्रा के दौरान उसकी औसत चाल ज्ञात कीजिए।

- Ans
- 1. $\frac{340}{9}$ km/h
 - 2. $\frac{320}{9}$ km/h
 - 3. $\frac{370}{9}$ km/h
 - 4. $\frac{310}{9}$ km/h

Question ID : 26433074302

Status : Answered

Chosen Option : 2

Q.4 रानी घर से 30 km/h की चाल से स्कूल जाती है और 20 km/h की चाल से घर वापस आती है। यदि उसके घर और स्कूल के बीच की दूरी 8 km है, तो पूरी यात्रा की औसत चाल क्या होगी?

- Ans
- 1. 28 km/h
 - 2. 22 km/h
 - 3. 24 km/h
 - 4. 26 km/h

Question ID : 26433075643

Status : Answered

Chosen Option : 3

Q.5 यदि एक ठोस लम्ब वृत्तीय बेलन का कुल पृष्ठीय क्षेत्रफल 1100 cm^2 है और इसकी त्रिज्या 7 cm है, तो इसका वक्र पृष्ठीय क्षेत्रफल ज्ञात कीजिए। ($\pi = \frac{22}{7}$ का प्रयोग करें)

- Ans
- 1. 792 cm^2
 - 2. 840 cm^2
 - 3. 562 cm^2
 - 4. 930 cm^2

Question ID : 26433080073

Status : Answered

Chosen Option : 1

Q.6 एक इंजन के पहिया की परिधि $3\frac{3}{4} \text{ m}$ है और 2 सेकंड में 4 चक्कर लगाता है। यह ट्रेन 2 घंटे में कितनी दूरी (km में) तय करेगी?

- Ans
- 1. 50 km
 - 2. 54 km
 - 3. 70 km
 - 4. 62 km

Question ID : 26433076043

Status : Not Answered

Chosen Option : --

Q.7 स्लिंग बैग पर 10 प्रतिशत की छूट थी। मयूरी ने एक स्लिंग बैग खरीदा और नकद भुगतान करने पर 5 प्रतिशत की अतिरिक्त छूट प्राप्त की। उसने 2565 रुपए का भुगतान किया। स्लिंग बैग का मूल्य टैग क्या था?

- Ans
- 1. 3000 रुपए
 - 2. 2000 रुपए
 - 3. 2800 रुपए
 - 4. 3400 रुपए

Question ID : 264330116763

Status : Answered

Chosen Option : 1

Q.8 दो संख्याएँ 2:3 के अनुपात में हैं। यदि प्रत्येक संख्या में आठ जोड़ दिया जाए, तो उनका अनुपात 8:11 हो जाएगा। दो संख्याएँ क्या हैं?

- Ans 1. 24 और 36
 2. 12 और 18
 3. 36 और 54
 4. 18 और 27

Question ID : 26433075667

Status : Answered

Chosen Option : 1

Q.9 निम्नलिखित संख्याओं के वर्ग का औसत ज्ञात करें:
5, 8, 9, 12, 15 और 16।

- Ans 1. 131.25
 2. 131.75
 3. 132.50
 4. 130.50

Question ID : 264330116685

Status : Answered

Chosen Option : 3

Q.10 समीर ने Rs.372 प्रति दर्जन की दर से 20 दर्जन खिलौने खरीदे। उसने उनमें से प्रत्येक को Rs.32 की दर से बेचा। उसका प्रतिशत लाभ क्या था?

- Ans 1. 4.2%
 2. 3.2%
 3. 3.6%
 4. 2.2%

Question ID : 26433075232

Status : Not Answered

Chosen Option : --

Q.11 सुरेश ने अपना मोबाइल फोन मोहन को 10% के लाभ पर ₹29,700 में बेचा। सुरेश के लिए फोन का क्रय मूल्य क्या था?

- Ans 1. ₹28,000
 2. ₹27,000
 3. ₹26,000
 4. ₹25,000

Question ID : 26433074564

Status : Answered

Chosen Option : 2

Q.12 यदि पुस्तक का अंकित मूल्य 5000 रुपए है और इसे 4000 रुपए में बेचा गया है तो छूट ज्ञात करें।

- Ans 1. 1000 रुपए
 2. 1100 रुपए
 3. 1200 रुपए
 4. 1500 रुपए

Question ID : 264330116717
Status : Answered
Chosen Option : 1

Q.13 12 और 16 के महत्तम समापवर्तक और लघुत्तम समापवर्त्य का योग ज्ञात करें।

- Ans 1. 52
 2. 56
 3. 48
 4. 44

Question ID : 264330116656
Status : Answered
Chosen Option : 1

Q.14 यदि p और q एक संख्या $728pq$ की दो एकल अंकों वाली प्राकृत संख्याएँ हैं जिससे कि यह 80 से विभाज्य है, तो $p \times q$ किसके बराबर है?

- Ans 1. 15
 2. 0
 3. 5
 4. 10

Question ID : 26433080239
Status : Answered
Chosen Option : 2

Q.15 24 और 12 का तृतीयानुपाती ज्ञात कीजिए।

- Ans 1. 7
 2. 5
 3. 9
 4. 6

Question ID : 26433080031
Status : Answered
Chosen Option : 4

Q.16 यदि एक निश्चित राशि पर 8% वार्षिक ब्याज की दर से तीन वर्षों के चक्रवृद्धि और साधारण ब्याज के बीच का अंतर Rs.61.60 है, तो राशि ज्ञात कीजिए।

- Ans
- 1. Rs.5,050
 - 2. Rs.2,125
 - 3. Rs.4,050
 - 4. Rs.3,125

Question ID : 26433064993

Status : Not Answered

Chosen Option : --

Q.17 एक शहर की जनसंख्या में पहले वर्ष में 10% की वृद्धि होती है और दूसरे वर्ष में 10% की कमी होती है। यदि दूसरे वर्ष के अंत में जनसंख्या 990000 है, तो पहले वर्ष की शुरुआत में जनसंख्या क्या थी?

- Ans
- 1. 13,00,000
 - 2. 10,00,000
 - 3. 15,00,000
 - 4. 12,00,000

Question ID : 26433082723

Status : Answered

Chosen Option : 2

Q.18 चीनी की कीमत में 5% की कमी आई है। यदि कोई परिवार अपना खर्च चीनी पर पहले की तरह ही रखना चाहता है, तो परिवार को चीनी की खपत में _____ वृद्धि करनी होगी।

- Ans
- 1. $5\frac{2}{19}\%$
 - 2. 5%
 - 3. $5\frac{4}{19}\%$
 - 4. $5\frac{5}{19}\%$

Question ID : 26433074954

Status : Answered

Chosen Option : 4

Q.19 सर्दियों के दिनों में, दिन के समय औसत तापमान 34°C होता है। रात में तापमान गिरकर 8°C हो जाता है। प्रतिशत कमी क्या है?

- Ans
- 1. 84.68 प्रतिशत
 - 2. 76.47 प्रतिशत
 - 3. 42 प्रतिशत
 - 4. 26 प्रतिशत

Question ID : 264330116798

Status : Answered

Chosen Option : 2

Q.20 एक शंकु की ऊंचाई और त्रिज्या क्रमशः 21 cm और $7\sqrt{7}$ cm हैं। शंकु का आयतन ज्ञात करें ($\pi = \frac{22}{7}$ लें)।

- Ans
- 1. 7,634 cm³
 - 2. 6,724 cm³
 - 3. 7,546 cm³
 - 4. 6,982 cm³

Question ID : 26433076115

Status : Answered

Chosen Option : 3

Section : Part-D-English

Q.1 Select the most appropriate ANTONYM of the given word.

Tasty

- Ans
- 1. Hollow
 - 2. Insipid
 - 3. Transient
 - 4. Supreme

Question ID : 26433074382

Status : Not Answered

Chosen Option : --

Q.2 Select the most appropriate option to fill in the blank.

She needs to be _____ if she wants to stand up to her bullies.

- Ans
- 1. bolder
 - 2. boulder
 - 3. balder
 - 4. blonder

Question ID : 26433084619

Status : Not Answered

Chosen Option : --

Q.3 Select the most appropriate synonym of the given word.

Accomplish

- Ans
- 1. Fail
 - 2. Disappoint
 - 3. Approve
 - 4. Achieve

Question ID : 26433074042

Status : Not Answered

Chosen Option : --

Q.4 Select the most appropriate ANTONYM of the given word.

Officious

- Ans
- 1. Legal
 - 2. Imperial
 - 3. Timid
 - 4. Obtrusive

Question ID : 26433072417
Status : Not Answered
Chosen Option : --

Q.5 Select the INCORRECTLY spelt word.

- Ans
- 1. Maintenance
 - 2. Defroded
 - 3. Continuation
 - 4. Discrimination

Question ID : 26433073880
Status : Not Answered
Chosen Option : --

Q.6 Select the INCORRECTLY spelt word.

- Ans
- 1. Acclaim
 - 2. Opportunity
 - 3. Convenceince
 - 4. Calendar

Question ID : 26433072365
Status : Not Answered
Chosen Option : --

Q.7 Select the most appropriate meaning of the given idiom.
Be in seventh heaven

- Ans
- 1. To support someone strongly
 - 2. To be prepared for trouble
 - 3. To be impossible to understand
 - 4. To be extremely happy

Question ID : 26433086429
Status : Not Answered
Chosen Option : --

Q.8 Select the most appropriate synonym of the given word.

Baffle

- Ans 1. Perceive
 2. Convince
 3. Confuse
 4. Betray

Question ID : 26433088996
Status : Not Answered
Chosen Option : --

Q.9 Select the most appropriate option that can substitute the underlined segment in the given sentence.

The doctors always wear a right and suitable uniform.

- Ans 1. nice
 2. virtuous
 3. decent
 4. fit

Question ID : 26433086463
Status : Not Answered
Chosen Option : --

Q.10 Select the most appropriate meaning of the underlined idiom in the given sentence.

The child made a wry face when he was denied entry into the museum.

- Ans 1. A disappointed look
 2. An earnest request
 3. An offending remark
 4. An obscene gesture

Question ID : 26433072063
Status : Not Answered
Chosen Option : --

Q.11 Select the option that expresses the given sentence in past perfect tense.

- A. Fortunately, the movie had not been starting on time.
B. Fortunately, the movie was not starting on time.
C. Fortunately, the movie had not started on time.
D. Fortunately, the movie did not start on time.

- Ans 1. A
 2. C
 3. D
 4. B

Question ID : 26433073518
Status : Not Answered
Chosen Option : --

Q.12 Select the most appropriate option to fill in the blank.

A feeling comes over one that so much evil and misfortune _____ the world that a little more or less does not make much difference.

- Ans
- 1. had shadowed
 - 2. shadowing
 - 3. shadow
 - 4. shadowed

Question ID : 26433092113

Status : Not Answered

Chosen Option : --

Q.13 Select the most appropriate ANTONYM of the underlined word in the following sentence.

The robbers were captured and brought to the jail.

- Ans
- 1. Released
 - 2. Composed
 - 3. Destroyed
 - 4. Seized

Question ID : 26433072239

Status : Not Answered

Chosen Option : --

Q.14 Select the most appropriate option to fill in the blank.

A couple of parrots _____ on the telephone wires.

- Ans
- 1. waited
 - 2. flew
 - 3. perched
 - 4. seeded

Question ID : 26433060334

Status : Not Answered

Chosen Option : --

Q.15 Select the most appropriate option to substitute the underlined segment in the given sentence.

He asked me if I have anything to say.

- Ans
- 1. if I has anything
 - 2. if I want anything
 - 3. if I had anything
 - 4. if I am having anything

Question ID : 26433093473

Status : Not Answered

Chosen Option : --

Comprehension:

In the following passage, some words have been deleted. Read the passage carefully and select the most appropriate option to fill in each blank.

Twenty five years ago, few people realised that computers (1)_____ about to become part of our daily lives. This short period of time has seen (2)_____ changes, in business, education and public administration. Jobs which took weeks to complete in the past are now carried out in minutes. People who spent all day copying and checking calculations are now freed from these (3)_____ tasks. Students have become as familiar with hardware and software as their parents were with pencils and exercise books. Computerisation of public records has enabled government departments to analyse the needs of citizens in detail. Some of us may wonder, (4)_____, life has really improved as a result of these changes. Many jobs disappeared, for example, when intelligent machines took over the work. Employers complain that clerical (5)_____ have become dependent on calculators and cannot do simple arithmetic.

SubQuestion No : 16

Q.16 Select the most appropriate option to fill in blank 1.

Ans 1. were

2. was

3. be

4. is

Question ID : 26433089079

Status : Not Answered

Chosen Option : --

Comprehension:

In the following passage, some words have been deleted. Read the passage carefully and select the most appropriate option to fill in each blank.

Twenty five years ago, few people realised that computers (1)_____ about to become part of our daily lives. This short period of time has seen (2)_____ changes, in business, education and public administration. Jobs which took weeks to complete in the past are now carried out in minutes. People who spent all day copying and checking calculations are now freed from these (3)_____ tasks. Students have become as familiar with hardware and software as their parents were with pencils and exercise books. Computerisation of public records has enabled government departments to analyse the needs of citizens in detail. Some of us may wonder, (4)_____, life has really improved as a result of these changes. Many jobs disappeared, for example, when intelligent machines took over the work. Employers complain that clerical (5)_____ have become dependent on calculators and cannot do simple arithmetic.

SubQuestion No : 17

Q.17 Select the most appropriate option to fill in blank 2.

Ans 1. anonymous

2. hazardous

3. enormous

4. indigenous

Question ID : 26433089080

Status : Not Answered

Chosen Option : --

Comprehension:

In the following passage, some words have been deleted. Read the passage carefully and select the most appropriate option to fill in each blank.

Twenty five years ago, few people realised that computers (1)_____ about to become part of our daily lives. This short period of time has seen (2)_____ changes, in business, education and public administration. Jobs which took weeks to complete in the past are now carried out in minutes. People who spent all day copying and checking calculations are now freed from these (3)_____ tasks. Students have become as familiar with hardware and software as their parents were with pencils and exercise books. Computerisation of public records has enabled government departments to analyse the needs of citizens in detail. Some of us may wonder, (4)_____, life has really improved as a result of these changes. Many jobs disappeared, for example, when intelligent machines took over the work. Employers complain that clerical (5)_____ have become dependent on calculators and cannot do simple arithmetic.

SubQuestion No : 18

Q.18 Select the most appropriate option to fill in blank 3.

- Ans 1. bores
 2. boring
 3. bore
 4. bored

Question ID : 26433089081

Status : Not Answered

Chosen Option : --

Comprehension:

In the following passage, some words have been deleted. Read the passage carefully and select the most appropriate option to fill in each blank.

Twenty five years ago, few people realised that computers (1)_____ about to become part of our daily lives. This short period of time has seen (2)_____ changes, in business, education and public administration. Jobs which took weeks to complete in the past are now carried out in minutes. People who spent all day copying and checking calculations are now freed from these (3)_____ tasks. Students have become as familiar with hardware and software as their parents were with pencils and exercise books. Computerisation of public records has enabled government departments to analyse the needs of citizens in detail. Some of us may wonder, (4)_____, life has really improved as a result of these changes. Many jobs disappeared, for example, when intelligent machines took over the work. Employers complain that clerical (5)_____ have become dependent on calculators and cannot do simple arithmetic.

SubQuestion No : 19

Q.19 Select the most appropriate option to fill in blank 4.

- Ans 1. subsequently
 2. therefore
 3. however
 4. for instance

Question ID : 26433089082

Status : Not Answered

Chosen Option : --

Comprehension:

In the following passage, some words have been deleted. Read the passage carefully and select the most appropriate option to fill in each blank.

Twenty five years ago, few people realised that computers (1)_____ about to become part of our daily lives. This short period of time has seen (2)_____ changes, in business, education and public administration. Jobs which took weeks to complete in the past are now carried out in minutes. People who spent all day copying and checking calculations are now freed from these (3)_____ tasks. Students have become as familiar with hardware and software as their parents were with pencils and exercise books. Computerisation of public records has enabled government departments to analyse the needs of citizens in detail. Some of us may wonder, (4)_____, life has really improved as a result of these changes. Many jobs disappeared, for example, when intelligent machines took over the work. Employers complain that clerical (5)_____ have become dependent on calculators and cannot do simple arithmetic.

SubQuestion No : 20

Q.20 Select the most appropriate option to fill in blank 5.

- Ans 1. soldiers
 2. religions
 3. staff
 4. messengers

Question ID : 26433089083

Status : Not Answered

Chosen Option : --

Section : Part-D-Hindi

Q.1 निम्न में से 'अग्नि' का पर्याय है-

- Ans 1. अमिय
 2. अम्बक
 3. अनिल
 4. अनल

Question ID : 26433062912

Status : Answered

Chosen Option : 4

Q.2 जो सुगमता से साधा जाए ऊपर दिए गए वाक्यांश के लिए एक शब्द क्या होगा?

- Ans 1. दुर्गम्य
 2. सुगम्य
 3. दुःसाध्य
 4. सुसाध्य

Question ID : 26433070061

Status : Answered

Chosen Option : 4

Q.3 निम्न वाक्य में रेखांकित शब्द को विकल्पों में दिए गए शब्दों में से उचित शब्द से बदलें।
मुझे आशंका है कि वह इतना काम कर सकेगा या नहीं।

- Ans
- 1. भय
 - 2. शंका
 - 3. खेद
 - 4. अंदेशा

Question ID : 26433062875
Status : Answered
Chosen Option : 2

Q.4 निम्नलिखित में से शुद्ध वर्तनी वाला शब्द कौन-सा है?

- Ans
- 1. एतवार
 - 2. इतवार
 - 3. ईतवार
 - 4. ईटवार

Question ID : 26433066749
Status : Answered
Chosen Option : 2

Q.5 निम्न वाक्य में रेखांकित अंश के स्थान पर सबसे उपयुक्त विकल्प का चयन कीजिए।
उसने पुरस्कार का अपमान कर दिया।

- Ans
- 1. तिरस्कार
 - 2. आपमान
 - 3. समापन
 - 4. बेइज्जत

Question ID : 26433066870
Status : Answered
Chosen Option : 1

Q.6 'गाँव से संबंधित' वाक्यांश के लिए इनमें से उपयुक्त शब्द कौन-सा है?

- Ans
- 1. देशी
 - 2. शहरी
 - 3. ग्रामीण
 - 4. गायक

Question ID : 26433066889
Status : Answered
Chosen Option : 3

Q.7 'खून पसीना एक करना' मुहावरे का उचित अर्थ है-

- Ans
- 1. कुछ न समझना
 - 2. कठिन परिश्रम करना
 - 3. लड़ाई करना
 - 4. परिश्रम न करना

Question ID : 26433065881

Status : Answered

Chosen Option : 2

Q.8 निम्नलिखित मुहावरे के लिए उपयुक्त सार्थक शब्द क्या होगा?
आंख की किरकिरी होना

- Ans
- 1. बहुत अधिक प्रिय होना
 - 2. अप्रिय लगना
 - 3. व्यर्थ का काम करना
 - 4. आंखों में कुछ चला जाना

Question ID : 26433065780

Status : Answered

Chosen Option : 2

Q.9 निम्नलिखित विकल्पों में से किस एक वाक्य में संख्यावाचक विशेषण का उचित प्रयोग नहीं किया गया है?

- Ans
- 1. मेरी आठ बीघा जमीन ननिहाल में है।
 - 2. सौ ग्राम धनिया की कीमत क्या है?
 - 3. हमें चन्द्रमा सुन्दर प्रतीत होता है।
 - 4. राम ने दो मीटर कपड़ा खरीदा।

Question ID : 26433062968

Status : Answered

Chosen Option : 3

Q.10 'सकाम' शब्द का सही विलोम शब्द क्या होगा?

- Ans
- 1. निष्काम
 - 2. कुकाम
 - 3. निकर्म
 - 4. दुर्काम

Question ID : 26433067093

Status : Answered

Chosen Option : 2

Q.11 'भीष्म पितामह ने अविवाहित रहने का प्रण लिया था।'
उपरोक्त वाक्य में प्रयुक्त शब्द 'प्रण' के पर्यायवाची शब्द का चयन विकल्पों में से कीजिए।

- Ans
- 1. संकल्प
 - 2. कटक
 - 3. व्रत
 - 4. प्रतिज्ञा

Question ID : 26433069739
Status : Answered
Chosen Option : 4

Q.12 'जो वर्ष में एक बार होता हो' वाक्यांश के लिए सार्थक शब्द है-

- Ans
- 1. वार्षिक
 - 2. वर्षा
 - 3. एक वर्ष
 - 4. भीषण

Question ID : 26433062226
Status : Answered
Chosen Option : 1

Q.13 निम्न वाक्य में रेखांकित शब्द के उपयुक्त विलोम शब्द द्वारा रिक्त स्थान की पूर्ति कीजिए।
कभी कभी परिस्थितियाँ मनुष्य को आस्तिक से _____ बना देती हैं।

- Ans
- 1. धार्मिक
 - 2. तार्किक
 - 3. आत्यंतिक
 - 4. नास्तिक

Question ID : 26433072618
Status : Answered
Chosen Option : 4

Q.14 विकल्पों में से शुद्ध वर्तनी वाले वाक्य का चयन कीजिए।

- Ans
- 1. फ़िज़ूल खर्च मत करो।
 - 2. मीरा आटा गुँध रही है।
 - 3. शत्रु युद्धभूमी से दौड़ गया।
 - 4. सुधा नीरपराध है।

Question ID : 26433079234
Status : Not Answered
Chosen Option : --

Q.15 “निरंजन झाइवर को कार चलवाता है।”
उपरोक्त वाक्य में कारक सम्बन्धी त्रुटि पहचानकर निम्नलिखित में से शुद्ध वाक्य का चयन कीजिए।

- Ans
- 1. निरंजन झाइवर की कार चलवाता है।
 - 2. निरंजन झाइवर पर कार चलवाता है।
 - 3. निरंजन झाइवर के लिए कार चलवाता है।
 - 4. निरंजन झाइवर से कार चलवाता है।

Question ID : 26433066963

Status : Answered

Chosen Option : 4

Comprehension:

निम्नलिखित गद्यांश में कुछ शब्दों को हटा दिया गया है। दिए गए विकल्पों की सहायता से रिक्त स्थानों की पूर्ति कीजिए। प्रत्येक संख्या के लिए सबसे उपयुक्त विकल्प का चयन कीजिए।

आजकल देखा जाता है कि लोगों में त्योहारों को मनाने की 1. _____ कम होती जा रही है। पुराने उत्साह और आस्था का अभाव 2. _____ दिखाई देता है। जहाँ त्योहार मनाए भी जाते हैं उनके पीछे अन्य 3. _____ होते हैं। त्योहार मनाने के लिए समय और धन दोनों की 4. _____ होती है। जीवन में प्रतिस्पर्धा बढ़ गई है। सब बातों के केंद्र में 5. _____ आ गया है।

SubQuestion No : 16

Q.16 रिक्त स्थान 1 की पूर्ति के लिए सबसे उपयुक्त विकल्प का चयन कीजिए।

- Ans
- 1. उक्ति
 - 2. सपना
 - 3. कार्य
 - 4. प्रवृत्ति

Question ID : 264330111131

Status : Answered

Chosen Option : 4

Comprehension:

निम्नलिखित गद्यांश में कुछ शब्दों को हटा दिया गया है। दिए गए विकल्पों की सहायता से रिक्त स्थानों की पूर्ति कीजिए। प्रत्येक संख्या के लिए सबसे उपयुक्त विकल्प का चयन कीजिए।

आजकल देखा जाता है कि लोगों में त्योहारों को मनाने की 1. _____ कम होती जा रही है। पुराने उत्साह और आस्था का अभाव 2. _____ दिखाई देता है। जहाँ त्योहार मनाए भी जाते हैं उनके पीछे अन्य 3. _____ होते हैं। त्योहार मनाने के लिए समय और धन दोनों की 4. _____ होती है। जीवन में प्रतिस्पर्धा बढ़ गई है। सब बातों के केंद्र में 5. _____ आ गया है।

SubQuestion No : 17

Q.17 रिक्त स्थान 2 की पूर्ति के लिए सबसे उपयुक्त विकल्प का चयन कीजिए।

- Ans
- 1. सर्वत्र
 - 2. जग
 - 3. कम
 - 4. अछूता

Question ID : 264330111132

Status : Answered

Chosen Option : 1

Comprehension:

निम्नलिखित गद्यांश में कुछ शब्दों को हटा दिया गया है। दिए गए विकल्पों की सहायता से रिक्त स्थानों की पूर्ति कीजिए। प्रत्येक संख्या के लिए सबसे उपयुक्त विकल्प का चयन कीजिए।

आजकल देखा जाता है कि लोगों में त्योहारों को मनाने की 1. _____ कम होती जा रही है। पुराने उत्साह और आस्था का अभाव 2. _____ दिखाई देता है। जहाँ त्योहार मनाए भी जाते हैं उनके पीछे अन्य 3. _____ होते हैं। त्योहार मनाने के लिए समय और धन दोनों की 4. _____ होती है। जीवन में प्रतिस्पर्धा बढ़ गई है। सब बातों के केंद्र में 5. _____ आ गया है।

SubQuestion No : 18

Q.18 रिक्त स्थान 3 की पूर्ति के लिए सबसे उपयुक्त विकल्प का चयन कीजिए।

- Ans
- 1. त्योहार
 - 2. कारण
 - 3. गुण
 - 4. आसान

Question ID : 264330111133

Status : Answered

Chosen Option : 2

Comprehension:

निम्नलिखित गद्यांश में कुछ शब्दों को हटा दिया गया है। दिए गए विकल्पों की सहायता से रिक्त स्थानों की पूर्ति कीजिए। प्रत्येक संख्या के लिए सबसे उपयुक्त विकल्प का चयन कीजिए।

आजकल देखा जाता है कि लोगों में त्योहारों को मनाने की 1. _____ कम होती जा रही है। पुराने उत्साह और आस्था का अभाव 2. _____ दिखाई देता है। जहाँ त्योहार मनाए भी जाते हैं उनके पीछे अन्य 3. _____ होते हैं। त्योहार मनाने के लिए समय और धन दोनों की 4. _____ होती है। जीवन में प्रतिस्पर्धा बढ़ गई है। सब बातों के केंद्र में 5. _____ आ गया है।

SubQuestion No : 19

Q.19 रिक्त स्थान 4 की पूर्ति के लिए सबसे उपयुक्त विकल्प का चयन कीजिए।

- Ans
- 1. अनावश्यकता
 - 2. समझ
 - 3. बढ़ाव
 - 4. आवश्यकता

Question ID : 264330111134

Status : Answered

Chosen Option : 4

Comprehension:

निम्नलिखित गद्यांश में कुछ शब्दों को हटा दिया गया है। दिए गए विकल्पों की सहायता से रिक्त स्थानों की पूर्ति कीजिए। प्रत्येक संख्या के लिए सबसे उपयुक्त विकल्प का चयन कीजिए।

आजकल देखा जाता है कि लोगों में त्योहारों को मनाने की 1. _____ कम होती जा रही है। पुराने उत्साह और आस्था का अभाव 2. _____ दिखाई देता है। जहाँ त्योहार मनाए भी जाते हैं उनके पीछे अन्य 3. _____ होते हैं। त्योहार मनाने के लिए समय और धन दोनों की 4. _____ होती है। जीवन में प्रतिस्पर्धा बढ़ गई है। सब बातों के केंद्र में 5. _____ आ गया है।

SubQuestion No : 20

Q.20 रिक्त स्थान 5 की पूर्ति के लिए सबसे उपयुक्त विकल्प का चयन कीजिए।

- Ans
- 1. झगड़ा
 - 2. धन
 - 3. प्यार
 - 4. परिवार

Question ID : 264330111135

Status : Answered

Chosen Option : 2

www.exammix.com

Constable GD in CAPFs SSF Rifleman GD in Assam Rifles and Sepoy in NCB Examination 2022

| | |
|----------------|-------------------------------|
| Roll Number | |
| Candidate Name | |
| Venue Name | |
| Exam Date | 07/02/2023 |
| Exam Time | 5:15 PM - 6:15 PM |
| Subject | Constable GD Examination 2022 |

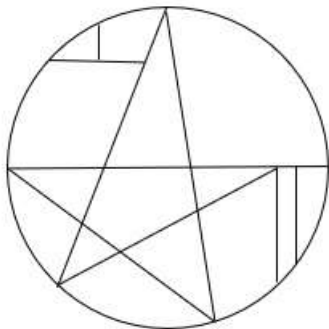
Section : Part-A-General Intelligence and Reasoning

Q.1 एक निश्चित भाषा में DANGER को REGNAD और DETAIL को LIATED के रूप में कूटबद्ध किया जाता है। इसी भाषा में DOCTOR को किस प्रकार कूटबद्ध किया जाएगा?

- Ans
- 1. CODTOR
 - 2. ROTCOD
 - 3. CODROT
 - 4. EPDUPS

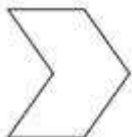
Q.2 वह विकल्प चित्र चुनिए, जो प्रस्तुत चित्र में अंतर्निहित है। (घुमाना अनुमन्य नहीं

है)



Ans

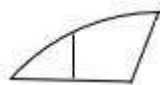
✗ 1.



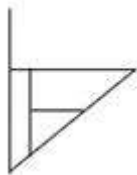
✗ 2.



✓ 3.



✗ 4.



Q.3 निम्नलिखित में से कौन-सी संख्या दी गई श्रृंखला में प्रश्न-चिह्न (?) को प्रतिस्थापित करेगी?
81, 88, 102, ?, 151, 186

Ans ✗ 1. 109

✓ 2. 123

✗ 3. 137

✗ 4. 116

Question ID : 26433069386

Status : Answered

Chosen Option : 2

Q.4 एक निश्चित कूट भाषा में, 'PROVED' को '65' और 'REMOVER' को '81' के रूप में लिखा जाता है। उसी कूट भाषा में 'DEVOUR' को किस प्रकार से लिखा जाएगा?

- Ans 1. 85
 2. 70
 3. 75
 4. 80

Question ID : 26433069474

Status : Answered

Chosen Option : 4

Q.5 किस विकल्प में निम्नलिखित शब्दों का वह क्रम दिया गया है, जिस क्रम में वे अंग्रेजी शब्दकोश में आते हैं?

1. Chair
2. Charm
3. Chauffer
4. Chain
5. Change

- Ans 1. 4,5,1,3,2
 2. 4,1,2,5,3
 3. 4,1,5,3,2
 4. 4,1,5,2,3

Question ID : 26433069273

Status : Answered

Chosen Option : 4

Q.6 दिए गए विकल्पों में से उस अक्षर-समूह का चयन कीजिए जो निम्न श्रृंखला में प्रश्न-चिह्न (?) के स्थान पर आ सकता है।
GTNS, OPVA, WLDI, ? , MDTY

- Ans 1. EHLQ
 2. EKWS
 3. JUFV
 4. JKDF

Question ID : 26433074742

Status : Answered

Chosen Option : 1

Q.7 उस विकल्प का चयन कीजिए जो तीसरे शब्द से उसी प्रकार संबंधित है जिस प्रकार दूसरा शब्द पहले शब्द से संबंधित है। (शब्दों को अर्थपूर्ण शब्दों के रूप में मानना है और उन्हें शब्द में अक्षरों/व्यंजनों/स्वरों की संख्या के आधार पर एक-दूसरे से संबंधित नहीं करना है।)
चाप : वृत्त :: कॉकपिट : ?

- Ans 1. बाइक
 2. वायुयान
 3. पहिया
 4. कार

Q.8 यदि '+' का अर्थ है '÷', '-' का अर्थ है '.', 'x' का अर्थ है 'x', और 'x' का अर्थ है '+', तो निम्नलिखित में से कौन-सा अभिव्यक्ति का मान होगा?
 $63 \div 84 + 7 - 6 \times 48$

- Ans
- 1. 49
 - 2. 46
 - 3. 33
 - 4. 39

Question ID : 264330114185

Status : Answered

Chosen Option : 4

Q.9 पांच व्यक्ति K, L, M, N और O एक सीधी पंक्ति में उत्तर की ओर मुख करके बैठे हैं। L, N के बाईं ओर ठीक बगल में बैठा है। M, L के बाईं ओर ठीक बगल में बैठा है। N, O के बाईं ओर ठीक बगल में बैठा है। K पंक्ति के अंतिम दाएं सिरे पर बैठा है। पंक्ति के ठीक मध्य में कौन बैठा है?

- Ans
- 1. N
 - 2. M
 - 3. L
 - 4. O

Question ID : 26433069155

Status : Answered

Chosen Option : 1

Q.10 यदि श्रृंखला जारी रखनी है तो कौन-सी आकृति प्रश्न चिह्न (?) के स्थान पर

आएगी?

| | | | | |
|-------|-------|-------|-------|---|
| O | U | 2 | L | |
| B L 2 | 2 B L | O B U | U O B | ? |
| U | O | L | 2 | |

Ans

✗ 1.

| |
|-------|
| 2 |
| B U O |
| L |

✓ 2.

| |
|-------|
| U |
| 2 O L |
| B |

✗ 3.

| |
|-------|
| B |
| L O 2 |
| U |

✗ 4.

| |
|-------|
| 2 |
| B L U |
| O |

Question ID : 26433076624

Status : Answered

Chosen Option : 2

Q.11 निम्नलिखित में से कौन-सा अक्षर-समूह नीचे दी गई अक्षर-समूह श्रृंखला में प्रश्न-चिह्न (?) के स्थान पर आकर श्रृंखला को पूर्ण करेगा?
UH, SD, OZ, MV, ?

Ans ✗ 1. HR

✓ 2. IR

✗ 3. IQ

✗ 4. IS

Question ID : 26433067287

Status : Answered

Chosen Option : 2

Q.12 तीन कथनों के बाद 1, 2 और 3 से संख्यांकित तीन निष्कर्ष दिए गए हैं। कथनों को सत्य मानते हुए भले ही वे सामान्यतः ज्ञात तथ्यों से भिन्न प्रतीत होते हों, निर्णय लें कि कौन-सा/से निष्कर्ष कथनों का तार्किक रूप से अनुसरण करता है/करते हैं।

1. सभी कॉटन रेशम हैं।
2. सभी रेशम ऊन हैं।
3. सभी ऊन जूट हैं।

निष्कर्ष:

1. कुछ जूट रेशम हैं।
2. कुछ ऊन कॉटन हैं।
3. कुछ जूट कॉटन हैं।

Ans ✓ 1. सभी निष्कर्ष 1, 2 और 3 अनुसरण करते हैं

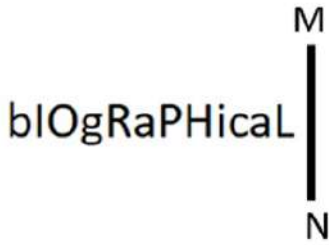
- ✗ 2. केवल निष्कर्ष 1 अनुसरण करता है
- ✗ 3. केवल निष्कर्ष 2 और 3 अनुसरण करते हैं
- ✗ 4. केवल निष्कर्ष 1 और 3 अनुसरण करते हैं

Question ID : 26433087134

Status : Answered

Chosen Option : 1

Q.13 दी गई आकृति के सही दर्पण प्रतिबिम्ब का चयन करें जब दर्पण को MN पर रखा जाए जैसा कि नीचे दर्शाया गया है।



Ans

- ✓ 1.
- ✗ 2.
- ✗ 3.
- ✗ 4.

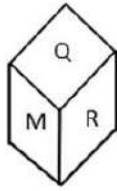
Question ID : 26433085558

Status : Answered

Chosen Option : 1

Q.14 एक ही पासे की दो अलग-अलग स्थितियों को दर्शाया गया है जिस पर 'M' से 'R' तक के वर्णाक्षर बने हैं।

'P' दर्शाने वाले फलक के विपरीत फलक पर स्थित वर्णाक्षर जात कीजिए।



- Ans
- 1. N
 - 2. M
 - 3. O
 - 4. R

Question ID : 26433085514

Status : Answered

Chosen Option : 2

Q.15 उस विकल्प का चयन करें, जो पाँचवीं संख्या से उसी प्रकार संबंधित है, जिस प्रकार दूसरी संख्या, पहली संख्या से संबंधित है और चौथी संख्या, तीसरी संख्या से संबंधित है।

2 : 1 :: 54 : 3 :: 16 : ?

- Ans
- 1. 3
 - 2. 4
 - 3. 2
 - 4. 5

Question ID : 26433069414

Status : Not Answered

Chosen Option : --

Q.16 छः विद्यार्थी एक वृत्ताकार मेज के परितः मेज के केंद्र की ओर मुख करके बैठे हैं। राजेश, रमेश के दाईं ओर दूसरे स्थान पर बैठा है। रमेश, सुरेश के बाईं ओर ठीक बगल में बैठा है। निमेश, जयेश के दाईं ओर दूसरे स्थान पर बैठा है। परेश, राजेश के दाईं ओर दूसरे स्थान पर बैठा है। जयेश, राजेश और परेश के ठीक बगल में है। रमेश और परेश के बीच में कौन बैठा है?

- Ans
- 1. निमेश
 - 2. राजेश
 - 3. सुरेश
 - 4. जयेश

Question ID : 26433081773

Status : Answered

Chosen Option : 1

Q.17 'A @ B' का अर्थ है कि 'A , B की पत्नी है'
'A & B' का अर्थ है कि 'A, B का पिता है'
'A # B' का अर्थ है कि 'A , B की बहन है'
दिए गए विकल्पों में से किसका अर्थ है कि 'P , L की माता है'?

- Ans 1. P @ L & S # R
 2. P @ R & S # L
 3. S @ L & R # P
 4. S @ P # R & L

Question ID : 26433069657

Status : Answered

Chosen Option : 2

Q.18 उस विकल्प का चयन कीजिए जो तीसरे शब्द से उसी प्रकार संबंधित है जिस प्रकार दूसरा शब्द पहले शब्द से संबंधित है। (शब्दों को अर्थपूर्ण शब्दों के रूप में माना जाना चाहिए और शब्द में अक्षरों की संख्या/व्यंजनों की संख्या/स्वरों की संख्या के आधार पर एक दूसरे से संबंधित नहीं किया जाना चाहिए)
अभियंता : निर्माण :: चिकित्सक : _____

- Ans 1. नष्ट करना
 2. निर्माण
 3. बनाना
 4. इलाज

Question ID : 26433079401

Status : Answered

Chosen Option : 4

Q.19 निम्नलिखित में से कौन-सी संख्याएँ दी गई श्रृंखला में प्रश्नवाचक चिह्न (?) का स्थान लेगी?
1, 9, 25, 49, ?, ?, 169, 225, 289

- Ans 1. 81, 121
 2. 64, 81
 3. 100, 121
 4. 81, 100

Question ID : 26433069051

Status : Answered

Chosen Option : 1

Q.20 नीचे दिए गए समीकरण को गणितीय रूप से सही बनाने के लिए किन दो चिन्हों को परस्पर बदलना चाहिए?

$$12 \times 108 - 36 \div 6 + 18 = 48$$

- Ans 1. + और ÷
 2. + और ×
 3. ÷ और -
 4. - और +

Question ID : 264330117514

Status : Answered

Chosen Option : 3

Q.1 निम्न में से कौन अपशिष्ट को छोटे कणों में विघटित करता है?

- Ans
- 1. सर्वाहारी
 - 2. शाकाहारी
 - 3. मांसाहारी
 - 4. अपरदाहारी

Question ID : 264330115250

Status : Answered

Chosen Option : 3

Q.2 हरित क्रांति का प्रमुख पहलू यह है कि इसने भारत को _____ बना दिया है।

- Ans
- 1. आत्मनिर्भर
 - 2. फसलों का सबसे बड़ा आयातक
 - 3. फसलों का सबसे बड़ा निर्यातक
 - 4. नकदी फसलों का सबसे बड़ा उत्पादक

Question ID : 264330116154

Status : Answered

Chosen Option : 4

Q.3 भारत के 2020 के राष्ट्रीय खेलों के लिए शुभकर कौन था?

- Ans
- 1. छौआ, द डियर
 - 2. अम्मू, द ग्रेट हॉर्नबिल
 - 3. सावज, द एशियाटिक लायन
 - 4. रुबिगुला, द फ्लेम-थ्रोटेड बुलबुल

Question ID : 264330115953

Status : Not Attempted and Marked For Review

Chosen Option : --

Q.4 भारत की जलवायु को _____ प्रकार के रूप में वर्णित किया गया है।

- Ans
- 1. मानसूनी
 - 2. ठंडे
 - 3. सूखे
 - 4. बंजर

Question ID : 26433089696

Status : Answered

Chosen Option : 1

Q.5 अक्टूबर 2022 में, भारत व्यापार संवर्धन संगठन के अध्यक्ष और प्रबंध निदेशक के रूप में किसे नियुक्त किया गया?

- Ans
- 1. विभु नायर
 - 2. राहुल नावेंकर
 - 3. प्रदीप सिंह खरोला
 - 4. नूर रहमान शेख

Question ID : 264330115004
Status : Not Answered
Chosen Option : --

Q.6 निम्नलिखित में से कौन सी भारत की सबसे पुरानी फुटबॉल प्रतियोगिता है?

- Ans
- 1. फेडरेशन कप
 - 2. डूरंड कप
 - 3. बीसी रॉय ट्रॉफी
 - 4. संतोष ट्रॉफी

Question ID : 264330116288
Status : Not Attempted and Marked For Review
Chosen Option : --

Q.7 मेकापति विक्रम रेड्डी, जो जून 2022 में आंध्र प्रदेश के अत्माकुर निर्वाचन क्षेत्र से विधान सभा सदस्य बने, _____ राजनीतिक दल से संबंधित हैं।

- Ans
- 1. भारतीय जनता पार्टी
 - 2. वाईएसआर कांग्रेस पार्टी
 - 3. भारतीय कम्युनिस्ट पार्टी
 - 4. भारतीय राष्ट्रीय कांग्रेस

Question ID : 264330114904
Status : Not Attempted and Marked For Review
Chosen Option : --

Q.8 निम्नलिखित में से कौन सी धातु ऊष्मा की सबसे अच्छी चालक है?

- Ans
- 1. सोडियम
 - 2. गोल्ड
 - 3. आयरन
 - 4. सिल्वर

Question ID : 264330115152
Status : Answered
Chosen Option : 4

Q.9 जब किसी परिवार की आय मूलभूत जीवन स्तर (भोजन, आश्रय, आवास) को बनाए रखने के लिए आवश्यक राशि से कम हो जाती है, तो इसे क्या कहा जाता है?

- Ans
- 1. पीढ़ीगत निर्धनता
 - 2. सापेक्ष निर्धनता
 - 3. निरपेक्ष निर्धनता
 - 4. परिस्थितिजन्य निर्धनता

Question ID : 264330116074

Status : Answered

Chosen Option : 4

Q.10 महामस्तकाभिषेक एक जैन त्यौहार है जो, प्रत्येक _____ वर्षों में एक बार मनाया जाता है।

- Ans
- 1. 6
 - 2. 8
 - 3. 12
 - 4. 10

Question ID : 264330115090

Status : Not Attempted and Marked For Review

Chosen Option : --

Q.11 निम्नलिखित में से किसने वज्जि पर प्रस्तावित हमले के बारे में सलाह लेने के लिए बुद्ध से मुलाकात की?

- Ans
- 1. राधागुप्त
 - 2. वस्सकार
 - 3. अशोक
 - 4. यश

Question ID : 26433089851

Status : Not Answered

Chosen Option : --

Q.12 बाल विवाह निषेध (संशोधन) विधेयक, 2021 लड़की की आयु 18 से बढ़ाकर _____ वर्ष करने का प्रस्ताव करता है।

- Ans
- 1. 21
 - 2. 22
 - 3. 24
 - 4. 20

Question ID : 264330116220

Status : Answered

Chosen Option : 1

Q.13 निम्नलिखित में से कौन सा नृत्य रूप एक अद्वितीय नृत्य रूप है क्योंकि इसमें कलाकार महिलाओं के रूप में तैयार होते हैं और यह ओडिशा के कुछ हिस्सों में लोकप्रिय है?

- Ans
- 1. थैय्यम
 - 2. गोटीपुआ
 - 3. बिहु
 - 4. फुगदी

Question ID : 264330115066
Status : Answered
Chosen Option : 1

Q.14 अंतिम (बारहवीं) पंचवर्षीय योजना का उद्देश्य क्या था?

- Ans
- 1. स्वच्छ भारत
 - 2. दोगुनी प्रति व्यक्ति आय
 - 3. त्वरित, सतत और अधिक समावेशी विकास।
 - 4. विसर्पी विकास

Question ID : 264330115370
Status : Answered
Chosen Option : 3

Q.15 दिसंबर 1929 में, _____ की अध्यक्षता में, लाहौर कांग्रेस ने 'पूर्ण स्वराज' की मांग को औपचारिक रूप दिया।

- Ans
- 1. जवाहर लाल नेहरू
 - 2. आसफ अली
 - 3. जगजीवन राम
 - 4. बलदेव सिंह

Question ID : 264330115696
Status : Answered
Chosen Option : 1

Q.16 सुपर मार्केट के संचालन की एक सीमा बताएं।

- Ans
- 1. एक ग्राहक को एक ही स्थान पर विभिन्न ब्रांडों का सामान मिल सकता है।
 - 2. सुपर मार्केट को शुरू करने और चलाने के लिए बड़ी मात्रा में पूंजी आवश्यक है।
 - 3. वे मानक गुणवत्ता वाली वस्तुएं प्रदान करते हैं।
 - 4. वे सामानों की एक विस्तृत श्रृंखला को संभालते हैं।

Q.17 राष्ट्रीय कृषि और ग्रामीण विकास बैंक (NABARD) का उद्देश्य _____ उद्योगों के प्रचार और विकास के लिए ऋण और अन्य सुविधाएं प्रदान करना है।

- Ans
- 1. शहरी
 - 2. बड़े
 - 3. आलीशान
 - 4. ग्रामीण

Question ID : 264330115301
Status : Answered
Chosen Option : 4

Q.18 निम्नलिखित में से किसे कथक में उनके योगदान के लिए पद्म श्री से सम्मानित किया गया था?

- Ans
- 1. सरोदी सैकिया
 - 2. जोगेन दत्ता बयान
 - 3. टंकेश्वर हजारिका बोरबयान
 - 4. सुनयना हजारीलाल

Question ID : 264330115874
Status : Not Answered
Chosen Option : --

Q.19 संविधान के किस अनुच्छेद के तहत एक नागरिक को कोई भी उपजीविका या व्यापार करने की स्वतंत्रता है?

- Ans
- 1. अनुच्छेद 19 (1) (g)
 - 2. अनुच्छेद 20 (c)
 - 3. अनुच्छेद 21 (f)
 - 4. अनुच्छेद 22 (b)

Question ID : 26433091448
Status : Answered
Chosen Option : 1

Q.20 निम्नलिखित में से कौन मार्च 2022 में उत्तराखंड के मुख्यमंत्री बने?

- Ans
- 1. भुवन चंद्र खंडूरी
 - 2. पुष्कर सिंह धामी
 - 3. त्रिवेन्द्र सिंह रावत
 - 4. तीरथ सिंह रावत

Question ID : 26433082244
Status : Answered
Chosen Option : 2

Q.1 यदि संख्या 'x', 3 और 2 से विभाज्य है, तो $2x^3 + 3x^2$ किससे विभाज्य होगी?

Ans 1. 108

2. 428

3. 72

4. 214

Question ID : 26433081700

Status : Answered

Chosen Option : 1

Q.2 संख्याओं 0.002, 0.04 और 0.0006 का चतुर्थानुपाती ज्ञात कीजिए।

Ans 1. 0.12×10^{-2}

2. 1.2×10^{-2}

3. 12×10^{-2}

4. 1.2×10^{-3}

Question ID : 26433091923

Status : Answered

Chosen Option : 2

Q.3 एक डीलर गेहूं को 25% लाभ पर बेचता है और वास्तविक माप से 5% कम वजन का उपयोग करता है। उसका लाभ प्रतिशत क्या है?

Ans 1. $3\frac{11}{19}\%$

2. $3\frac{1}{19}\%$

3. $23\frac{1}{19}\%$

4. $31\frac{11}{19}\%$

Question ID : 26433076078

Status : Answered

Chosen Option : 4

Q.4 R, आधे घंटे में 5 km और 400 मीटर की दूरी तय करके घर से पोस्ट ऑफिस जाता है, और फिर 90 मिनट में 25 km और 750 मीटर की दूरी तय करके कार्यालय जाता है। घर से कार्यालय तक उसकी औसत चाल km/h में कितनी है?

Ans 1. 15.755

2. 15.575

3. 17.555

4. 15.775

Question ID : 26433071259

Status : Answered

Chosen Option : 2

Q.5 A की दौड़ने की चाल B की चाल से $\frac{11}{9}$ गुनी है। यदि B को इस प्रकार शुरुआती बढ़त दी जाती है कि B, A को दौड़ की लंबाई के $\frac{1}{3}$ से हरा देता है, तो दौड़ की लंबाई का कितना भाग B को A से शुरुआती बढ़त के लिए दिया गया है? [नोट: A और B समान समय पर दौड़ना शुरू करते हैं मानिए।]

- Ans
1. $\frac{3}{11}$
2. $\frac{22}{27}$
3. $\frac{5}{11}$
4. $\frac{6}{11}$

Question ID : 26433075816

Status : Not Answered

Chosen Option : --

Q.6 ₹9,960 की राशि को 7.5% वार्षिक चक्रवृद्धि ब्याज पर उधार लिया गया और दो समान वार्षिक किश्तों में वापस भुगतान किया गया। प्रत्येक किश्त की राशि कितनी थी?

- Ans
1. ₹5,457
2. ₹5,475
3. ₹5,547
4. ₹5,745

Question ID : 26433081588

Status : Answered

Chosen Option : 3

Q.7 एक व्यापारी ने 1200 वस्तुएँ ₹1,800 में खरीदीं और उसने उन्हें 1000 वस्तुएँ ₹1,600 की दर से बेचा। लाभ या हानि प्रतिशत की गणना कीजिए।

- Ans
1. $\frac{20}{3}$ % हानि
2. $\frac{30}{7}$ % हानि
3. $\frac{20}{3}$ % लाभ
4. $\frac{30}{7}$ % लाभ

Question ID : 26433074278

Status : Answered

Chosen Option : 1

Q.8 यदि p , q और r का औसत A है और $pq + qr + rp = 0$ है, तो

$\frac{p^2+q^2+r^2}{27}$ का मान _____ है।

Ans

✗ 1. A^2

✓ 2. $\frac{A^2}{3}$

✗ 3. $9A^2$

✗ 4. $3A^2$

Question ID : 26433081542

Status : Not Answered

Chosen Option : --

Q.9 P, Q और R एक कार्य को 38 दिनों में कर सकते हैं। Q और R 76 दिनों में कार्य कर सकते हैं। दिनों की संख्या ज्ञात करें जिनमें P समान कार्य को पूरा कर सकता है।

Ans

✗ 1. 90 दिन

✗ 2. 84 दिन

✗ 3. 81 दिन

✓ 4. 76 दिन

Question ID : 264330116904

Status : Answered

Chosen Option : 4

Q.10 एक डीलर एक घड़ी पर 8% और 18% छूट की घोषणा करता है। यदि घड़ी का विक्रय मूल्य ₹943 है, तो घड़ी का अंकित मूल्य क्या है?

Ans

✓ 1. ₹1,250

✗ 2. ₹1,185

✗ 3. ₹1,480

✗ 4. ₹1,320

Question ID : 26433082670

Status : Marked For Review

Chosen Option : 1

Q.11 517, 139, 195, 176 और 192 संख्याओं का औसत ज्ञात कीजिए।

Ans 1. 315.4

2. 243.8

3. 726.3

4. 515.4

Question ID : 26433079994

Status : Answered

Chosen Option : 2

Q.12 दो उम्मीदवारों के बीच हुए एक चुनाव में, तकनीकी समस्या के कारण कुल मतों के 25% मतों को अमान्य के रूप में चिह्नित किया गया। विजेता को 7500 मत मिलते हैं, जो कुल वैध मतों के $\frac{5}{12}$ हैं। विजेता को मिले मत और अमान्य मतों के बीच का अंतर ज्ञात करें।

Ans 1. 3750

2. 7500

3. 2500

4. 0

Question ID : 26433081705

Status : Answered

Chosen Option : 1

Q.13 यदि अर्धगोले की त्रिज्या = शंकु की त्रिज्या = शंकु की ऊंचाई है, तो इस अर्धगोले के वक्र पृष्ठीय क्षेत्रफल तथा इस शंकु के वक्र पृष्ठीय क्षेत्रफल का अनुपात क्या होगा?

Ans 1. $1 : \sqrt{3}$

2. $2 : 1$

3. $1 : 2$

4. $\sqrt{2} : 1$

Question ID : 26433076087

Status : Answered

Chosen Option : 4

Q.14 चक्रवृद्धि ब्याज की किस वार्षिक दर से वार्षिक संयोजित पर कोई धनराशि 4 वर्षों में स्वयं की $\frac{625}{256}$ गुनी हो जाती है?

Ans 1. 22%

2. 25%

3. 26%

4. 20%

Question ID : 26433075116

Status : Answered

Chosen Option : 2

Q.15 एक खिलौने पर 15% की छूट है। 15% की एक और क्रमिक छूट दी जाती है। खिलौने पर प्रभावी छूट कितनी है?

- Ans 1. 32.75%
 2. 27.75%
 3. 25%
 4. 30%

Question ID : 26433071256

Status : Answered

Chosen Option : 2

Q.16 100 cm लंबे बोर्ड को काट कर 86 cm कर दिया जाता है। कितने प्रतिशत हटा दिया गया है?

- Ans 1. 14 प्रतिशत
 2. 32 प्रतिशत
 3. 28 प्रतिशत
 4. 20 प्रतिशत

Question ID : 264330116824

Status : Answered

Chosen Option : 1

Q.17 एक जैकेट और हैंडबैग की कीमत 3 : 2 के अनुपात में है। यदि एक जैकेट की कीमत हैंडबैग से ₹600 अधिक है, तो हैंडबैग की कीमत _____ है।

- Ans 1. ₹2,800
 2. ₹1,200
 3. ₹2,400
 4. ₹1,800

Question ID : 26433082085

Status : Answered

Chosen Option : 2

Q.18 रोहन और सोहन एक कार्य को क्रमशः 10 दिन और 12 दिन में पूरा कर सकते हैं। यदि वे सोहन से शुरू करते हुए एकांतर दिनों में (पहले दिन सोहन और दूसरे दिन रोहन के आधार पर) कार्य करते हैं, तो पूरा कार्य कितने दिनों में समाप्त होगा?

- Ans 1. 12
 2. 10
 3. 11
 4. 13

Question ID : 26433075570

Status : Answered

Chosen Option : 3

Q.19 एक वर्ग और एक समबाहु त्रिभुज के परिमाप बराबर हैं। यदि वर्ग का विकर्ण $12\sqrt{2}\text{cm}$ है, तो त्रिभुज का क्षेत्रफल ज्ञात कीजिए।

- Ans
- 1. $64\sqrt{5}\text{ cm}^2$
 - 2. $65\sqrt{3}\text{ cm}^2$
 - 3. $67\sqrt{2}\text{ cm}^2$
 - 4. $64\sqrt{3}\text{ cm}^2$

Question ID : 26433066324

Status : Not Answered

Chosen Option : --

Q.20 वह बड़ी से बड़ी संख्या ज्ञात करें जो 57, 93 और 191 को इस प्रकार विभाजित करे ताकि प्रत्येक स्थिति में समान शेष बचे।

- Ans
- 1. 3
 - 2. 1
 - 3. 2
 - 4. 4

Question ID : 26433075089

Status : Answered

Chosen Option : 2

Section : Part-D-English

Q.1 Select the most appropriate option to fill in the blank.

The Board of Doctors declared that the patient might take time to _____.

- Ans
- 1. come across
 - 2. walk through
 - 3. come round
 - 4. look round

Question ID : 26433072734

Status : Not Answered

Chosen Option : --

Q.2 The following sentence has been divided into parts. One of them may contain an error. Select the part that contains the error from the given options. If you don't find any error, mark 'No error' as your answer.

Mrs. Meera and family / received his letter / a week ago.

- Ans
- 1. received his letter
 - 2. No error
 - 3. a week ago
 - 4. Mrs. Meera and family

Question ID : 264330108878

Status : Not Answered

Chosen Option : --

Q.3 Select the most appropriate ANTONYM of the word given in the brackets to fill in the blank.

We _____ (agree) to talk to terrorists.

- Ans
- 1. refuse
 - 2. admit
 - 3. grant
 - 4. allow

Question ID : 26433088853
Status : Not Answered
Chosen Option : --

Q.4 Select the most appropriate meaning of the given idiom.

To go through fire and water

- Ans
- 1. To face many challenges
 - 2. To do something easy
 - 3. To punish
 - 4. To tolerate

Question ID : 26433073710
Status : Not Answered
Chosen Option : --

Q.5 Select the INCORRECTLY spelt word.

- Ans
- 1. Reckon
 - 2. Subservent
 - 3. Subvert
 - 4. Rebuke

Question ID : 26433073655
Status : Not Answered
Chosen Option : --

Q.6 Select the most appropriate synonym of the underlined word in the following sentence.

He went to the tomb of his father to pay his tribute.

- Ans
- 1. Grave
 - 2. Funeral
 - 3. Ritual
 - 4. Mortuary

Question ID : 26433072351
Status : Not Answered
Chosen Option : --

Q.7 Select the most appropriate ANTONYM of the given word.

Dense

- Ans
- 1. Generic
 - 2. Secret
 - 3. Sparse
 - 4. Compact

Question ID : 26433071972

Status : Not Answered

Chosen Option : --

Q.8 Select the most appropriate option that can substitute the underlined segment in the given sentence.

Not only composition, but also the wrong choice of Sridhar as the singer destroyed the sweetness on the song.

- Ans
- 1. destroyed the sweetness by the song
 - 2. destroyed the sweetness in the song
 - 3. destroyed the sweetness around the song
 - 4. destroyed the sweetness of the song

Question ID : 264330100987

Status : Not Answered

Chosen Option : --

Q.9 Select the most appropriate option that can substitute the underlined segment in the given sentence. If there is no need to substitute it, select 'No substitution required'.

Who penned this book on the history of India's partition?

- Ans
- 1. No substitution required
 - 2. pen
 - 3. write
 - 4. publicise

Question ID : 26433088562

Status : Not Answered

Chosen Option : --

Q.10 Select the word that is similar in meaning to the underlined word.

My boss maintained a very parochial view of the world.

- Ans
- 1. Harmonious
 - 2. Laughing
 - 3. Narrow
 - 4. Patriarchal

Question ID : 26433087945

Status : Not Answered

Chosen Option : --

Q.11 Select the most appropriate synonym of the given word.

Ample

- Ans 1. Abundant
 2. Affectionate
 3. Insufficient
 4. Enthusiastic

Question ID : 26433073432
Status : Not Answered
Chosen Option : --

Q.12 The sentence given below has one misspelt word. Spot the INCORRECTLY spelt word and select its correct spelling.

Inkompetent employees of our company need to be sacked.

- Ans 1. Imcampent
 2. Imcompetent
 3. Incompetent
 4. Incompitent

Question ID : 26433073553
Status : Not Answered
Chosen Option : --

Q.13 Select the most appropriate ANTONYM of the given word.
Perfume

- Ans 1. Redolence
 2. Fragrance
 3. Stench
 4. Extraordinary

Question ID : 26433086346
Status : Not Answered
Chosen Option : --

Q.14 Select the most appropriate ANTONYM of the given word.

Prosperity

- Ans 1. Wealth
 2. Failure
 3. Money
 4. Gradual

Question ID : 26433088324
Status : Not Answered
Chosen Option : --

Q.15 Select the most appropriate meaning of the given idiom.

Taste of your own medicine

- Ans**
- 1. Extremely pleased and excited about something
 - 2. Try to manage something which went wrong
 - 3. Have the same bad treatment that you have given to others
 - 4. Try everything possible

Question ID : 26433072686

Status : Not Answered

Chosen Option : --

Comprehension:

In the following passage, some words have been deleted. Read the passage carefully and select the most appropriate option to fill in each blank.

The major goal of renewable energy deployment in India is to drive economic (1)_____, improve energy security, increase access to electricity, and (2)_____ climate change. Sustainable development is attainable via the use of sustainable energy and by giving residents (3)_____ to inexpensive, dependable, sustainable, and contemporary energy. Strong government backing and an increasingly favourable economic scenario have propelled India to the (4)_____ of the world's most promising renewable energy sectors. The government has devised regulations, initiatives, and a welcoming atmosphere to (5)_____ international investment and rapidly expand the country's presence in the renewable energy sector.

SubQuestion No : 16

Q.16 Select the most appropriate option to fill in blank number 1.

- Ans**
- 1. surplus
 - 2. recession
 - 3. growth
 - 4. inflation

Question ID : 26433061007

Status : Not Answered

Chosen Option : --

Comprehension:

In the following passage, some words have been deleted. Read the passage carefully and select the most appropriate option to fill in each blank.

The major goal of renewable energy deployment in India is to drive economic (1)_____, improve energy security, increase access to electricity, and (2)_____ climate change. Sustainable development is attainable via the use of sustainable energy and by giving residents (3)_____ to inexpensive, dependable, sustainable, and contemporary energy. Strong government backing and an increasingly favourable economic scenario have propelled India to the (4)_____ of the world's most promising renewable energy sectors. The government has devised regulations, initiatives, and a welcoming atmosphere to (5)_____ international investment and rapidly expand the country's presence in the renewable energy sector.

SubQuestion No : 17

Q.17 Select the most appropriate option to fill in blank number 2.

- Ans**
- 1. increase
 - 2. exclude
 - 3. reduce
 - 4. exaggerate

Question ID : 26433061008

Status : Not Answered

Chosen Option : --

Comprehension:

In the following passage, some words have been deleted. Read the passage carefully and select the most appropriate option to fill in each blank.

The major goal of renewable energy deployment in India is to drive economic (1)_____, improve energy security, increase access to electricity, and (2)_____ climate change. Sustainable development is attainable via the use of sustainable energy and by giving residents (3)_____ to inexpensive, dependable, sustainable, and contemporary energy. Strong government backing and an increasingly favourable economic scenario have propelled India to the (4)_____ of the world's most promising renewable energy sectors. The government has devised regulations, initiatives, and a welcoming atmosphere to (5)_____ international investment and rapidly expand the country's presence in the renewable energy sector.

SubQuestion No : 18

Q.18 Select the most appropriate option to fill in blank number 3.

- Ans**
- 1. access
 - 2. power
 - 3. authority
 - 4. excess

Question ID : 26433061009

Status : Not Answered

Chosen Option : --

Comprehension:

In the following passage, some words have been deleted. Read the passage carefully and select the most appropriate option to fill in each blank.

The major goal of renewable energy deployment in India is to drive economic (1)_____, improve energy security, increase access to electricity, and (2)_____ climate change. Sustainable development is attainable via the use of sustainable energy and by giving residents (3)_____ to inexpensive, dependable, sustainable, and contemporary energy. Strong government backing and an increasingly favourable economic scenario have propelled India to the (4)_____ of the world's most promising renewable energy sectors. The government has devised regulations, initiatives, and a welcoming atmosphere to (5)_____ international investment and rapidly expand the country's presence in the renewable energy sector.

SubQuestion No : 19

Q.19 Select the most appropriate option to fill in blank number 4.

- Ans
- 1. background
 - 2. forward
 - 3. rear
 - 4. forefront

Question ID : 26433061010

Status : Not Answered

Chosen Option : --

Comprehension:

In the following passage, some words have been deleted. Read the passage carefully and select the most appropriate option to fill in each blank.

The major goal of renewable energy deployment in India is to drive economic (1)_____, improve energy security, increase access to electricity, and (2)_____ climate change. Sustainable development is attainable via the use of sustainable energy and by giving residents (3)_____ to inexpensive, dependable, sustainable, and contemporary energy. Strong government backing and an increasingly favourable economic scenario have propelled India to the (4)_____ of the world's most promising renewable energy sectors. The government has devised regulations, initiatives, and a welcoming atmosphere to (5)_____ international investment and rapidly expand the country's presence in the renewable energy sector.

SubQuestion No : 20

Q.20 Select the most appropriate option to fill in blank number 5.

- Ans
- 1. attract
 - 2. conceive
 - 3. examine
 - 4. borrow

Question ID : 26433061011

Status : Not Answered

Chosen Option : --

Q.1 आज राकेश ने अपनी दुकान का श्री _____ किया।
रिक्त स्थान की पूर्ति उचित शब्द द्वारा कीजिए।

- Ans
- 1. राम
 - 2. इति
 - 3. गणेश
 - 4. हरि

Question ID : 26433062614
Status : Answered
Chosen Option : 3

Q.2 दिए गए वाक्य के रेखांकित शब्द को उचित विकल्प से परिवर्तित करें।
महासागर पर पुल बन जाने पर रावण को आश्चर्य हुआ।

- Ans
- 1. हर्ष
 - 2. विस्मय
 - 3. भ्रम
 - 4. संकोच

Question ID : 26433069917
Status : Answered
Chosen Option : 2

Q.3 निम्नलिखित वाक्यांश के लिए एक सार्थक शब्द चुनें।
जो व्यक्ति अच्छे आचरण वाला हो

- Ans
- 1. सदाचारी
 - 2. समभाषी
 - 3. सहकारी
 - 4. सहयोगी

Question ID : 26433069985
Status : Answered
Chosen Option : 1

Q.4 गंगा का जल अत्यंत पावन है।
उपरोक्त वाक्य में रेखांकित शब्द के उचित पर्यायवाची शब्द का चयन विकल्पों में से कीजिए।

- Ans
- 1. मधु
 - 2. देवा
 - 3. विभूति
 - 4. देवनदी

Question ID : 26433079727
Status : Answered
Chosen Option : 4

Q.5 मिश्र वाक्य - 'लोग समझते हैं कि तुम मूर्ख हो।' निम्नलिखित विकल्पों में से इस वाक्य के लिए कौन सा एक उचित सरल वाक्य होगा ?

- Ans
- 1. तुम मूर्ख हो, लोग समझते हैं।
 - 2. मूर्ख लोग समझते हैं।
 - 3. मूर्ख लोग समझते तुम्हें हैं।
 - 4. लोग तुम्हें मूर्ख समझते हैं।

Question ID : 26433062435

Status : Answered

Chosen Option : 4

Q.6 निम्नलिखित वाक्य के रिक्त स्थान में सबसे उपयुक्त मुहावरा क्या होगा?
'इस पद पर पहुँचने से पहले उसे बहुत _____ है।'

- Ans
- 1. बाजी मारना
 - 2. पापड़ बेलने पड़े
 - 3. नौ-दो ग्यारह
 - 4. एक एक ग्यारह

Question ID : 26433066724

Status : Answered

Chosen Option : 2

Q.7 निम्न में से कौन सा वाक्य संबोधन कारक का उदाहरण नहीं है?

- Ans
- 1. अजी तुम उसे क्या मारोगे?
 - 2. आलोक माँ के लिए दवाई लाया।
 - 3. अरे भाई ! यहाँ आओ।
 - 4. हे भगवान ! तू सबका भला कर।

Question ID : 26433079226

Status : Answered

Chosen Option : 1

Q.8 निम्नलिखित वाक्य में कौन सा शब्द क्रिया शब्द है?
मैंने आशा को मीनार दिखाई।

- Ans
- 1. आशा
 - 2. मैंने
 - 3. दिखाई
 - 4. मीनार

Question ID : 26433085039

Status : Answered

Chosen Option : 3

Q.9 'जो किए जाने योग्य हो' इस वाक्यांश के लिए सार्थक शब्द है -

- Ans 1. करणीय
 2. अनुकरणीय
 3. कथित
 4. अकरणीय

Question ID : 26433062339
Status : Answered
Chosen Option : 2

Q.10 निम्नलिखित में से शुद्ध वाक्य है-

- Ans 1. दीपक गाय चारता है।
 2. दीपक गाय चराता है।
 3. दीपक गाय चरता है।
 4. दीपक गाय चरत है।

Question ID : 26433066838
Status : Answered
Chosen Option : 2

Q.11 निम्नलिखित में से कौन सा शब्द अनेकार्थी शब्द है?

- Ans 1. गुलाब
 2. बेला
 3. चमेली
 4. रातरानी

Question ID : 26433091321
Status : Not Attempted and
Marked For Review
Chosen Option : --

Q.12 निम्नलिखित वाक्य में रेखांकित शब्द के विलोम शब्द का प्रयोग करके रिक्त स्थान की पूर्ति कीजिए।
दुराचार से व्यक्ति का _____ नष्ट हो जाता है।

- Ans 1. यश
 2. विचार
 3. फल
 4. सदाचार

Question ID : 26433091344
Status : Answered
Chosen Option : 4

Q.13 'रमेश की माँ को गम्भीर बिमारी है।' वाक्य में अशुद्ध वर्तनी वाला शब्द है -

- Ans 1. बिमारी
 2. रमेश
 3. गम्भीर
 4. माँ

Question ID : 26433069694

Status : Answered

Chosen Option : 1

Q.14 वाक्यांशों और उनके लिए एक शब्द का निम्नलिखित में से कौन सा युग्म अशुद्ध है?

- Ans 1. लेने की इच्छा-लिप्सा
 2. जो किसी से जीता न जा सके-अजेय
 3. सात दिन का समूह-सप्ताह
 4. नाप तौलकर खर्च करने वाला-मितभाषी

Question ID : 26433086289

Status : Answered

Chosen Option : 4

Q.15 निम्नलिखित में से क्या 'मान' का अर्थ नहीं है?

- Ans 1. इज्जत
 2. अभिमान
 3. श्रेष्ठ
 4. सम्मान

Question ID : 26433080941

Status : Answered

Chosen Option : 3

Comprehension:

निम्नलिखित गद्यांश में कुछ शब्दों को हटा दिया गया है। दिए गए विकल्पों की सहायता से रिक्त स्थानों की पूर्ति कीजिए। प्रत्येक संख्या के लिए सबसे उपयुक्त विकल्प का चयन कीजिए।
कविता बनाना 1. _____ नहीं है। यह भगवान द्वारा मिला 2. _____ है। यह गुण अनेक लोगों में होता है, 3. _____ उन्हें इसका बोध नहीं होता। सही 4. _____ मिलने पर उनकी सोई हुई काव्य- प्रतिभा जाग उठती है।
अतः अध्यापकों का 5. _____ बनता है कि वे बच्चों की काव्य-प्रतिभा के विकास का उपाय करें। केवल यह कहने पर कि बारिश पर कविता बनाओ विद्यार्थी कुछ भी नहीं कर पाते।

SubQuestion No : 16

Q.16 रिक्त स्थान 1 की पूर्ति के लिए सबसे उपयुक्त विकल्प का चयन करें।

- Ans 1. कठिन
 2. मुश्किल
 3. खेल
 4. नामुमकिन

Question ID : 264330110921

Status : Answered

Chosen Option : 3

Comprehension:

निम्नलिखित गद्यांश में कुछ शब्दों को हटा दिया गया है। दिए गए विकल्पों की सहायता से रिक्त स्थानों की पूर्ति कीजिए। प्रत्येक संख्या के लिए सबसे उपयुक्त विकल्प का चयन कीजिए।
कविता बनाना 1. _____ नहीं है। यह भगवान द्वारा मिला 2. _____ है। यह गुण अनेक लोगों में होता है, 3. _____ उन्हें इसका बोध नहीं होता। सही 4. _____ मिलने पर उनकी सोई हुई काव्य- प्रतिभा जाग उठती है।
अतः अध्यापकों का 5. _____ बनता है कि वे बच्चों की काव्य-प्रतिभा के विकास का उपाय करें। केवल यह कहने पर कि बारिश पर कविता बनाओ विद्यार्थी कुछ भी नहीं कर पाते।

SubQuestion No : 17

Q.17 रिक्त स्थान 2 की पूर्ति के लिए सबसे उपयुक्त विकल्प का चयन करें।

- Ans 1. श्राप
 2. वरदान
 3. बद्दुआ
 4. अभिशाप

Question ID : 264330110922

Status : Answered

Chosen Option : 2

Comprehension:

निम्नलिखित गद्यांश में कुछ शब्दों को हटा दिया गया है। दिए गए विकल्पों की सहायता से रिक्त स्थानों की पूर्ति कीजिए। प्रत्येक संख्या के लिए सबसे उपयुक्त विकल्प का चयन कीजिए।
कविता बनाना 1. _____ नहीं है। यह भगवान द्वारा मिला 2. _____ है। यह गुण अनेक लोगों में होता है, 3. _____ उन्हें इसका बोध नहीं होता। सही 4. _____ मिलने पर उनकी सोई हुई काव्य- प्रतिभा जाग उठती है।
अतः अध्यापकों का 5. _____ बनता है कि वे बच्चों की काव्य-प्रतिभा के विकास का उपाय करें। केवल यह कहने पर कि बारिश पर कविता बनाओ विद्यार्थी कुछ भी नहीं कर पाते।

SubQuestion No : 18

Q.18 रिक्त स्थान 3 की पूर्ति के लिए सबसे उपयुक्त विकल्प का चयन करें।

- Ans 1. द्वारा
 2. की
 3. परन्तु
 4. और

Question ID : 264330110923

Status : Answered

Chosen Option : 3

Comprehension:

निम्नलिखित गद्यांश में कुछ शब्दों को हटा दिया गया है। दिए गए विकल्पों की सहायता से रिक्त स्थानों की पूर्ति कीजिए। प्रत्येक संख्या के लिए सबसे उपयुक्त विकल्प का चयन कीजिए।
कविता बनाना 1. _____ नहीं है। यह भगवान द्वारा मिला 2. _____ है। यह गुण अनेक लोगों में होता है, 3. _____ उन्हें इसका बोध नहीं होता। सही 4. _____ मिलने पर उनकी सोई हुई काव्य- प्रतिभा जाग उठती है।
अतः अध्यापकों का 5. _____ बनता है कि वे बच्चों की काव्य-प्रतिभा के विकास का उपाय करें। केवल यह कहने पर कि बारिश पर कविता बनाओ विद्यार्थी कुछ भी नहीं कर पाते।

SubQuestion No : 19

Q.19 रिक्त स्थान 4 की पूर्ति के लिए सबसे उपयुक्त विकल्प का चयन करें।

- Ans 1. मौका न मिलने पर
 2. अवसर
 3. अकेले होने पर
 4. दुखी होने पर

Question ID : 264330110924

Status : Answered

Chosen Option : 2

Comprehension:

निम्नलिखित गद्यांश में कुछ शब्दों को हटा दिया गया है। दिए गए विकल्पों की सहायता से रिक्त स्थानों की पूर्ति कीजिए। प्रत्येक संख्या के लिए सबसे उपयुक्त विकल्प का चयन कीजिए।
कविता बनाना 1. _____ नहीं है। यह भगवान द्वारा मिला 2. _____ है। यह गुण अनेक लोगों में होता है, 3. _____ उन्हें इसका बोध नहीं होता। सही 4. _____ मिलने पर उनकी सोई हुई काव्य- प्रतिभा जाग उठती है।
अतः अध्यापकों का 5. _____ बनता है कि वे बच्चों की काव्य-प्रतिभा के विकास का उपाय करें। केवल यह कहने पर कि बारिश पर कविता बनाओ विद्यार्थी कुछ भी नहीं कर पाते।

SubQuestion No : 20

Q.20 रिक्त स्थान 5 की पूर्ति के लिए सबसे उपयुक्त विकल्प का चयन करें।

- Ans 1. योग्यता
 2. कर्तव्य
 3. काम नहीं है
 4. अकर्तव्य

Question ID : 264330110925

Status : Answered

Chosen Option : 2