

# Constable GD in CAPFs SSF Rifleman GD in Assam Rifles and Sepoy in NCB Examination 2022

Roll Number	
Candidate Name	
Venue Name	
Exam Date	02/02/2023
Exam Time	9:00 AM - 10:00 AM
Subject	Constable GD Examination 2022

## Section : Part-A-General Intelligence and Reasoning

Q.1 सात व्यक्ति A, B, C, D, E, F और G एक सीधी पंक्ति में उत्तर की ओर मुख करके बैठे हैं। A बाईं ओर से दूसरे स्थान पर बैठा है। A और C के बीच केवल दो व्यक्ति बैठे हैं। D और F के बीच केवल तीन व्यक्ति बैठे हैं, और D, A के ठीक बगल में है। B, D के ठीक बगल में है, और E, C के ठीक बगल में नहीं है। A और G के बीच में कितने व्यक्ति बैठे हैं?

Ans  1.3

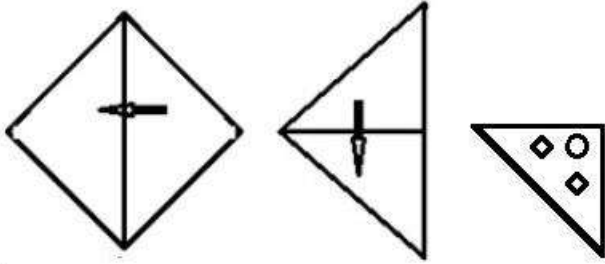
2.1

3.2

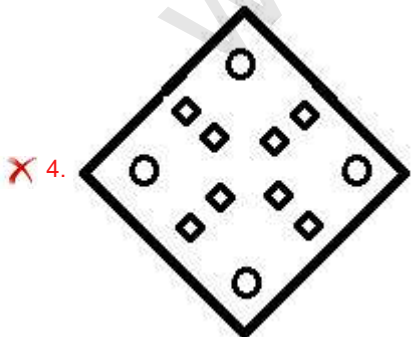
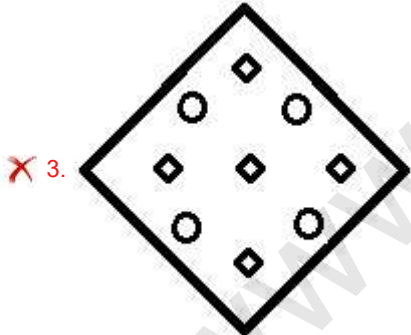
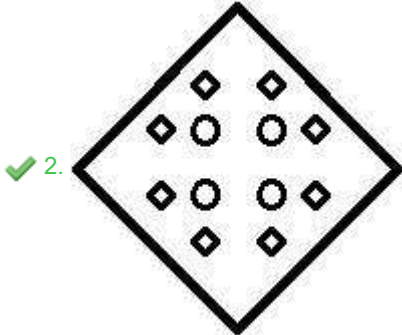
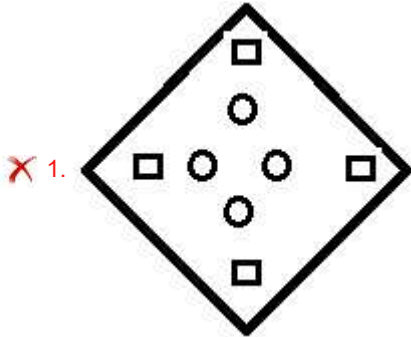
4.4

Q.2 एक कागज को नीचे दिखाए अनुसार मोड़ा और काटा गया है। कागज को खोलने

पर यह कैसा दिखाई देगा?



Ans



Question ID : 26433082339

Status : Answered

Chosen Option : 2

Q.3 उस विकल्प का चयन करें जो चौथे पद से उसी प्रकार संबंधित है, जिस प्रकार पहला पद दूसरे पद से और पांचवां पद छठे पद से संबंधित है।  
18 : 45 :: ? : 60 :: 30 : 75

- Ans  1. 26  
 2. 22  
 3. 24  
 4. 20

Question ID : 26433069098  
Status : Not Answered  
Chosen Option : --

Q.4 निम्नलिखित में से कौन-सा अक्षर-समूह दी गई श्रृंखला में प्रश्न-चिह्न (?) के स्थान पर आएगा?  
XTEB, UQHE, RNKH, ?, LHQN

- Ans  1. OKOK  
 2. OKNK  
 3. PKOK  
 4. PKNJ

Question ID : 26433076441  
Status : Answered  
Chosen Option : 2

Q.5 तीन कथनों के बाद तीन निष्कर्ष I, II और III दिए गए हैं। कथनों को सत्य मानते हुए, भले ही वे सामान्य रूप से ज्ञात तथ्यों से भिन्न प्रतीत होते हों, निर्धारित करें कि कौन-सा/से निष्कर्ष, कथनों का तार्किक रूप से अनुसरण करता है/करते हैं।

कथन:

सभी बिस्तर टेबल हैं।

सभी खाट टेबल हैं।

सभी टेबल नल हैं।

निष्कर्ष:

I. सभी खाट नल हैं।

II. कुछ नल टेबल हैं।

III. कुछ बिस्तर खाट हैं।

- Ans  1. केवल निष्कर्ष I और III अनुसरण करते हैं  
 2. केवल निष्कर्ष I और II अनुसरण करते हैं  
 3. केवल निष्कर्ष II और III अनुसरण करते हैं  
 4. सभी निष्कर्ष अनुसरण करते हैं

Question ID : 26433082314  
Status : Answered  
Chosen Option : 2

Q.6 एक निश्चित कूट भाषा में, 'DEVOUR' को 'WGEQFT' और 'VARIED' को 'ECIKVF' के रूप में लिखा जाता है। उसी कूट भाषा में 'BLANKET' को किस प्रकार से लिखा जाएगा?

- Ans
- 1. ZYNPGPG
  - 2. YMZPQGH
  - 3. YNZPPGG
  - 4. ZNUMCHA

Question ID : 26433069463

Status : Answered

Chosen Option : 3

Q.7 यदि '-' का अर्थ 'भाग', '+' का अर्थ 'गुणा', 'x' का अर्थ 'जोड़' और '÷' का अर्थ 'घटाव' है, तो निम्नलिखित में से कौन सा समीकरण सही है?

- Ans
- 1.  $20 + 6 - 4 \times 9 \div 6 = 32$
  - 2.  $10 + 3 - 2 \times 9 \div 2 = 21$
  - 3.  $10 \div 2 + 3 \div 9 \times 2 = 8$
  - 4.  $20 - 4 + 6 \div 9 \times 4 = 25$

Question ID : 26433085660

Status : Answered

Chosen Option : 4

Q.8 किस विकल्प में निम्नलिखित शब्दों का वह क्रम दिया गया है, जिस क्रम में वे अंग्रेजी शब्दकोश में आते हैं?

- 1 pilot
- 2 pivot
- 3 pipette
- 4 pigeon
- 5 pigment

- Ans
- 1. 5,4,1,2,3
  - 2. 5,2,3,1,4
  - 3. 4,3,1,2,5
  - 4. 4,5,1,3,2

Question ID : 26433069314

Status : Answered

Chosen Option : 4

Q.9 उस विकल्प का चयन करें जो तीसरे पद से उसी तरह से संबंधित है, जिस तरह से दूसरा पद पहले पद से संबंधित है।

MEMBRANE : LDLAQZMD :: PRIVILEGE : ?

- Ans
- 1. GFDHUHKDFD
  - 2. QSHUHKDFD
  - 3. HGHUHKDFD
  - 4. OQHUHKDFD

Question ID : 26433067262

Status : Answered

Chosen Option : 4

Q.10 छः विद्यार्थी एक वृत्ताकार मेज के परितः मेज के केंद्र की ओर मुख करके बैठे हैं। F, A के ठीक बगल में है। D, E के दाईं ओर दूसरे स्थान पर बैठा है। B, E के ठीक बगल में है, और C के दाईं ओर दूसरे स्थान पर बैठा है। F, D के दाईं ओर दूसरे स्थान पर बैठा है। A, E के ठीक बगल में नहीं है। A के दाईं ओर से देखे जाने पर, E और A के बीच कौन बैठा है?

- Ans  1. F और C  
 2. D और C  
 3. F और B  
 4. C और B

Question ID : 26433092768

Status : Answered

Chosen Option : 1

Q.11 एक फोटो को देखते हुए मारिया ने कहा "वह मेरी माँ की माँ की इकलौती बेटी है"। मारिया फोटो में दिख रहे व्यक्ति से किस प्रकार संबंधित है?

- Ans  1. बहन  
 2. बुआ  
 3. बेटी  
 4. मौसी

Question ID : 26433074602

Status : Answered

Chosen Option : 3

Q.12 निम्नलिखित में से कौन-सी संख्या दी गई श्रृंखला में प्रश्न-चिह्न (?) की जगह पर आएगी?  
1, 3, 6, ?, 20, 37

- Ans  1. 9  
 2. 12  
 3. 8  
 4. 11

Question ID : 26433080720

Status : Answered

Chosen Option : 2

Q.13 कौन-सा अक्षर-समूह दी गई श्रृंखला में प्रश्नचिह्न (?) के स्थान पर आकर श्रृंखला को पूर्ण करेगा?  
CPFG, ENHE, ?, IJLA, KHNY

- Ans  1. GLJC  
 2. GLLC  
 3. GLKD  
 4. GLKC

Question ID : 26433068571

Status : Answered

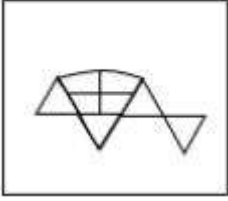
Chosen Option : 1

Q.14 निम्न विकल्पों में से उस उत्तर आकृति का चयन करें जिसमें नीचे दी गई प्रश्न आकृति निहित है (आकृति घुमाने की अनुमति नहीं है)।

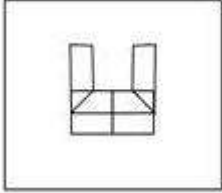


Ans

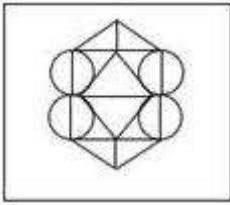
✗ 1.



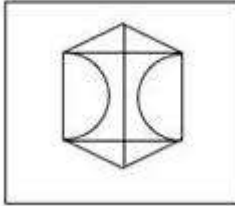
✗ 2.



✓ 3.



✗ 4.



Question ID : 26433070208

Status : Answered

Chosen Option : 3

Q.15 निम्न में से कौन सी संख्या दी गई श्रृंखला में प्रश्नचिह्न (?) के स्थान पर आएगी?  
10, 27, 78, 231, ?, 2067

Ans ✗ 1. 665

✗ 2. 656

✓ 3. 690

✗ 4. 640

Question ID : 26433076750

Status : Answered

Chosen Option : 3

Q.16 दी गई आकृति के सही दर्पण प्रतिबिम्ब का चयन करें जब दर्पण को MN पर रखा जाए जैसा कि नीचे दर्शाया गया है।



Ans

- 1. Questionaire
- 2. Questionaire
- 3. Questionaire
- 4. Questionaire

Question ID : 26433085548

Status : Answered

Chosen Option : 3

Q.17 उस विकल्प का चयन करें, जो पांचवे अक्षर-समूह से उसी प्रकार संबंधित है, जिस प्रकार दूसरा अक्षर-समूह पहले अक्षर-समूह से संबंधित है, और चौथा अक्षर-समूह तीसरे अक्षर-समूह से संबंधित है।

ACBO : PCDB :: JLKM : NLMK :: KJIH : ?

- Ans
- 1. JILK
  - 2. IJKL
  - 3. JIKL
  - 4. IJLK

Question ID : 26433080464

Status : Answered

Chosen Option : 2

Q.18 एक कूट भाषा में 'dark colors' को 'yu nu', 'days are bright' को 'wu tu ku', 'nights are dark' को 'ku nu pu', 'paint bright' को 'wu ru' के रूप में कूटबद्ध किया जाता है। शब्द 'days' के लिए कूट क्या होगा?

- Ans
- 1. ku
  - 2. ru
  - 3. tu
  - 4. wu

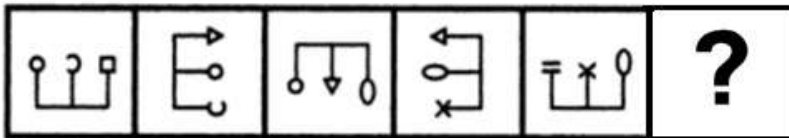
Question ID : 26433082273

Status : Answered

Chosen Option : 3

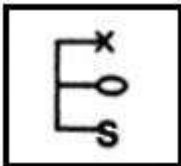
Q.19 दिए गए विकल्पों में से उस आकृति का चयन करें जो निम्नलिखित श्रृंखला में

प्रश्नवाचक चिह्न (?) का स्थान ले सकती है।

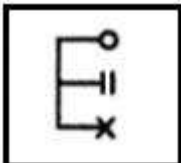


Ans

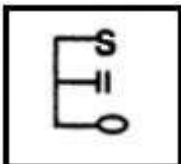
✗ 1.



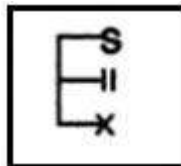
✗ 2.



✗ 3.



✓ 4.



Question ID : 26433080491

Status : Answered

Chosen Option : 1

Q.20 नीचे दिए गए समीकरण को गणितीय रूप से सही बनाने के लिए किन दो चिन्हों को परस्पर बदलना चाहिए?

$$54 + 18 \div 9 - 36 \times 16 = 88$$

Ans ✗ 1. + और +

✓ 2. × और +

✗ 3. + और ×

✗ 4. + और -

Question ID : 264330117537

Status : Answered

Chosen Option : 2



Q.1 निम्न में से कौन-सा नृत्य मध्य प्रदेश के मालवा क्षेत्र के ग्रामीण इलाकों की महिलाओं द्वारा किया जाता है?

- Ans
- 1. डांडिया रास
  - 2. थिरयट्टम
  - 3. पढ़यनि
  - 4. मटकी नृत्य

Question ID : 26433071690

Status : Answered

Chosen Option : 4

Q.2 खिलाड़ियों और उनके जन्म के राज्य/केंद्र शासित प्रदेश से संबंधित निम्नलिखित में से कौन सा एक गलत मिलान है?

- Ans
- 1. सानिया मिर्जा – महाराष्ट्र
  - 2. अंजुम चोपड़ा - नई दिल्ली
  - 3. मिताली राज – तमिलनाडु
  - 4. साइना नेहवाल - हरियाणा

Question ID : 26433089932

Status : Not Answered

Chosen Option : --

Q.3 भारतीय संविधान के 101वें संविधान संशोधन अधिनियम ने निम्न प्रणाली की शुरुआत की:

- Ans
- 1. एक देश, एक आय'
  - 2. एक देश, एक कर'
  - 3. एक व्यक्ति, एक कर'
  - 4. एक व्यक्ति, एक दर'

Question ID : 264330116210

Status : Answered

Chosen Option : 2

Q.4 कोशिकाद्रव्य में राइबोसोम, माइटोकॉन्ड्रिया और गॉल्जीकाय जैसे \_\_\_\_\_ होते हैं।

- Ans
- 1. अंग
  - 2. कोश
  - 3. कोशिकांग
  - 4. ऊतक

Question ID : 264330115243

Status : Answered

Chosen Option : 3

Q.5 निम्नलिखित चार में से तीन व्यापार के लिए सहायक हैं, और अतः एक समूह बनाते हैं। वह कौन-सा है, जो उस समूह से संबंधित नहीं है?

- Ans
- 1. परिवहन
  - 2. कृषि
  - 3. भंडारण (Warehousing)
  - 4. बीमा (Insurance)

Question ID : 264330115571

Status : Answered

Chosen Option : 4

Q.6 गौतम बुद्ध के भक्तों द्वारा मनाई जाने वाली बुद्ध पूर्णिमा, हिंदू माह \_\_\_\_\_ में मनाई जाती है।

- Ans
- 1. माघ
  - 2. फाल्गुन
  - 3. वैशाख
  - 4. चैत्र

Question ID : 264330115121

Status : Answered

Chosen Option : 2

Q.7 सुनंदा नायर ने मुंबई विश्वविद्यालय से \_\_\_\_\_ नृत्य शैली में PhD पूर्ण की। उनकी थीसिस "इंड्रिसिक लिरिकल फेमिनिज्म" में था।

- Ans
- 1. कुचिपुड़ी
  - 2. कथकली
  - 3. मोहिनीअट्टम
  - 4. भरतनाट्यम

Question ID : 264330115864

Status : Answered

Chosen Option : 3

Q.8 बजरंग पुनिया ने किस टूर्नामेंट में दौलत नियाजबेकोव को हराकर कांस्य पदक जीता था?

- Ans
- 1. टोक्यो ओलंपिक 2020
  - 2. एशियाई खेल 2014
  - 3. राष्ट्रमंडल खेल 2014
  - 4. लंदन ओलंपिक 2012

Question ID : 264330116278

Status : Answered

Chosen Option : 1

Q.9 निम्नलिखित में से कौन वाकाटक राजवंश के संस्थापक थे?

- Ans
- 1. प्रवरसेन द्वितीय
  - 2. प्रवरसेन प्रथम
  - 3. विंध्यशक्ति
  - 4. प्रभावतीगुप्त

Question ID : 264330115463

Status : Not Answered

Chosen Option : --

Q.10 विकास की स्थिति के आधार पर संसाधनों का वर्गीकरण किस प्रकार किया जाता है?

- Ans
- 1. वैयक्तिक, अंतरराष्ट्रीय और राष्ट्रीय
  - 2. संभावित, विकसित स्टॉक और संचित कोष
  - 3. नवीकरणीय और गैर-नवीकरणीय
  - 4. जैविक और अजैविक

Question ID : 26433087887

Status : Answered

Chosen Option : 3

Q.11 भारतीय संविधान के किस अनुच्छेद के तहत मौलिक कर्तव्यों को परिभाषित किया गया है?

- Ans
- 1. 50A
  - 2. 53A
  - 3. 51A
  - 4. 52A

Question ID : 26433089950

Status : Answered

Chosen Option : 3

Q.12 करेंसी नोट और सिक्कों को कागज़ी मुद्रा कहते हैं। इन्हें \_\_\_\_\_ भी कहा जाता है।

- Ans
- 1. पट्टा विलेख
  - 2. कानूनी निविदा
  - 3. ऋण विलेख
  - 4. कानूनी अनुबंध

Question ID : 264330115324

Status : Answered

Chosen Option : 2

Q.13 वाशिंग सोडा का रासायनिक सूत्र \_\_\_\_\_ है।

- Ans
- 1.  $\text{Na}_2\text{SO}_4$
  - 2.  $\text{Ca}(\text{OH})_2$
  - 3.  $\text{Na}_2\text{CO}_3 \cdot 10\text{H}_2\text{O}$
  - 4.  $\text{NaHCO}_3$

Question ID : 26433089648

Status : Not Answered

Chosen Option : --

Q.14 पश्चिम बंगाल किस देश के साथ अपनी सबसे लंबी सीमा साझा करता है?

- Ans
- 1. भूटान
  - 2. बांग्लादेश
  - 3. म्यांमार
  - 4. नेपाल

Question ID : 264330116102

Status : Answered

Chosen Option : 2

Q.15 निम्नलिखित में से कौन सार्वजनिक क्षेत्र की कंपनी का उदाहरण नहीं है?

- Ans
- 1. सेल (SAIL)
  - 2. एनएसई (NSE)
  - 3. ओएनजीसी (ONGC)
  - 4. भेल (BHEL)

Question ID : 26433054785

Status : Not Answered

Chosen Option : --

Q.16 विनिर्मित वस्तुओं का निर्यात, व्यापार और वाणिज्य को \_\_\_\_\_ है।

- Ans
- 1. फैलाता
  - 2. संकुचित करता
  - 3. कम करता
  - 4. कमजोर करता

Question ID : 264330115409

Status : Not Answered

Chosen Option : --

Q.17 नवंबर 2022 तक की स्थिति के अनुसार, भारत में एक राजनीतिक दल, राष्ट्रवादी कांग्रेस पार्टी के अध्यक्ष कौन हैं?

- Ans
- 1. सुप्रिया सुले
  - 2. एकनाथ शिंदे
  - 3. नवाब मलिक
  - 4. शरद पवार

Question ID : 264330114945

Status : Answered

Chosen Option : 2

Q.18 1928 में, दिल्ली में फिरोजशाह कोटला मैदान में एक बैठक में \_\_\_\_\_ की स्थापना की गई थी। इसके नेताओं में भगत सिंह, जतिन दास और अजय घोष थे।

- Ans
- 1. कबुई नागा एसोसिएशन
  - 2. आल इंडिया डिप्रेस्ड क्लासेस एसोसिएशन
  - 3. हिन्दुस्तान सोशलिस्ट रिपब्लिकन एसोसिएशन
  - 4. मद्रास प्रेसीडेंसी एसोसिएशन

Question ID : 264330115705

Status : Answered

Chosen Option : 3

Q.19 नवंबर 2022 में, भारत के विधि आयोग के अध्यक्ष के रूप में किसे नियुक्त किया गया?

- Ans
- 1. न्यायमूर्ति रवि आर त्रिपाठी
  - 2. न्यायमूर्ति ऋतुराज अवस्थी
  - 3. एस. शिव कुमार
  - 4. एन. के. सिंह

Question ID : 264330115027

Status : Not Answered

Chosen Option : --

Q.20 निम्नलिखित में से कौन सा कथन भारत के संसद के संयुक्त सत्र के बारे में सही नहीं है?

- Ans
- 1. अब तक दोनों सदनों की संयुक्त बैठक तीन मौकों पर हो चुकी है।
  - 2. राज्य सभा के सभापति (उपराष्ट्रपति) संयुक्त सत्र की अध्यक्षता करते हैं।
  - 3. राष्ट्रपति संयुक्त सत्र के लिए दोनों सदनों की बैठक बुला सकता है।
  - 4. संसद के दोनों सदनों के बीच गतिरोध को दूर करने के लिए संयुक्त सत्र का आयोजन किया जाता है।

Question ID : 26433079562

Status : Answered

Chosen Option : 4

Q.1 1000 m की दौड़ में, जॉन ने खान को 120 m से हराया। यदि जॉन की चाल 40 km/h है, तो खान की चाल क्या होगी?

- Ans
- 1. 28.5 km/h
  - 2. 35.2 km/h
  - 3. 27 km/h
  - 4. 38.7 km/h

Question ID : 26433061169

Status : Answered

Chosen Option : 2

Q.2 2010 में एक देश की जनसंख्या 256080000 थी। 2020 तक जनसंख्या में 10 प्रतिशत की वृद्धि हो गई थी। 2020 में जनसंख्या है:

- Ans
- 1. 275040000
  - 2. 281688000
  - 3. 266050000
  - 4. 291475000

Question ID : 264330116814

Status : Answered

Chosen Option : 2

Q.3 6 cm भुजा वाले एक घन से काट कर निकाले जा सकने वाले सबसे बड़े गोले का आयतन क्या होगा?

- Ans
- 1.  $113.14 \text{ cm}^3$
  - 2.  $102.26 \text{ cm}^3$
  - 3.  $115.13 \text{ cm}^3$
  - 4.  $112.15 \text{ cm}^3$

Question ID : 26433066328

Status : Not Answered

Chosen Option : --

Q.4 एक अर्धगोलाकार कटोरा मोटे स्टील से बना है जिसकी मोटाई 0.5 cm है। यदि कटोरे का बाहरी व्यास 43 cm है, तो कटोरे की धारिता (capacity) ज्ञात कीजिए। ( $\pi = \frac{22}{7}$  का उपयोग कीजिए)

- Ans
- 1.  $38808 \text{ cm}^3$
  - 2.  $77616 \text{ cm}^3$
  - 3.  $3696 \text{ cm}^3$
  - 4.  $19404 \text{ cm}^3$

Question ID : 26433087409

Status : Not Answered

Chosen Option : --

Q.5 एक मोबाइल फोन का अंकित मूल्य ₹16,500 है। इस पर 8% की ल्यौहार छूट दी जाती है। इसके अलावा, नकद भुगतान के लिए 5% की दूसरी छूट दी जाती है। मोबाइल फोन खरीदने के लिए किया जाने वाला नकद भुगतान, रुपये में, कितना है?

- Ans
- 1. ₹14,872
  - 2. ₹14,421
  - 3. ₹14,512
  - 4. ₹14,671

Question ID : 26433092168

Status : Answered

Chosen Option : 2

Q.6 एक कार की कीमत में क्रमिक रूप से क्रमशः 5%, 10% और 20% की वृद्धि होती है। कीमत में समतुल्य परिवर्तन क्या है?

- Ans
- 1.  $34\frac{4}{5}\%$
  - 2.  $32\frac{1}{5}\%$
  - 3.  $33\frac{3}{5}\%$
  - 4.  $38\frac{3}{5}\%$

Question ID : 26433076071

Status : Answered

Chosen Option : 4

Q.7 एक महिला 75 km/h की चाल से कार द्वारा एक निश्चित दूरी तय करती है और तुरंत उसी कार से 100 km/h की चाल से प्रारंभिक बिंदु पर लौट आती है। कार की औसत चाल क्या है?

- Ans
- 1.  $86\frac{3}{7}$  km/h
  - 2.  $85\frac{5}{7}$  km/h
  - 3.  $95\frac{2}{7}$  km/h
  - 4.  $93\frac{3}{7}$  km/h

Question ID : 26433076070

Status : Answered

Chosen Option : 2

Q.8 A एक घंटे में 11 बेंच की मरम्मत कर सकता है और B एक घंटे में 5 बेंच की मरम्मत कर सकता है। जब वे मिलकर एक साथ काम करते हैं तो निर्धारित करें कि 64 बेंचों की मरम्मत में उन्हें कितना समय लगेगा?

- Ans
- 1. 3 घंटा
  - 2. 5 घंटा
  - 3. 4 घंटा
  - 4. 6 घंटा

Question ID : 26433080140

Status : Answered

Chosen Option : 3

Q.9 आकाश एक कार्य को 21 दिनों में कर सकता है और दीया उसी कार्य को 63 दिनों में कर सकती है। समान कार्य को पूरा करने में लगने वाला समय ज्ञात करें यदि वे एकांतर दिनों में (बारी बारी से) कार्य करते हैं, और आकाश कार्य आरंभ करता है।

- Ans
- 1. 27 दिन
  - 2. 29 दिन
  - 3. 31 दिन
  - 4. 28 दिन

Question ID : 264330116894

Status : Answered

Chosen Option : 3

Q.10 एक यात्रा में किरण ने बाइक से 50 मील प्रति घंटे की चाल से 3 घंटे तक यात्रा की। इसके अलावा उसने कार से 65 मील प्रति घंटे की चाल से 2 घंटे तक यात्रा की। वह आराम करने के लिए 2 घंटे रुका। आराम के बाद उसने अपने गंतव्य तक पहुँचने के लिए बाइक से 80 मील प्रति घंटे की चाल से 4 घंटे तक यात्रा की। पूरी यात्रा में किरण की औसत चाल ज्ञात करें। (मील प्रति घंटे में) (दशमलव के दो स्थान तक पूर्णांकित)

- Ans
- 1. 65.68
  - 2. 50.44
  - 3. 54.54
  - 4. 60.06

Question ID : 26433079915

Status : Answered

Chosen Option : 2

Q.11 एक व्यापारी 18% और 20% की दो क्रमिक छूट देता है। यदि अंकित मूल्य ₹11,000 है, तो विक्रय मूल्य \_\_\_\_\_ है।

- Ans
- 1. ₹6,716
  - 2. ₹7,926
  - 3. ₹7,216
  - 4. ₹6,926

Question ID : 26433080110

Status : Answered

Chosen Option : 1



Q.12 कोई किराना व्यापारी 15% के लाभ पर चावल बेचता है और बाजार के वजन से 20% कम वजन को उपयोग में लाता है। उसके द्वारा अर्जित कुल लाभ \_\_\_\_\_ होगा।

- Ans
- 1. 45.37%
  - 2. 47.35%
  - 3. 53.74%
  - 4. 43.75%

Question ID : 26433073009

Status : Answered

Chosen Option : 4

Q.13 यदि 8 एवं 24 का तीसरा समानुपाती 'A' है और 4 एवं 16 का मध्यानुपाती 'B' है, तो  $\frac{A}{B}$  का मान

\_\_\_\_\_ है।

- Ans
- 1. 10
  - 2. 8
  - 3. 9
  - 4. 12

Question ID : 26433082393

Status : Answered

Chosen Option : 3

Q.14 0.1 और 0.12 का तृतीयानुपाती ज्ञात करें।

- Ans
- 1. 0.122
  - 2. 0.144
  - 3. 0.24
  - 4. 0.124

Question ID : 26433081715

Status : Answered

Chosen Option : 2

Q.15 एक नदी 2 kmph की चाल से बह रही है। एक नाव कुल 10 घंटों में धारा की विपरीत दिशा में 40 km जाती है और B से A तक वापस भी आती है। शांत जल में नाव की चाल ज्ञात करें।

- Ans
- 1. 7.97 kmph
  - 2. 6.23 kmph
  - 3. 8.47 kmph
  - 4. 7.32 kmph

Question ID : 26433080242

Status : Not Answered

Chosen Option : --

Q.16

यदि  $3\frac{1}{3} \div 6\frac{3}{7} \times 1\frac{1}{2} \times 3\frac{1}{7} = (p)^{1/2}$  है, तो 'p' का मान क्या है?

Ans

✗ 1.  $\frac{484}{3}$

✓ 2.  $\frac{484}{81}$

✗ 3.  $\frac{22}{9}$

✗ 4.  $\frac{22}{3}$

Question ID : 26433075135

Status : Not Answered

Chosen Option : --

Q.17 यदि ब्याज की दर पहले वर्ष के लिए 16% वार्षिक, दूसरे वर्ष के लिए 20% वार्षिक और तीसरे वर्ष के लिए 15% वार्षिक है, तो Rs.15,000 पर तीन वर्षों के लिए चक्रवृद्धि ब्याज ज्ञात कीजिए।

Ans

✓ 1. Rs.9,012

✗ 2. Rs.8,012

✗ 3. Rs.8,015

✗ 4. Rs.9,015

Question ID : 26433064988

Status : Not Answered

Chosen Option : --

Q.18 12 से विभाज्य 2 अंकीय सबसे बड़ी संख्या और 8 से विभाज्य 2 अंकीय सबसे छोटी संख्या का लघुत्तम समापवर्त्य ज्ञात करें।

Ans

✗ 1. 192

✗ 2. 48

✓ 3. 96

✗ 4. 384

Question ID : 264330116662

Status : Not Answered

Chosen Option : --

Q.19 एक दुकानदार दो तरह से अपने ग्राहक को धोखा देता है। वह शुद्ध शहद में 20% पानी मिला देता है और शहद की कीमत 15% बढ़ा देता है। वह 40 kg शुद्ध शहद के लिए Rs.30/ kg की दर से भुगतान करता है। वह इसे बेचकर कुल कितना लाभ कमाता है?

Ans

✗ 1. Rs.422

✓ 2. Rs.456

✗ 3. Rs.435

✗ 4. Rs.468

Question ID : 26433075848

Status : Not Answered

Chosen Option : --

Q.20 एक गाँव की वर्तमान जनसंख्या 50,000 है। शहरों की ओर पलायन के कारण जनसंख्या में प्रतिवर्ष 5% की दर से कमी आती है। 2 वर्ष के बाद गाँव की जनसंख्या ज्ञात कीजिए।

Ans  1. 45125

2. 48475

3. 41525

4. 44875

Question ID : 26433092027

Status : Not Answered

Chosen Option : --

Section : Part-D-English

Q.1 Select the most appropriate synonym for the given word.

False

Ans  1. Unfair

2. Untrue

3. Correct

4. Genuine

Question ID : 26433086372

Status : Not Answered

Chosen Option : --

Q.2 Select the most appropriate option that can substitute the underlined segment in the given sentence.

Everyone was shocked to see the old man upset and unkempt.

Ans  1. violent and rigorous

2. messy and untidy

3. up and doing

4. proud and useless

Question ID : 26433099873

Status : Not Answered

Chosen Option : --

Q.3 Select the most appropriate ANTONYM of the given word.

Steady

Ans  1. Voluntary

2. Wavering

3. Undeviating

4. Contrived

Question ID : 26433084687

Status : Not Answered

Chosen Option : --

**Q.4** Select the word segment that substitutes (replaces) the bracketed word segment correctly and completes the sentence meaningfully.

After the teacher chose groups, John and Sara (was selected as partners for project), yet Sarah did most of the work.

- Ans
- 1. have selected as a partners for a project
  - 2. has selected as a partner for a project
  - 3. were selected as partners for a project
  - 4. had selected as partners for project

Question ID : 26433088963  
Status : Not Answered  
Chosen Option : --

**Q.5** Select the most appropriate meaning of the given idiom.

**In the fast lane**

- Ans
- 1. In terrific speed
  - 2. In great excitement
  - 3. In perfect discipline
  - 4. In complete fear

Question ID : 26433073482  
Status : Not Answered  
Chosen Option : --

**Q.6** Select the most appropriate ANTONYM of the given word.  
**Realm**

- Ans
- 1. Domain
  - 2. Activity
  - 3. Kingdom
  - 4. Sky

Question ID : 26433084749  
Status : Not Answered  
Chosen Option : --

**Q.7** Select the most appropriate option to fill in the blank.

The article \_\_\_\_\_ several experts on the subject.

- Ans
- 1. sits
  - 2. cites
  - 3. sites
  - 4. sights

Question ID : 26433060331  
Status : Not Answered  
Chosen Option : --

Q.8 Select the most appropriate option to fill in the blank.

Neha has \_\_\_\_\_ and won't come to work for a few days.

- Ans
- 1. floo
  - 2. flew
  - 3. flu
  - 4. flue

Question ID : 26433088940  
Status : Not Answered  
Chosen Option : --

Q.9 Parts of the given sentence have been given as options. One of them contains a spelling error. Select the option that rectifies the error.

According to a study by BBC across 66 different sports, five out of every six sports now give equal prize money to men and women at the world championship level.

- Ans
- 1. championship
  - 2. akcross
  - 3. wumen
  - 4. diferent

Question ID : 26433072040  
Status : Not Answered  
Chosen Option : --

Q.10 Substitute the underline word with its appropriate synonym.

The crew of the ship was attacked.

- Ans
- 1. synced
  - 2. assaulted
  - 3. worshipped
  - 4. saved

Question ID : 26433073935  
Status : Not Answered  
Chosen Option : --

Q.11 Select the most appropriate meaning of the given idiom.

Penny wise and pound foolish

- Ans
- 1. Serious about wealth but never working hard
  - 2. Writing powerfully but speaking poorly
  - 3. Careful in trivial matters but wasteful in large
  - 4. Good at spending but bad at earning

Question ID : 26433073491  
Status : Not Answered  
Chosen Option : --

Q.12 Select the most appropriate option that can substitute the underlined segment in the given sentence.

During an office tour to Mumbai, I chanced to meet an old friend.

- Ans  1. ran into  
 2. ran over  
 3. ran about  
 4. ran down

Question ID : 26433089092  
Status : Not Answered  
Chosen Option : --

Q.13 Select the INCORRECTLY spelt word.

- Ans  1. Coutious  
 2. Intelligent  
 3. Irrational  
 4. Excessive

Question ID : 26433087934  
Status : Not Answered  
Chosen Option : --

Q.14 Select the most appropriate synonym of the given word.  
Enmity

- Ans  1. Hostility  
 2. Variability  
 3. Pretext  
 4. Probability

Question ID : 26433084666  
Status : Not Answered  
Chosen Option : --

Q.15 Parts of the following sentence have been given as options. One of them may contain an error. Select the part that contains the error from the given options. If you don't find any error, mark 'No error' as your answer.

The old man think his younger daughter was mocking him.

- Ans  1. The old man think  
 2. was mocking him  
 3. his younger daughter  
 4. No error

Question ID : 26433090484  
Status : Not Answered  
Chosen Option : --

**Comprehension:**

In the following passage some words have been deleted. Fill in the blanks with the help of the alternatives given. Select the most appropriate option for each number.

Summer camp is a terrific idea used primarily by schools to (1)\_\_\_\_\_ pupils to acquire and master new skills. It is an (2)\_\_\_\_\_ outdoor activity. Many parents offer to enrol their kids in summer camps so they can participate in (3)\_\_\_\_\_ activities, discover their talents and passions, and broaden their horizons. Summer camps are (4)\_\_\_\_\_ for all children for ten to fifteen days by various schools or other organisations. These summer camps (5)\_\_\_\_\_ entertaining educational activities like fitness classes, hobby improvement classes, learning lectures, sports activities, musical performances, etc. The pupils' general development and growth are benefitted from these summer camps.

**SubQuestion No : 16**

**Q.16 Select the most appropriate answer for blank 1.**

- Ans  1. accelerate  
 2. assist  
 3. hinder  
 4. examine

Question ID : 26433089700

Status : Not Answered

Chosen Option : --

**Comprehension:**

In the following passage some words have been deleted. Fill in the blanks with the help of the alternatives given. Select the most appropriate option for each number.

Summer camp is a terrific idea used primarily by schools to (1)\_\_\_\_\_ pupils to acquire and master new skills. It is an (2)\_\_\_\_\_ outdoor activity. Many parents offer to enrol their kids in summer camps so they can participate in (3)\_\_\_\_\_ activities, discover their talents and passions, and broaden their horizons. Summer camps are (4)\_\_\_\_\_ for all children for ten to fifteen days by various schools or other organisations. These summer camps (5)\_\_\_\_\_ entertaining educational activities like fitness classes, hobby improvement classes, learning lectures, sports activities, musical performances, etc. The pupils' general development and growth are benefitted from these summer camps.

**SubQuestion No : 17**

**Q.17 Select the most appropriate answer for blank 2.**

- Ans  1. assembled  
 2. organised  
 3. aggravated  
 4. omitted

Question ID : 26433089701

Status : Not Answered

Chosen Option : --

### Comprehension:

In the following passage some words have been deleted. Fill in the blanks with the help of the alternatives given. Select the most appropriate option for each number.

Summer camp is a terrific idea used primarily by schools to (1)\_\_\_\_\_ pupils to acquire and master new skills. It is an (2)\_\_\_\_\_ outdoor activity. Many parents offer to enrol their kids in summer camps so they can participate in (3)\_\_\_\_\_ activities, discover their talents and passions, and broaden their horizons. Summer camps are (4)\_\_\_\_\_ for all children for ten to fifteen days by various schools or other organisations. These summer camps (5)\_\_\_\_\_ entertaining educational activities like fitness classes, hobby improvement classes, learning lectures, sports activities, musical performances, etc. The pupils' general development and growth are benefitted from these summer camps.

#### SubQuestion No : 18

Q.18 Select the most appropriate answer for blank 3.

Ans  1. numerous

2. few

3. much

4. more

Question ID : 26433089702

Status : Not Answered

Chosen Option : --

### Comprehension:

In the following passage some words have been deleted. Fill in the blanks with the help of the alternatives given. Select the most appropriate option for each number.

Summer camp is a terrific idea used primarily by schools to (1)\_\_\_\_\_ pupils to acquire and master new skills. It is an (2)\_\_\_\_\_ outdoor activity. Many parents offer to enrol their kids in summer camps so they can participate in (3)\_\_\_\_\_ activities, discover their talents and passions, and broaden their horizons. Summer camps are (4)\_\_\_\_\_ for all children for ten to fifteen days by various schools or other organisations. These summer camps (5)\_\_\_\_\_ entertaining educational activities like fitness classes, hobby improvement classes, learning lectures, sports activities, musical performances, etc. The pupils' general development and growth are benefitted from these summer camps.

#### SubQuestion No : 19

Q.19 Select the most appropriate answer for blank 4.

Ans  1. performed

2. held

3. executed

4. quoted

Question ID : 26433089703

Status : Not Answered

Chosen Option : --



### Comprehension:

In the following passage some words have been deleted. Fill in the blanks with the help of the alternatives given. Select the most appropriate option for each number.

Summer camp is a terrific idea used primarily by schools to (1)\_\_\_\_\_ pupils to acquire and master new skills. It is an (2)\_\_\_\_\_ outdoor activity. Many parents offer to enrol their kids in summer camps so they can participate in (3)\_\_\_\_\_ activities, discover their talents and passions, and broaden their horizons. Summer camps are (4)\_\_\_\_\_ for all children for ten to fifteen days by various schools or other organisations. These summer camps (5)\_\_\_\_\_ entertaining educational activities like fitness classes, hobby improvement classes, learning lectures, sports activities, musical performances, etc. The pupils' general development and growth are benefitted from these summer camps.

#### SubQuestion No : 20

Q.20 Select the most appropriate answer for blank 5.

- Ans  1. align  
 2. arrange  
 3. adapt  
 4. exhibit

Question ID : 26433089704

Status : Not Answered

Chosen Option : --

#### Section : Part-D-Hindi

Q.1 निम्न वाक्य में रेखांकित शब्द के विलोम से दिए गए वाक्य का रिक्त स्थान पूर्ण करें।  
पुरानी इमारत में भयानक आग लगी है, बुझाने के लिए \_\_\_\_\_ की आवश्यकता है।

- Ans  1. रेत  
 2. पानी  
 3. वायु  
 4. बारिश

Question ID : 26433085002

Status : Answered

Chosen Option : 2

Q.2 निम्नलिखित में से कौन सा संज्ञा से बना विशेषण नहीं है?

- Ans  1. श्रद्धालु  
 2. स्वर्णिम  
 3. अच्छाई  
 4. सामाजिक

Question ID : 26433085053

Status : Not Answered

Chosen Option : --

Q.3 'द्विज' शब्द के लिए उपयुक्त वाक्य खंड चुनिए।

- Ans
- 1. बहुत बोलने वाला
  - 2. दो बार जन्म लेने वाला
  - 3. बहुत जानने वाला
  - 4. पहले जन्म लेने वाला

Question ID : 26433063056

Status : Answered

Chosen Option : 2

Q.4 वर्तनी की दृष्टि से अशुद्ध वाक्य का चयन कीजिए-

- Ans
- 1. यदि इसकी तलाशी लगे तो घड़ी मिल जाएगी।
  - 2. स्वस्थ रहने वाले लोगों को वैद्य के पास नहीं जाना पड़ता।
  - 3. वह इंकार कर देने का परिणाम जानता है।
  - 4. यौवन वह काल है जब चरित्र का निर्माण होता है।

Question ID : 26433062898

Status : Answered

Chosen Option : 4

Q.5 वह एक उत्तम व्यक्ति है।

उक्त वाक्य में रेखांकित पद 'उत्तम' का विलोम क्या है?

- Ans
- 1. स्वतंत्र
  - 2. शाश्वत
  - 3. कृतघ्न
  - 4. अधम

Question ID : 26433079185

Status : Answered

Chosen Option : 4

Q.6 'नाकों चने चबवाना' मुहावरे का सही अर्थ है -

- Ans
- 1. अपनी बातों से परेशान करना
  - 2. बहस करना
  - 3. बातूनी होना
  - 4. बहुत तंग करना

Question ID : 26433065930

Status : Answered

Chosen Option : 4

Q.7 विकल्पों में से 'शशि' के पर्यायवाची शब्द चयन कर दिए गए वाक्य में रिक्त स्थान की पूर्ति कीजिए।  
पूर्णिमा की रात में \_\_\_\_\_ को देखकर हमें बड़ी खुशी हुई।

- Ans
- 1. कृष्णा
  - 2. पावक
  - 3. हिमांशु
  - 4. शतदल

Question ID : 26433063085

Status : Answered

Chosen Option : 3

Q.8 निम्न विकल्पों में से कौन सा शब्द दिए गए वाक्य में रेखांकित शब्द का पर्यायवाची नहीं है?  
मेरे घर के सामने जो बाग है, वह फूलों और 'लता' से भरा है।

- Ans
- 1. वल्लरी
  - 2. वेल्लि
  - 3. बेल
  - 4. तरंग

Question ID : 26433085071

Status : Answered

Chosen Option : 4

Q.9 निम्नलिखित में से किस वाक्य में गुणवाचक विशेषण अशुद्ध है?

- Ans
- 1. तुम दोनों यहाँ कैसे आये!
  - 2. यह मेरा कुत्ता है।
  - 3. यह एक नया इमारत है।
  - 4. इस भवन में तीन द्वार हैं।

Question ID : 26433062995

Status : Answered

Chosen Option : 4

Q.10 'वह स्थान जहाँ से यमुना निकलती है' वाक्यांश के लिए उचित शब्द होगा?

- Ans
- 1. अस्ताचल
  - 2. यमुनोत्री
  - 3. गंगोत्री
  - 4. उदर्याचल

Question ID : 26433067067

Status : Answered

Chosen Option : 2

Q.11 निम्नलिखित वाक्य में रेखांकित खंड के स्थान पर प्रयुक्त होने वाले सबसे उपयुक्त विकल्प का चयन कीजिए-

सोहन क्योंकि मोहन जाते हैं।

- Ans
- 1. परंतु
  - 2. और
  - 3. साथ
  - 4. तथापि

Question ID : 26433079661  
Status : Answered  
Chosen Option : 2

Q.12 'आकाश पाताल एक करना' मुहावरे का सही अर्थ है -

- Ans
- 1. आकाश में उड़ना
  - 2. घमंड करना
  - 3. बहुत मेहनत करना
  - 4. किसी का नुकसान करना

Question ID : 26433065920  
Status : Answered  
Chosen Option : 3

Q.13 'जो मुकदमा दायर करता है' वाक्यांश के लिए इनमें से सही शब्द क्या है?

- Ans
- 1. मुकदमेबाज
  - 2. गवाह
  - 3. प्रतिवादी
  - 4. वादी

Question ID : 26433070150  
Status : Answered  
Chosen Option : 3

Q.14 हमारे देश से आयात - निर्यात काफी होती है।

इस वाक्य को शुद्ध करके लिखिए।

- Ans
- 1. हमारे देश में आयात - निर्यात काफी होता है।
  - 2. हमारा देश में आयात - निर्यात होता है।
  - 3. हमारा देश को आयात - निर्यात काफी होता है।
  - 4. हमारे देश में आयात - निर्यात पर्याप्त होती हैं।

Question ID : 26433063073  
Status : Answered  
Chosen Option : 1

Q.15 निम्नलिखित विकल्पों में से 'आशा से परे' वाक्यांश के लिए एक सार्थक शब्द क्या होगा ?

- Ans  1. आशातीत  
 2. हताशा  
 3. निराशा  
 4. प्रत्याशा

Question ID : 26433062535

Status : Answered

Chosen Option : 1

**Comprehension:**

प्रश्न 1 से 5 तक के उत्तर निम्नांकित गद्यावतरण के आधार पर दीजिए।  
किसी देश की संस्कृति को जानने के लिए वहाँ के (1) \_\_\_\_\_ का पूरा अध्ययन नितांत आवश्यक है।  
साहित्य किसी देश तथा जाति के विकास का प्रतीक है। साहित्य से उस जाति के धार्मिक विचारों, सामाजिक संगठन, ऐतिहासिक घटनाचक्र तथा राजनीतिक परिस्थितियों का प्रतिबिंब मिल जाता है। भारतीय संस्कृति के मूल आधार हमारे साहित्य के (2) \_\_\_\_\_ ग्रंथ - रत्न हैं, जिनके विचारों से भारत की आंतरिक (3) \_\_\_\_\_ का ज्ञान हो जाता है। हमारे देश की बाहरी विविधता भारतीय (4) \_\_\_\_\_ के रूप में बहनेवाली विचार और संस्कृति की एकता को ढक लेती है। वांग्मय की (5) \_\_\_\_\_ एक है, पर वह अनेक भाषाओं, रूपों तथा परिस्थितियों में हमारे सामने आती है।

**SubQuestion No : 16**

Q.16 निम्नलिखित विकल्पों में से सही शब्द चुनकर रिक्त स्थान (1) की पूर्ति कीजिए।

- Ans  1. साहित्य  
 2. भूगोल  
 3. राजनीति विज्ञान  
 4. संस्कृत

Question ID : 26433069950

Status : Answered

Chosen Option : 1

**Comprehension:**

प्रश्न 1 से 5 तक के उत्तर निम्नांकित गद्यावतरण के आधार पर दीजिए।  
किसी देश की संस्कृति को जानने के लिए वहाँ के (1) \_\_\_\_\_ का पूरा अध्ययन नितांत आवश्यक है।  
साहित्य किसी देश तथा जाति के विकास का प्रतीक है। साहित्य से उस जाति के धार्मिक विचारों, सामाजिक संगठन, ऐतिहासिक घटनाचक्र तथा राजनीतिक परिस्थितियों का प्रतिबिंब मिल जाता है। भारतीय संस्कृति के मूल आधार हमारे साहित्य के (2) \_\_\_\_\_ ग्रंथ - रत्न हैं, जिनके विचारों से भारत की आंतरिक (3) \_\_\_\_\_ का ज्ञान हो जाता है। हमारे देश की बाहरी विविधता भारतीय (4) \_\_\_\_\_ के रूप में बहनेवाली विचार और संस्कृति की एकता को ढक लेती है। वांग्मय की (5) \_\_\_\_\_ एक है, पर वह अनेक भाषाओं, रूपों तथा परिस्थितियों में हमारे सामने आती है।

**SubQuestion No : 17**

Q.17 रिक्त स्थान (2) की पूर्ति 'कीमती' के पर्यायवाची शब्द से कीजिए।

- Ans  1. दुर्मूल्य  
 2. अतुल्य  
 3. अमूल्य  
 4. बाहुल्य

Question ID : 26433069951

Status : Answered

Chosen Option : 3

**Comprehension:**

प्रश्न 1 से 5 तक के उत्तर निम्नांकित गद्यावतरण के आधार पर दीजिए।

किसी देश की संस्कृति को जानने के लिए वहाँ के (1) \_\_\_\_\_ का पूरा अध्ययन नितांत आवश्यक है। साहित्य किसी देश तथा जाति के विकास का प्रतीक है। साहित्य से उस जाति के धार्मिक विचारों, सामाजिक संगठन, ऐतिहासिक घटनाचक्र तथा राजनीतिक परिस्थितियों का प्रतिबिंब मिल जाता है। भारतीय संस्कृति के मूल आधार हमारे साहित्य के (2) \_\_\_\_\_ ग्रंथ - रत्न हैं, जिनके विचारों से भारत की आंतरिक (3) \_\_\_\_\_ का ज्ञान हो जाता है। हमारे देश की बाहरी विविधता भारतीय (4) \_\_\_\_\_ के रूप में बहनेवाली विचार और संस्कृति की एकता को ढक लेती है। वांग्मय की (5) \_\_\_\_\_ एक है, पर वह अनेक भाषाओं, रूपों तथा परिस्थितियों में हमारे सामने आती है।

**SubQuestion No : 18**

Q.18 रिक्त स्थान (3) की पूर्ति 'अनेकता' के विलोम शब्द से कीजिए।

- Ans
- 1. एकाग्रता
  - 2. एकता
  - 3. समता
  - 4. ममता

Question ID : 26433069952

Status : Answered

Chosen Option : 2

**Comprehension:**

प्रश्न 1 से 5 तक के उत्तर निम्नांकित गद्यावतरण के आधार पर दीजिए।

किसी देश की संस्कृति को जानने के लिए वहाँ के (1) \_\_\_\_\_ का पूरा अध्ययन नितांत आवश्यक है। साहित्य किसी देश तथा जाति के विकास का प्रतीक है। साहित्य से उस जाति के धार्मिक विचारों, सामाजिक संगठन, ऐतिहासिक घटनाचक्र तथा राजनीतिक परिस्थितियों का प्रतिबिंब मिल जाता है। भारतीय संस्कृति के मूल आधार हमारे साहित्य के (2) \_\_\_\_\_ ग्रंथ - रत्न हैं, जिनके विचारों से भारत की आंतरिक (3) \_\_\_\_\_ का ज्ञान हो जाता है। हमारे देश की बाहरी विविधता भारतीय (4) \_\_\_\_\_ के रूप में बहनेवाली विचार और संस्कृति की एकता को ढक लेती है। वांग्मय की (5) \_\_\_\_\_ एक है, पर वह अनेक भाषाओं, रूपों तथा परिस्थितियों में हमारे सामने आती है।

**SubQuestion No : 19**

Q.19 रिक्त स्थान (4) की पूर्ति के लिए उपयुक्त शब्द का चयन विकल्पों में से कीजिए।

- Ans
- 1. वाहक
  - 2. वांग्मुख
  - 3. वांग्मय
  - 4. वाग्वैभव

Question ID : 26433069953

Status : Answered

Chosen Option : 3

**Comprehension:**

प्रश्न 1 से 5 तक के उत्तर निम्नांकित गद्यावतरण के आधार पर दीजिए।

किसी देश की संस्कृति को जानने के लिए वहाँ के (1) \_\_\_\_\_ का पूरा अध्ययन नितांत आवश्यक है। साहित्य किसी देश तथा जाति के विकास का प्रतीक है। साहित्य से उस जाति के धार्मिक विचारों, सामाजिक संगठन, ऐतिहासिक घटनाचक्र तथा राजनीतिक परिस्थितियों का प्रतिबिंब मिल जाता है। भारतीय संस्कृति के मूल आधार हमारे साहित्य के (2) \_\_\_\_\_ ग्रंथ - रत्न हैं, जिनके विचारों से भारत की आंतरिक (3) \_\_\_\_\_ का ज्ञान हो जाता है। हमारे देश की बाहरी विविधता भारतीय (4) \_\_\_\_\_ के रूप में बहनेवाली विचार और संस्कृति की एकता को ढक लेती है। वांग्मय की (5) \_\_\_\_\_ एक है, पर वह अनेक भाषाओं, रूपों तथा परिस्थितियों में हमारे सामने आती है।

**SubQuestion No : 20**

Q.20 स्त्रीलिंग संज्ञा शब्द से रिक्त स्थान (5) की पूर्ति कीजिए।

- Ans
- 1. आत्मा
  - 2. प्राण
  - 3. जीवन
  - 4. भगवान

Question ID : 26433069954

Status : Not Answered

Chosen Option : --

www.exammix.com

# Constable GD in CAPFs SSF Rifleman GD in Assam Rifles and Sepoy in NCB Examination 2022

Roll Number	
Candidate Name	
Venue Name	
Exam Date	02/02/2023
Exam Time	11:45 AM - 12:45 PM
Subject	Constable GD Examination 2022

## Section : Part-A-General Intelligence and Reasoning

Q.1 कौन-सा अक्षर-समूह दी गई श्रृंखला में प्रश्नचिह्न (?) के स्थान पर आकर श्रृंखला को पूर्ण करेगा?  
JLNP, ? , LNPR, MOQS, NPRT

- Ans
- 1. KNOR
  - 2. KOMQ
  - 3. KLNP
  - 4. KMOQ

Q.2 नीचे तीन कथनों के बाद तीन निष्कर्ष I, II और III दिए गए हैं। दिए गए कथनों को सत्य मानते हुए भले ही वे सर्वज्ञात तथ्यों से भिन्न प्रतीत होते हों, निर्धारित कीजिए कि कौन-सा/से निष्कर्ष कथनों का तर्कसंगत रूप से अनुसरण करता/करते है/हैं।

कथन:

सभी सेब केले हैं।

सभी अंगूर केले हैं।

सभी केले आलूबुखारे हैं।

निष्कर्ष:

I. सभी सेब आलूबुखारे हैं।

II. सभी अंगूर आलूबुखारे हैं।

III. कुछ अंगूर केले हैं।

- Ans
- 1. केवल निष्कर्ष I और II अनुसरण करते हैं
  - 2. सभी निष्कर्ष अनुसरण करते हैं
  - 3. केवल निष्कर्ष I और III अनुसरण करते हैं
  - 4. केवल निष्कर्ष II और III अनुसरण करते हैं

Question ID : 26433090242

Status : Answered

Chosen Option : 2



Q.3 किस विकल्प में निम्नलिखित शब्दों का वह क्रम दिया गया है, जिस क्रम में वे अंग्रेजी शब्दकोश में आते हैं।  
1 green  
2 grate  
3 greet  
4 groom  
5 great

- Ans  1. 2,4,1,3,5  
 2. 2,1,3,5,4  
 3. 2,5,1,3,4  
 4. 2,3,1,5,4

Question ID : 26433069288

Status : Answered

Chosen Option : 3

Q.4 दिए गए समीकरण को संतुलित करने के लिए विकल्पों में दी गई किन दो संख्याओं(अंको को नहीं) को परस्पर बदलना होगा?  
 $77 \div 7 - 2 \times 3 + 3 = 4$

- Ans  1. 3 और 77  
 2. 3 और 7  
 3. 2 और 4  
 4. 2 और 7

Question ID : 26433082478

Status : Answered

Chosen Option : 3

Q.5 कीर्ति, सुमन, शुभ, कनक, परी, चारु, श्लोक और शिवी एक वर्गाकार मेज के चारों ओर मेज के केंद्र की ओर मुख करके बैठे हैं। उनमें से कुछ कोनों पर बैठे हैं, जबकि कुछ भुजाओं के ठीक मध्य में बैठे हैं। कीर्ति, शुभ के बाईं ओर तीसरे स्थान पर बैठी है। कीर्ति किसी एक कोने पर बैठी है। कनक, परी के दाईं ओर दूसरे स्थान पर बैठी है। परी किसी भी कोने पर नहीं बैठी है। परी, कीर्ति के ठीक बगल में नहीं बैठी है। सुमन, चारु के ठीक बगल में बैठी है। सुमन किसी भी भुजा के ठीक मध्य में नहीं बैठी है। सुमन और श्लोक के बीच केवल तीन व्यक्ति बैठे हैं। शिवी के दाईं ओर दूसरे स्थान पर कौन बैठा/बैठी है?

- Ans  1. सुमन  
 2. चारु  
 3. श्लोक  
 4. शुभ

Question ID : 26433082293

Status : Answered

Chosen Option : 3

Q.6 उस विकल्प का चयन करें जो तीसरे शब्द से उसी प्रकार संबंधित है जिस प्रकार दूसरा शब्द पहले शब्द से संबंधित है। (शब्दों को अर्थपूर्ण शब्दों के रूप में मानना है, और उन्हें शब्द में अक्षरों/व्यंजनों/स्वरों की संख्या के आधार पर एक-दूसरे से संबंधित नहीं करना है।)  
रेलगाडी : पटरी :: कार : ?

- Ans
- 1. बस
  - 2. टायर
  - 3. सड़क
  - 4. पेट्रोल

Question ID : 26433082935

Status : Answered

Chosen Option : 3

Q.7 एक निश्चित कूट भाषा में, 'TEA' को '23' के रूप में लिखा जाता है और 'SKY' को '52' के रूप में लिखा जाता है। उसी भाषा में 'JAM' को कैसे लिखा जाएगा?

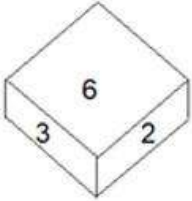
- Ans
- 1. 27
  - 2. 21
  - 3. 24
  - 4. 20

Question ID : 26433069641

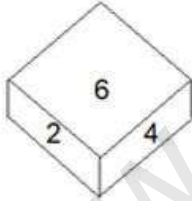
Status : Answered

Chosen Option : 2

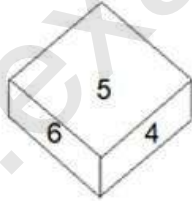
Q.8 एक ही पासे की तीन अलग-अलग स्थितियां दर्शाई गई हैं। '6' दर्शाने वाले फलक के विपरीत फलक पर संख्या ज्ञात करें।



आकृति 1



आकृति 2



आकृति 3

- Ans
- 1. 4
  - 2. 2
  - 3. 1
  - 4. 5

Question ID : 26433089452

Status : Answered

Chosen Option : 3

Q.9 यदि '+' का अर्थ है '-', '-' का अर्थ है 'x', 'x' का अर्थ है '÷' और '÷' का अर्थ है '+', तो निम्नलिखित में से कौन सा समीकरण सही होगा?

- Ans
- 1.  $96 \div 3 + 56 \times 16 - 5 = 45$
  - 2.  $20 + 44 \div 11 \times 3 - 9 = 30$
  - 3.  $108 + 3 - 36 \times 6 \div 15 = 105$
  - 4.  $15 - 6 \times 15 + 80 \div 2 = 25$

Question ID : 264330117551

Status : Not Answered

Chosen Option : --

Q.10 उस विकल्प का चयन कीजिए जो तीसरे शब्द से उसी प्रकार संबंधित है जिस प्रकार दूसरा शब्द पहले शब्द से संबंधित है। (शब्दों को अर्थपूर्ण शब्दों के रूप में मानना है और उन्हें शब्द में अक्षरों/व्यंजनों/स्वरों की संख्या के आधार पर एक-दूसरे से संबंधित नहीं करना है।)  
मेंढक : टेडपोल :: कीट : ?

- Ans
- 1. पक्षी
  - 2. मच्छर
  - 3. लार्वा
  - 4. गाय

Question ID : 26433067374

Status : Answered

Chosen Option : 3

Q.11 एक निश्चित कूट भाषा में, 'SQUARE' को 'UQSERU' के रूप में लिखा जाता है और 'CIRCLE' को 'RICELC' के रूप में लिखा जाता है, उसी भाषा में 'EQUATE' को कैसे लिखा जाएगा?

- Ans
- 1. UQEETE
  - 2. UQEETA
  - 3. AUQETA
  - 4. QQEETA

Question ID : 26433079391

Status : Answered

Chosen Option : 2

Q.12 उस विकल्प का चयन करें, जो पाँचवीं संख्या से उसी प्रकार संबंधित है, जिस प्रकार दूसरी संख्या, पहली संख्या से संबंधित है और चौथी संख्या, तीसरी संख्या से संबंधित है।  
53 : 7 :: 77 : 10 :: 69 : ?

- Ans
- 1. 12
  - 2. 8
  - 3. 11
  - 4. 9

Question ID : 26433069421

Status : Answered

Chosen Option : 4

Q.13 L, M, N, O, P, Q, और R एक पंक्ति में पूर्व की ओर मुख करके बैठे हुए हैं। O, N के दाईं ओर ठीक बगल में बैठा है। Q पंक्ति के किसी एक सिरे पर बैठा है और P उसके दाईं ओर ठीक बगल में बैठा है। L, M और N के बीच में बैठा है। पंक्ति के दाएं सिरे पर कौन बैठा है?

- Ans  1. M  
 2. R  
 3. Q  
 4. L

Question ID : 26433074625

Status : Answered

Chosen Option : 1

Q.14 निम्नलिखित में से कौन-सी संख्या दी गई श्रृंखला में प्रश्न चिह्न (?) के स्थान पर आएगी?  
400, 410, 425, 450, 490, ?

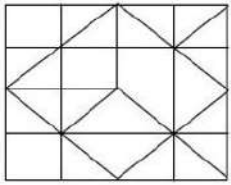
- Ans  1. 545  
 2. 540  
 3. 550  
 4. 555

Question ID : 26433087033

Status : Answered

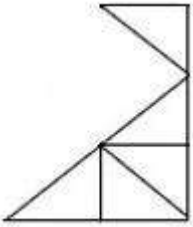
Chosen Option : 3

Q.15 उस विकल्प आकृति का चयन कीजिए, जो दी गई आकृति में अंतर्निहित है। (घूर्णन की अनुमति नहीं है।)

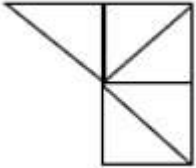


Ans

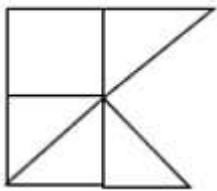
✓ 1.



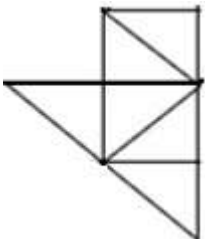
✗ 2.



✗ 3.



✗ 4.



Question ID : 26433081519

Status : Answered

Chosen Option : 4

Q.16 'P & Q' का अर्थ है 'P, Q की बहन है'  
 'P % Q' का अर्थ है 'P, Q का भाई है'  
 'P \$ Q' का अर्थ है 'P, Q की माता है'  
 'P = Q' का अर्थ है 'P, Q का पिता है'  
 A \$ B = C & D  
 C, A से किस प्रकार संबंधित है?

- Ans
- ✗ 1. पुत्री
  - ✗ 2. बहन
  - ✗ 3. माता
  - ✓ 4. पोती

Question ID : 26433083115

Status : Answered

Chosen Option : 4

Q.17 यदि श्रृंखला जारी रखनी है तो कौन-सी आकृति प्रश्न चिह्न (?) के स्थान पर

आएगी?

A D	T S	S A	V T	
S R	D A	T D	A S	?
	T	R	V	D

Ans

✗ 1.

T	S
V	A
	D

✓ 2.

T	S
V	A
	M

✗ 3.

A	V
S	T
	D

✗ 4.

A	V
S	T
	M

Question ID : 26433076640

Status : Answered

Chosen Option : 4

Q.18 निम्न में से कौन सी संख्या दी गई श्रृंखला में प्रश्नचिह्न (?) के स्थान पर आएगी?  
133, 156, ?, 202, 225, 248

Ans ✗ 1. 173

✗ 2. 166

✓ 3. 179

✗ 4. 186

Question ID : 26433076736

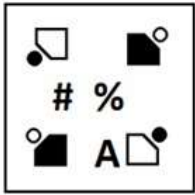
Status : Answered

Chosen Option : 3

Q.19 दर्पण को दाईं ओर रखे जाने पर, निम्नलिखित में से कौन-सी आकृति दी गई प्रश्न आकृति

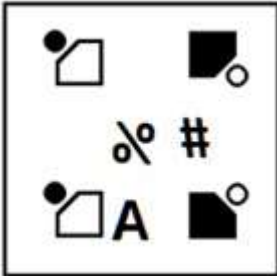
का सटीक दर्पण प्रतिबिम्ब होगी?

प्रश्न आकृति:

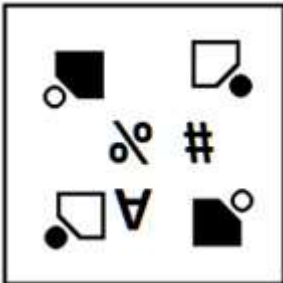


Ans


✗ 1.



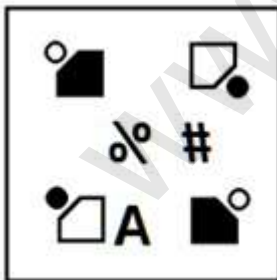
✗ 2.



✗ 3.



✓ 4.



Question ID : 26433087085

Status : Answered

Chosen Option : 4

Q.20 दिए गए विकल्पों में से उस अक्षर-समूह का चयन कीजिए जो निम्न श्रृंखला में प्रश्न-चिह्न (?) के स्थान पर आ सकता है।  
RAP, TEV, VIB, XMH, ?

- Ans  1. ZQN  
 2. YQN  
 3. YQB  
 4. ZQB

Question ID : 26433079032  
Status : Answered  
Chosen Option : 1

Section : Part-B-General Knowledge and General awareness

Q.1 प्लास्टर ऑफ पेरिस का रासायनिक नाम क्या है?

- Ans  1. कैल्शियम हाइपोक्लोराइड  
 2. कैल्शियम कार्बोनेट  
 3. कैल्शियम ऑक्साइड  
 4. कैल्शियम सल्फेट हेमीहाइड्रेट

Question ID : 264330115154  
Status : Answered  
Chosen Option : 2

Q.2 राष्ट्रीय आय की गणना में \_\_\_\_\_ वर्ष (वर्षों) की समयावधि को ध्यान में रखा जाता है।

- Ans  1. दो  
 2. एक  
 3. पांच  
 4. दस

Question ID : 264330115338  
Status : Answered  
Chosen Option : 3

Q.3 नवंबर 2022 तक की स्थिति के अनुसार, भव्य बिश्रोई, जो नवंबर 2022 में आदमपुर, हरियाणा से विधान सभा के सदस्य के रूप में चुने गए थे, \_\_\_\_\_ राजनीतिक दल से संबंधित हैं।

- Ans  1. भारतीय जनता पार्टी  
 2. भारतीय राष्ट्रीय कांग्रेस  
 3. भारतीय कम्युनिस्ट पार्टी  
 4. राष्ट्रवादी कांग्रेस पार्टी

Question ID : 264330114919  
Status : Answered  
Chosen Option : 1



Q.4 ओलंपियन नीरज चोपड़ा ने 2020 ओलंपिक खेलों में \_\_\_\_\_ की दूरी तक भाला फेंककर स्वर्ण पदक हासिल किया।

- Ans
- 1. 88.01 m
  - 2. 89.58 m
  - 3. 87.58 m
  - 4. 87.85 m

Question ID : 26433092322

Status : Not Answered

Chosen Option : --

Q.5 जम्मू और कश्मीर पुनर्गठन (संशोधन) विधेयक, 2021 को \_\_\_\_\_ को राज्यसभा में पेश किया गया था।

- Ans
- 1. 4 फरवरी, 2021
  - 2. 4 जनवरी, 2021
  - 3. 4 अप्रैल, 2021
  - 4. 14 मार्च, 2021

Question ID : 264330116227

Status : Not Answered

Chosen Option : --

Q.6 जून 2022 में, केंद्रीय प्रत्यक्ष कर बोर्ड (CBDT) के नये अध्यक्ष के रूप में किसे नियुक्त किया गया?

- Ans
- 1. नितिन गुप्ता
  - 2. प्रमोद मोदी
  - 3. संगीता सिंह
  - 4. जगन्नाथ विद्याधर महापात्रा

Question ID : 264330115041

Status : Not Answered

Chosen Option : --

Q.7 निम्नलिखित में से किसे 2012 में केरल राज्य कथकली पुरस्कार से सम्मानित किया गया था?

- Ans
- 1. शोभना नारायण
  - 2. कलामंडलम वसु पिशारोडी
  - 3. कलामंडलम कल्याणिकुट्टी अम्मा
  - 4. अनुराधा पाण्डेय

Question ID : 264330115881

Status : Answered

Chosen Option : 3

Q.8 अशोक ने अपने शिलालेख में उल्लेख किया है कि उसने राजा बनने के \_\_\_\_\_ बाद कलिंग पर विजय प्राप्त की थी।

- Ans
- 1. सात वर्ष
  - 2. दस वर्ष
  - 3. नौ वर्ष
  - 4. आठ वर्ष

Question ID : 26433085215

Status : Answered

Chosen Option : 3

Q.9 निम्नलिखित में से कौन-सी, भारत की अंतिम पंचवर्षीय योजना थी?

- Ans
- 1. 12वीं
  - 2. 11वीं
  - 3. 13वीं
  - 4. 10वीं

Question ID : 26433092381

Status : Answered

Chosen Option : 3

Q.10 \_\_\_\_\_ एक ऐसी फसल है जिसका उपयोग भोजन और चारे दोनों के रूप में किया जाता है। यह एक खरीफ फसल है जिसे 21°C से 27°C के बीच तापमान की आवश्यकता होती है और पुरानी जलोढ़ मिट्टी में अच्छी तरह से बढ़ती है।

- Ans
- 1. चावल
  - 2. जूट
  - 3. मक्का
  - 4. गेहूं

Question ID : 26433054624

Status : Answered

Chosen Option : 1

Q.11 निम्नलिखित में से कौन सा वह पर्यावरणीय घटक नहीं है, जो वातावरण पोषकों के मुक्त होने की दर तय करते हैं?

- Ans
- 1. जनसंख्या
  - 2. मिट्टी
  - 3. ताप
  - 4. आर्द्रता

Question ID : 264330115257

Status : Answered

Chosen Option : 1

Q.12 2021 की नीति (NITI) आयोग की रिपोर्ट के अनुसार, ग्रामीण भारत की जनसंख्या का कितना प्रतिशत गरीबी रेखा से नीचे जीवन यापन कर रही है?

- Ans
- 1. 7.65%
  - 2. 32.75%
  - 3. 12.4%
  - 4. 23.4%

Question ID : 26433092886  
Status : Answered  
Chosen Option : 4

Q.13 1919 में, गांधीजी ने \_\_\_\_\_ के विरोध में सत्याग्रह का आह्वान किया था।

- Ans
- 1. भारतीय परिषद अधिनियम
  - 2. पिट्स इंडिया एक्ट
  - 3. रॉलेट एक्ट
  - 4. रेगुलेटिंग एक्ट

Question ID : 26433090589  
Status : Answered  
Chosen Option : 3

Q.14 नेताजी सुभाष राष्ट्रीय खेल संस्थान निम्नलिखित में से किस शहर में स्थित है?

- Ans
- 1. पुणे
  - 2. कोच्चि
  - 3. पटियाला
  - 4. जयपुर

Question ID : 264330116298  
Status : Answered  
Chosen Option : 3

Q.15 मूल अधिकारों की अवधारणा किस देश के संविधान से ली गई है?

- Ans
- 1. संयुक्त राज्य अमेरिका
  - 2. आयरलैंड
  - 3. यूनाइटेड किंगडम
  - 4. रूस

Question ID : 264330115639  
Status : Not Answered  
Chosen Option : --

Q.16 रक्षाबंधन, भाई और बहन के बीच रिश्ते की भावात्मकता को व्यक्त करने वाला त्यौहार है, 2022 में यह \_\_\_\_\_ के महीने में मनाया गया।

- Ans
- 1. जनवरी
  - 2. अगस्त
  - 3. मई
  - 4. जून

Question ID : 264330115095  
Status : Answered  
Chosen Option : 2

Q.17 \_\_\_\_\_, खुदरा विक्रेताओं के लिए गोदाम में स्टॉक रखते हैं ताकि खुदरा विक्रेताओं को जब भी उनकी आवश्यकता हो, उन्हें सामान उपलब्ध कराया जा सके।

- Ans
- 1. थोक विक्रेता
  - 2. खरीदार
  - 3. ग्राहक
  - 4. विक्रेता

Question ID : 264330115585  
Status : Answered  
Chosen Option : 1

Q.18 राज्य के महाधिवक्ता की नियुक्ति \_\_\_\_\_ द्वारा की जाती है।

- Ans
- 1. भारत के मुख्य न्यायाधीश
  - 2. राज्यपाल
  - 3. राज्य चुनाव आयुक्त
  - 4. मुख्यमंत्री

Question ID : 26433089184  
Status : Answered  
Chosen Option : 1

Q.19 गंगा नदी निम्नलिखित में से किस जल निकाय में जा मिलती है?

- Ans
- 1. प्रशांत महासागर
  - 2. अरब सागर
  - 3. दक्षिण चीन सागर
  - 4. बंगाल की खाड़ी

Question ID : 264330116009  
Status : Answered  
Chosen Option : 1

Q.20 निम्नलिखित में से कौन-सी लोक नृत्य शैली हरियाणा राज्य से संबंधित नहीं है?

- Ans  1. रउफ  
 2. फाग  
 3. गुग्गा  
 4. खोरिया

Question ID : 26433086717

Status : Answered

Chosen Option : 1

Section : Part-C-Elementary Mathematics

Q.1 एक व्यक्ति ने 8 km की दूरी 4 km/h की चाल से, 12 km की दूरी 3 km/h की चाल से और 18 km की दूरी 2 km/h की चाल से तय की। कुल यात्रा में उसकी औसत चाल क्या है? (दशमलव के दो स्थानों तक लगभग)

- Ans  1. 2.53 km/h  
 2. 3.53 km/h  
 3. 2.83 km/h  
 4. 2.03 km/h

Question ID : 26433090284

Status : Not Answered

Chosen Option : --

Q.2 एक कक्षा के सभी साठ छात्र गणित की परीक्षा में शामिल हुए। 25 छात्रों ने 96 औसत अंक प्राप्त किए। शेष छात्रों को 84 औसत अंक मिले। पूरी कक्षा के औसत अंक \_\_\_\_\_ है।

- Ans  1. 89  
 2. 90  
 3. 91  
 4. 92

Question ID : 26433079909

Status : Answered

Chosen Option : 1

Q.3 124 m और 116 m लंबी दो ट्रेनें क्रमशः 28 km/h और 44 km/h की चाल से एक-दूसरे की ओर चल रही हैं। मिलने के बाद उन्हें एक-दूसरे को पार करने में कितना समय लगेगा?

- Ans  1. 16 सेकंड  
 2. 12 सेकंड  
 3. 10 सेकंड  
 4. 14 सेकंड

Question ID : 26433075199

Status : Not Answered

Chosen Option : --

Q.4 रवि के पास एक केक है, जो 6 cm त्रिज्या के गोले के आकार का है। फिर उसने इसे चॉकलेट में डुबोकर फ्रीजर में रख दिया। कुछ समय बाद उसने देखा कि चॉकलेट ने केक के ऊपर 2 cm मोटी परत बनाई। केक को चॉकलेट में डुबाने के बाद उसके पृष्ठीय क्षेत्रफल में कितने प्रतिशत परिवर्तन होता है?

- Ans  1. 77.78%  
 2. 64.23%  
 3. 47.45%  
 4. 34.89%

Question ID : 26433075328

Status : Answered

Chosen Option : 2

Q.5 लता ने Rs.2,160 में दो पंखे खरीदे। एक पंखे को 15% के लाभ पर और दूसरे को 9% की हानि पर बेचने पर, उसे पूरे लेन-देन में न तो लाभ होता है और न ही हानि। प्रत्येक पंखे का क्रय मूल्य ज्ञात करें।

- Ans  1. Rs.640, Rs.1,520  
 2. Rs.1,000, Rs.1,160  
 3. Rs.960, Rs.1,200  
 4. Rs.810, Rs.1,350

Question ID : 26433073123

Status : Answered

Chosen Option : 4

Q.6 कुछ वस्तुएं Rs.4,500 में खरीदी जाती हैं। यदि एक तिहाई वस्तुएं 15% की हानि पर बेची गई हैं, तो शेष वस्तुओं को कितने प्रतिशत लाभ पर बेचा जाना चाहिए, ताकि पूरे लेनदेन पर 20% का लाभ प्राप्त हो?

- Ans  1. 35%  
 2. 17.5%  
 3. 37.5%  
 4. 27.5%

Question ID : 26433074987

Status : Not Answered

Chosen Option : --

Q.7 एक व्यापारी किसी उत्पाद के अंकित मूल्य पर 20% छूट देता है। व्यापारी इस घटे मूल्य पर एक और 36.5% की छूट देता है। दोनों कटौतियाँ, एकल कटौती \_\_\_\_\_ के बराबर है।

- Ans  1. 49.2%  
 2. 43.5%  
 3. 53.4%  
 4. 58.6%

Question ID : 26433066310

Status : Answered

Chosen Option : 1

Q.8 निम्नलिखित व्यंजक का मान ज्ञात करें।  
 $95 - [144 \div 12 \text{ of } 12 - (-4) - \{3 - 17 - 10\}]$

- Ans
- 1. 78
  - 2. 48
  - 3. 66
  - 4. 92

Question ID : 26433076320

Status : Answered

Chosen Option : 3

Q.9 एक मोबाइल फोन Rs.15,500 में खरीदा गया था। इसके मूल्य में 20% प्रति वर्ष की दर से मूल्यहास होता है। दो वर्ष बाद इसका मूल्य ज्ञात कीजिए।

- Ans
- 1. Rs.9920
  - 2. Rs.6200
  - 3. Rs.10200
  - 4. Rs.12400

Question ID : 26433075736

Status : Answered

Chosen Option : 2

Q.10 10 प्रतिशत वार्षिक चक्रवृद्धि ब्याज दर से ₹1 लाख का मूलधन 3 वर्ष में बढ़कर कितना (₹ में) हो जाएगा? (ब्याज वार्षिक रूप से चक्रवृद्धि किया जाता है)

- Ans
- 1. ₹1,31,000
  - 2. ₹1,33,100
  - 3. ₹1,21,000
  - 4. ₹1,50,000

Question ID : 26433076012

Status : Answered

Chosen Option : 2

Q.11 एक 185 m लंबाई की और दूसरी 175 m लंबाई की, दो रेलगाड़ियाँ समानांतर पटरियों पर विपरीत दिशाओं में दौड़ रही हैं, पहली और दूसरी की चाल क्रमशः 80 km/h और 64 km/h हैं। एक-दूसरे को पार करने में वे कितना समय लेंगी?

- Ans
- 1. 7 सेकंड
  - 2. 9 सेकंड
  - 3. 9.5 सेकंड
  - 4. 8 सेकंड

Question ID : 26433075519

Status : Not Answered

Chosen Option : --

Q.12 A और B मिलकर कोई काम 24 दिन में कर सकते हैं। A, B से दोगुना कार्यकुशल है। B अकेले उस काम को कितने दिन में पूरा कर सकता है?

- Ans
- 1. 78
  - 2. 84
  - 3. 72
  - 4. 86

Question ID : 26433079893

Status : Answered

Chosen Option : 2

Q.13 M और N मिलकर एक कार्य को 18 दिनों में, N और P 26 दिनों में, और M और P 14 दिनों में पूरा कर सकते हैं। दिनों की अनुमानित संख्या ज्ञात करें, जहाँ सभी एक साथ काम करके कार्य को पूरा करते हैं।

- Ans
- 1. 12 दिन
  - 2. 13 दिन
  - 3. 11 दिन
  - 4. 15 दिन

Question ID : 264330116911

Status : Answered

Chosen Option : 2

Q.14 17 से विभाज्य 3 अंकीय सबसे छोटी संख्या और 34 से विभाज्य 2 अंकीय सबसे बड़ी संख्या का लघुत्तम समापवर्त्य ज्ञात करें।

- Ans
- 1. 102
  - 2. 204
  - 3. 408
  - 4. 816

Question ID : 264330116636

Status : Answered

Chosen Option : 3

Q.15 यदि H अपनी आय में से  $\frac{1}{3}$  की बचत करता है और ₹15,600 प्रति माह खर्च करता है, तो उसकी प्रति माह बचत की गणना ₹ में करें।

- Ans
- 1. ₹7,800
  - 2. ₹10,400
  - 3. ₹11,700
  - 4. ₹5,200

Question ID : 26433081706

Status : Answered

Chosen Option : 2



Q.16 जय के पेटीएम वॉलेट में ₹500 हैं। उसने पहले अपने बैलेंस में 20% और फिर 25% की वृद्धि की। प्रारंभिक बैलेंस की तुलना में बैलेंस में प्रतिशत वृद्धि ज्ञात कीजिए।

- Ans
- 1. 52.5%
  - 2. 50%
  - 3. 55%
  - 4. 47.5%

Question ID : 26433076409  
Status : Answered  
Chosen Option : 2

Q.17 यदि पहली संख्या का 20% दूसरी संख्या के  $\frac{1}{3}$  के बराबर है, तो दूसरी संख्या का पहली संख्या से अनुपात होगा:

- Ans
- 1. 5 : 3
  - 2. 2 : 3
  - 3. 3 : 2
  - 4. 3 : 5

Question ID : 26433082423  
Status : Not Answered  
Chosen Option : --

Q.18 एक शंकु की त्रिज्या और तिर्यक ऊंचाई का अनुपात क्रमशः 5 : 7 है। यदि इसका वक्र पृष्ठीय क्षेत्रफल 1,760  $\text{cm}^2$  है, तो इसकी त्रिज्या ज्ञात करें।  $\pi = \frac{22}{7}$  लें

- Ans
- 1. 24 cm
  - 2. 20 cm
  - 3. 28 cm
  - 4. 21 cm

Question ID : 26433076254  
Status : Not Answered  
Chosen Option : --

Q.19 5, 10 और 17 का चतुर्थानुपाती क्या है?

- Ans
- 1. 51
  - 2. 15
  - 3. 34
  - 4. 43

Question ID : 26433080328  
Status : Answered  
Chosen Option : 3

Q.20 एकल छूट, जो 20%, 22% और 25% की तीन क्रमिक छूटों के बराबर है, \_\_\_\_\_ है।

Ans

1.  $\frac{234}{5}\%$

2.  $\frac{267}{5}\%$

3.  $\frac{233}{5}\%$

4.  $\frac{266}{5}\%$

Question ID : 26433090288

Status : Answered

Chosen Option : 1

Section : Part-D-English

Q.1 Select the most appropriate option to fill in the blank.  
He decided not to go for the picnic as he was feeling a little \_\_\_\_\_.

Ans  1. as right as rain

2. under the weather

3. head in the clouds

4. calm before the storm

Question ID : 26433084652

Status : Not Answered

Chosen Option : --

Q.2 Select the most appropriate option that can substitute the underlined segment in the given sentence. If there is no need to substitute it, select 'No substitution'.

I am born in the United States, yet I consider myself Indian.

Ans  1. I was born in the United States,

2. No substitution

3. I was born at the United States,

4. I was born in United States,

Question ID : 264330101020

Status : Not Answered

Chosen Option : --

Q.3 Select the most appropriate ANTONYM of the given word.

Sluggish

- Ans
- 1. Flatter
  - 2. Humiliate
  - 3. Active
  - 4. Lethargic

Question ID : 26433090791  
Status : Not Answered  
Chosen Option : --

Q.4 Select the most appropriate option to fill in the blank.

He received a \_\_\_\_\_ during the ceremony.

- Ans
- 1. metal
  - 2. medal
  - 3. meddle
  - 4. mettle

Question ID : 26433084714  
Status : Not Answered  
Chosen Option : --

Q.5 Select the most appropriate antonym of the given word.

Betray

- Ans
- 1. Disloyal
  - 2. Sympathy
  - 3. Adverse
  - 4. Protect

Question ID : 26433072356  
Status : Not Answered  
Chosen Option : --

Q.6 Select the most appropriate meaning of the given idiom.  
Spick and span

- Ans
- 1. To leave a place quickly
  - 2. To be in trouble
  - 3. To be neat and clean
  - 4. To be untidy

Question ID : 26433086378  
Status : Not Answered  
Chosen Option : --

Q.7 Select the most appropriate meaning of the given idiom.

Blaze the trail

- Ans
- 1. To be defeated
  - 2. To receive fame
  - 3. To cause a damage
  - 4. Be first to do something important

Question ID : 26433074058

Status : Not Answered

Chosen Option : --

Q.8 Select the most appropriate synonym of the capitalised word in the given sentence.

I had the PRIVILEGE of meeting the magistrate.

- Ans
- 1. Recommendation
  - 2. Guidance
  - 3. Honour
  - 4. Atrocity

Question ID : 26433088207

Status : Not Answered

Chosen Option : --

Q.9 Identify the correctly spelt sentence.

- Ans
- 1. Celastial objects are not visible to the naked eye.
  - 2. Kelestial objects are not visible to the naked eye.
  - 3. Celesteal objects are not visible to the naked eye.
  - 4. Celestial objects are not visible to the naked eye.

Question ID : 26433072839

Status : Not Answered

Chosen Option : --

Q.10 The following sentence has been split into four segments. Identify the segment that contains an error.

Nyra have/ been taking / dance classes / this year.

- Ans
- 1. dance classes
  - 2. been taking
  - 3. Nyra have
  - 4. this year

Question ID : 26433088297

Status : Not Answered

Chosen Option : --

Q.11 Select the most appropriate synonym of the given word.

Cherish

- Ans
- 1. Condemn
  - 2. Abandon
  - 3. Neglect
  - 4. Admire

Question ID : 26433073685  
Status : Not Answered  
Chosen Option : --

Q.12 Select the most appropriate synonym of the underlined word in the given sentence.

I was startled by his entry into the hall.

- Ans
- 1. glad
  - 2. cherished
  - 3. frightened
  - 4. miserable

Question ID : 26433092104  
Status : Not Answered  
Chosen Option : --

Q.13 Select the most appropriate option that can substitute the underlined segment in the given sentence.

The objective of Robotics are to interrogate smart machines that can help people in a variety of ways.

- Ans
- 1. is to develop
  - 2. is to bully
  - 3. are to facilitate
  - 4. are to levitate

Question ID : 26433089798  
Status : Not Answered  
Chosen Option : --

Q.14 The sentence given below has one misspelt word. Spot the INCORRECTLY spelt word and select its correct spelling.

A trimphant smile appeared on his face.

- Ans
- 1. Trimpant
  - 2. Triumphant
  - 3. Triumpant
  - 4. Tremphant

Question ID : 26433073560  
Status : Not Answered  
Chosen Option : --

Q.15 Select the correct word for the blanks in the given sentence.

He \_\_\_\_\_ to success after winning a lottery and \_\_\_\_\_ is everyone's favourite flower.

- Ans
- 1. got
  - 2. rise
  - 3. zenith
  - 4. rose

Question ID : 26433060541

Status : Not Answered

Chosen Option : --

**Comprehension:**

In the following passage, some words have been deleted. Read the passage carefully and select the most appropriate option to fill in each blank.

It is often said that (1) \_\_\_\_\_ you want a pet to look up to you, get a dog. If you want a pet that looks straight (2) \_\_\_\_\_ you, get a horse. For an animal that looks down (3) \_\_\_\_\_ you, the cat must surely (4) \_\_\_\_\_ this description.

Cats are their own bosses. They have little or no regard for anyone or anything. If you have (5) \_\_\_\_\_ looked closely at the cat, you will observe that it looks at you from the corner of its eyes, almost condescendingly.

SubQuestion No : 16

Q.16 Select the most appropriate option to fill in blank number 1.

- Ans
- 1. whenever
  - 2. whether
  - 3. ever
  - 4. if

Question ID : 26433072453

Status : Not Answered

Chosen Option : --

**Comprehension:**

In the following passage, some words have been deleted. Read the passage carefully and select the most appropriate option to fill in each blank.

It is often said that (1) \_\_\_\_\_ you want a pet to look up to you, get a dog. If you want a pet that looks straight (2) \_\_\_\_\_ you, get a horse. For an animal that looks down (3) \_\_\_\_\_ you, the cat must surely (4) \_\_\_\_\_ this description.

Cats are their own bosses. They have little or no regard for anyone or anything. If you have (5) \_\_\_\_\_ looked closely at the cat, you will observe that it looks at you from the corner of its eyes, almost condescendingly.

SubQuestion No : 17

Q.17 Select the most appropriate option to fill in blank number 2.

- Ans
- 1. by
  - 2. to
  - 3. at
  - 4. over

Question ID : 26433072454

Status : Not Answered

Chosen Option : --

**Comprehension:**

In the following passage, some words have been deleted. Read the passage carefully and select the most appropriate option to fill in each blank.

It is often said that (1) \_\_\_\_\_ you want a pet to look up to you, get a dog. If you want a pet that looks straight (2) \_\_\_\_\_ you, get a horse. For an animal that looks down (3) \_\_\_\_\_ you, the cat must surely (4) \_\_\_\_\_ this description.

Cats are their own bosses. They have little or no regard for anyone or anything. If you have (5) \_\_\_\_\_ looked closely at the cat, you will observe that it looks at you from the corner of its eyes, almost condescendingly.

**SubQuestion No : 18****Q.18 Select the most appropriate option to fill in blank number 3.****Ans**  1. on 2. with 3. at 4. in

Question ID : 26433072455

Status : Not Answered

Chosen Option : --

**Comprehension:**

In the following passage, some words have been deleted. Read the passage carefully and select the most appropriate option to fill in each blank.

It is often said that (1) \_\_\_\_\_ you want a pet to look up to you, get a dog. If you want a pet that looks straight (2) \_\_\_\_\_ you, get a horse. For an animal that looks down (3) \_\_\_\_\_ you, the cat must surely (4) \_\_\_\_\_ this description.

Cats are their own bosses. They have little or no regard for anyone or anything. If you have (5) \_\_\_\_\_ looked closely at the cat, you will observe that it looks at you from the corner of its eyes, almost condescendingly.

**SubQuestion No : 19****Q.19 Select the most appropriate option to fill in blank number 4.****Ans**  1. fit 2. find 3. mist 4. feat

Question ID : 26433072456

Status : Not Answered

Chosen Option : --

### Comprehension:

In the following passage, some words have been deleted. Read the passage carefully and select the most appropriate option to fill in each blank.

It is often said that (1) \_\_\_\_\_ you want a pet to look up to you, get a dog. If you want a pet that looks straight (2) \_\_\_\_\_ you, get a horse. For an animal that looks down (3) \_\_\_\_\_ you, the cat must surely (4) \_\_\_\_\_ this description.

Cats are their own bosses. They have little or no regard for anyone or anything. If you have (5) \_\_\_\_\_ looked closely at the cat, you will observe that it looks at you from the corner of its eyes, almost condescendingly.

#### SubQuestion No : 20

Q.20 Select the most appropriate option to fill in blank number 5.

- Ans  1. ever  
 2. never  
 3. sometime  
 4. whenever

Question ID : 26433072457

Status : Not Answered

Chosen Option : --

#### Section : Part-D-Hindi

Q.1 'वायु' के एकार्थी शब्द से निम्न वाक्य की पूर्ति कीजिए।  
सारे विशाल पेड़ \_\_\_\_\_ से गिर पड़े।

- Ans  1. प्रभंजन  
 2. धूप  
 3. भूकंप  
 4. वर्षा

Question ID : 26433063081

Status : Answered

Chosen Option : 1

Q.2 'जिसे पान करने से अमर हो जाए'  
ऊपर दिए गए वाक्यांश के लिए एक शब्द क्या होगा?

- Ans  1. अमृत  
 2. अनिल  
 3. सलिल  
 4. अखाद्य

Question ID : 26433070054

Status : Answered

Chosen Option : 1



Q.3 निम्नलिखित में से शुद्ध वाक्य है-

- Ans
- 1. अब तुम मैं को बेवकूफ नहीं बना सकते।
  - 2. अब तुम मुझे बेवकूफ नहीं बना सकते।
  - 3. अब तुम मुझे बेवकूफ नहीं बना सकते।
  - 4. अब तुम मुझको बेवकूफ ना बना सकते।

Question ID : 26433066845

Status : Answered

Chosen Option : 2

Q.4 झूठ बोलना पाप है।

उपरोक्त वाक्य में रेखांकित पद बदलकर लिखिए।

- Ans
- 1. दूसरों को हानि पहुँचाना
  - 2. मनुष्य को न मारना
  - 3. सच बोलना
  - 4. फूल बिछाना

Question ID : 26433062694

Status : Answered

Chosen Option : 1

Q.5 निम्न वाक्य में रेखांकित अंश के स्थान पर सबसे उपयुक्त विकल्प कौन-सा होगा?  
बात-बात में इस तरह झगड़ना-लड़ना ठीक नहीं है।

- Ans
- 1. लड़ना-मरना
  - 2. मरना-लड़ना
  - 3. झगड़ना-मारना
  - 4. लड़ना-झगड़ना

Question ID : 26433066873

Status : Answered

Chosen Option : 4

Q.6 नीचे दिए गये वाक्यांश के लिए सार्थक शब्द बताइए-  
'रात और संध्या के बीच का समय'

- Ans
- 1. बेला
  - 2. अस्ताचल
  - 3. गोधूलि
  - 4. सायंकाल

Question ID : 26433062594

Status : Answered

Chosen Option : 2

Q.7 निम्नलिखित विकल्पों में से 'उल्लू सीधा करना' मुहावरे का अर्थ क्या है?

- Ans
- 1. स्वार्थ सिद्ध करना
  - 2. सबकी मदद करना
  - 3. सबको साथ लेकर चलना
  - 4. निरर्थक साबित होना

Question ID : 26433062549

Status : Answered

Chosen Option : 1

Q.8 निम्न मुहावरे को पूर्ण कीजिए।  
हाथ की \_\_\_\_\_ बनना

- Ans
- 1. कठ-जामुन
  - 2. कठ-मांडू
  - 3. कठ-पुतली
  - 4. कठ-गुलाब

Question ID : 26433062817

Status : Answered

Chosen Option : 3

Q.9 निम्नलिखित में से शुद्ध वाक्य कौन-सा है?

- Ans
- 1. भगत सिंह का राष्ट्र आभारी है।
  - 2. आकाश जानता है कि शायद उसका मित्र सो रहा है।
  - 3. उसका सौन्दर्य कभी कम न होगा।
  - 4. गाय का ताकतवर दूध होता है।

Question ID : 26433066992

Status : Answered

Chosen Option : 1

Q.10 निम्न में से किस वाक्य में 'खल' के सही पर्यायवाची शब्द का प्रयोग हुआ है?

- Ans
- 1. नयन अत्यंत दुष्ट है।
  - 2. किसान बहुत परिश्रम करते हैं।
  - 3. समुद्र का तट अत्यंत विस्तृत है।
  - 4. उस पर खूनी हमला हुआ।

Question ID : 26433067018

Status : Answered

Chosen Option : 3

Q.11 ' \_\_\_\_\_ उत्पादक और उपभोक्ता को सम्पर्क में लाता है।' उपरोक्त वाक्य में रिक्त स्थान की पूर्ति निम्न में से उपयुक्त शब्द द्वारा कीजिए।

- Ans
- 1. निर्देशक
  - 2. डाकिया
  - 3. मुखिया
  - 4. विज्ञापन

Question ID : 26433080899

Status : Answered

Chosen Option : 4

Q.12 विकल्पों में दिए गए समानार्थी शब्दों में से निम्न वाक्य के लिए सर्वोचित शब्द का प्रयोग करके रिक्त स्थान की पूर्ति कीजिए।  
पांडु पुत्र अर्जुन \_\_\_\_\_ निशानेबाज़ वीर था।

- Ans
- 1. अनुपम
  - 2. अद्वितीय
  - 3. अनोखा
  - 4. अनूठा

Question ID : 26433062932

Status : Answered

Chosen Option : 2

Q.13 दिए गए विकल्पों में से कौन सा शब्द, निम्नलिखित वाक्य में रेखांकित शब्द का पर्यायवाची नहीं है।  
मदमस्त हाथी अपनी ही धुन में चलते हैं।

- Ans
- 1. कुंजर
  - 2. हाथ
  - 3. गज
  - 4. हस्ति

Question ID : 26433091336

Status : Answered

Chosen Option : 2

Q.14 कर्म के आधार पर क्रिया के दो भेद हैं-

- Ans
- 1. अकर्मक, सकर्मक
  - 2. सजातीय, विजातीय
  - 3. एककर्मक, द्विकर्मक
  - 4. गुणवाचक, सर्वनामिक

Question ID : 26433085041

Status : Answered

Chosen Option : 1

Q.15 निम्नलिखित में से कौन-सा वाक्य संज्ञा के प्रयोग की दृष्टि से शुद्ध है?

- Ans
- 1. वृद्धता मानव जीवन के विकास का अंतिम चरण है।
  - 2. वार्धक्य मानव जीवन के विकास का अंतिम चरण है।
  - 3. वृद्धमान मानव जीवन के विकास का अंतिम चरण है।
  - 4. वृद्ध मानव जीवन के विकास का अंतिम चरण है।

Question ID : 26433066956

Status : Answered

Chosen Option : 1

**Comprehension:**

निम्नलिखित गद्यांश में कुछ शब्दों को हटा दिया गया है। दिए गए विकल्पों की सहायता से रिक्त स्थानों की पूर्ति कीजिए। प्रत्येक संख्या के लिए सबसे उपयुक्त विकल्प का चयन कीजिए।  
मानव जीवन सुख और दुःख का मिला-जुला 1. \_\_\_\_\_ होता है। मनुष्य जीवन भर संघर्ष करता है। बचपन से लेकर वृद्धावस्था तक यदि वह 2. \_\_\_\_\_ रहेगा तो उसका जीवन नीरस हो जाएगा। जीवन को सरस बनाने के लिए 3. \_\_\_\_\_ के विभिन्न साधनों की आवश्यकता होती है। वैसे भी मनोरंजन मनुष्य की 4. \_\_\_\_\_ प्रवृत्ति है। सच पूछा जाए तो मनोरंजन के बिना जीवन 5. \_\_\_\_\_ है।

**SubQuestion No : 16**

Q.16 रिक्त स्थान 1 की पूर्ति के लिए सबसे उपयुक्त विकल्प का चयन कीजिए।

- Ans
- 1. स्थान
  - 2. रूप
  - 3. कार्य
  - 4. साधन

Question ID : 264330111011

Status : Answered

Chosen Option : 2

**Comprehension:**

निम्नलिखित गद्यांश में कुछ शब्दों को हटा दिया गया है। दिए गए विकल्पों की सहायता से रिक्त स्थानों की पूर्ति कीजिए। प्रत्येक संख्या के लिए सबसे उपयुक्त विकल्प का चयन कीजिए।  
मानव जीवन सुख और दुःख का मिला-जुला 1. \_\_\_\_\_ होता है। मनुष्य जीवन भर संघर्ष करता है। बचपन से लेकर वृद्धावस्था तक यदि वह 2. \_\_\_\_\_ रहेगा तो उसका जीवन नीरस हो जाएगा। जीवन को सरस बनाने के लिए 3. \_\_\_\_\_ के विभिन्न साधनों की आवश्यकता होती है। वैसे भी मनोरंजन मनुष्य की 4. \_\_\_\_\_ प्रवृत्ति है। सच पूछा जाए तो मनोरंजन के बिना जीवन 5. \_\_\_\_\_ है।

**SubQuestion No : 17**

Q.17 रिक्त स्थान 2 की पूर्ति के लिए सबसे उपयुक्त विकल्प का चयन कीजिए।

- Ans
- 1. संघर्षशील
  - 2. प्रचलित
  - 3. प्रभावित
  - 4. मिलनसार

Question ID : 264330111012

Status : Answered

Chosen Option : 1

**Comprehension:**

निम्नलिखित गद्यांश में कुछ शब्दों को हटा दिया गया है। दिए गए विकल्पों की सहायता से रिक्त स्थानों की पूर्ति कीजिए। प्रत्येक संख्या के लिए सबसे उपयुक्त विकल्प का चयन कीजिए।  
मानव जीवन सुख और दुःख का मिला-जुला 1. \_\_\_\_\_ होता है। मनुष्य जीवन भर संघर्ष करता है। बचपन से लेकर वृद्धावस्था तक यदि वह 2. \_\_\_\_\_ रहेगा तो उसका जीवन नीरस हो जाएगा। जीवन को सरस बनाने के लिए 3. \_\_\_\_\_ के विभिन्न साधनों की आवश्यकता होती है। वैसे भी मनोरंजन मनुष्य की 4. \_\_\_\_\_ प्रवृत्ति है। सच पूछा जाए तो मनोरंजन के बिना जीवन 5. \_\_\_\_\_ है।

**SubQuestion No : 18**

Q.18 रिक्त स्थान 3 की पूर्ति के लिए सबसे उपयुक्त विकल्प का चयन कीजिए।

- Ans
- 1. परिवार
  - 2. मनोरंजन
  - 3. कार्य
  - 4. आकर्षण

Question ID : 264330111013

Status : Answered

Chosen Option : 2

**Comprehension:**

निम्नलिखित गद्यांश में कुछ शब्दों को हटा दिया गया है। दिए गए विकल्पों की सहायता से रिक्त स्थानों की पूर्ति कीजिए। प्रत्येक संख्या के लिए सबसे उपयुक्त विकल्प का चयन कीजिए।  
मानव जीवन सुख और दुःख का मिला-जुला 1. \_\_\_\_\_ होता है। मनुष्य जीवन भर संघर्ष करता है। बचपन से लेकर वृद्धावस्था तक यदि वह 2. \_\_\_\_\_ रहेगा तो उसका जीवन नीरस हो जाएगा। जीवन को सरस बनाने के लिए 3. \_\_\_\_\_ के विभिन्न साधनों की आवश्यकता होती है। वैसे भी मनोरंजन मनुष्य की 4. \_\_\_\_\_ प्रवृत्ति है। सच पूछा जाए तो मनोरंजन के बिना जीवन 5. \_\_\_\_\_ है।

**SubQuestion No : 19**

Q.19 रिक्त स्थान 4 की पूर्ति के लिए सबसे उपयुक्त विकल्प का चयन कीजिए।

- Ans
- 1. बड़ी
  - 2. स्वाभाविक
  - 3. मध्यम
  - 4. अप्रत्यक्ष

Question ID : 264330111014

Status : Answered

Chosen Option : 2

**Comprehension:**

निम्नलिखित गद्यांश में कुछ शब्दों को हटा दिया गया है। दिए गए विकल्पों की सहायता से रिक्त स्थानों की पूर्ति कीजिए। प्रत्येक संख्या के लिए सबसे उपयुक्त विकल्प का चयन कीजिए।  
मानव जीवन सुख और दुःख का मिला-जुला 1. \_\_\_\_\_ होता है। मनुष्य जीवन भर संघर्ष करता है। बचपन से लेकर वृद्धावस्था तक यदि वह 2. \_\_\_\_\_ रहेगा तो उसका जीवन नीरस हो जाएगा। जीवन को सरस बनाने के लिए 3. \_\_\_\_\_ के विभिन्न साधनों की आवश्यकता होती है। वैसे भी मनोरंजन मनुष्य की 4. \_\_\_\_\_ प्रवृत्ति है। सच पूछा जाए तो मनोरंजन के बिना जीवन 5. \_\_\_\_\_ है।

**SubQuestion No : 20**

Q.20 रिक्त स्थान 5 की पूर्ति के लिए सबसे उपयुक्त विकल्प का चयन कीजिए।

- Ans
- 1. वर्चस्व
  - 2. पूरा
  - 3. उचित
  - 4. अधूरा

Question ID : 264330111015

Status : Answered

Chosen Option : 4

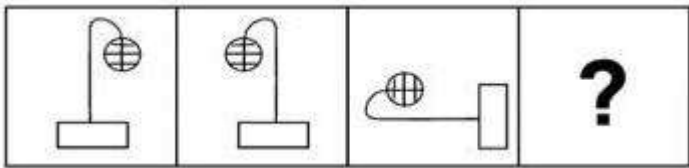
www.exammix.com

# Constable GD in CAPFs SSF Rifleman GD in Assam Rifles and Sepoy in NCB Examination 2022

Roll Number	
Candidate Name	
Venue Name	
Exam Date	02/02/2023
Exam Time	2:30 PM - 3:30 PM
Subject	Constable GD Examination 2022

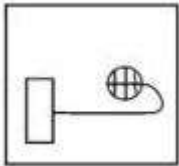
## Section : Part-A-General Intelligence and Reasoning

Q.1 वह विकल्प ज्ञात कीजिए जो तीसरी आकृति से उसी प्रकार संबंधित है जैसे दूसरी आकृति पहली आकृति से संबंधित है।  
(पहला आकृति सबसे बाईं ओर की आकृति है।)

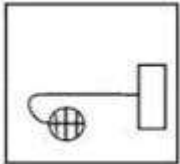


Ans

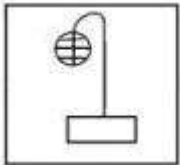
✓ 1.



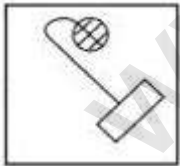
✗ 2.



✗ 3.



✗ 4.



Q.2 उस विकल्प का चयन करें, जो पाँचवीं संख्या से उसी प्रकार संबंधित है, जिस प्रकार दूसरी संख्या, पहली संख्या से संबंधित है और चौथी संख्या, तीसरी संख्या से संबंधित है।  
31 : 14 :: 23 : 10 :: 39 : ?

- Ans
- 1. 20
  - 2. 19
  - 3. 18
  - 4. 22

Question ID : 26433069428

Status : Answered

Chosen Option : 3

Q.3 छः विद्यार्थी एक वृत्ताकार मेज के परितः मेज के केंद्र की ओर मुख करके बैठे हैं। केन, जो के दाईं ओर ठीक बगल में बैठा है। जो, बेन के बाईं ओर तीसरे स्थान पर बैठा है। कैट, बेन के दाईं ओर ठीक बगल में बैठी है। जेन, बेन और केन के ठीक बगल में बैठा है। इनमें से कौन, केन और मेल के ठीक बगल में बैठा/ बैठी है?

- Ans
- 1. बेन
  - 2. जो
  - 3. कैट
  - 4. जेन

Question ID : 26433081770

Status : Answered

Chosen Option : 2

Q.4 निम्न में से कौन सी संख्या दी गई श्रृंखला में प्रश्नचिह्न (?) के स्थान पर आएगी?  
89, 214, ?, 773, 1285, 2014

- Ans
- 1. 342
  - 2. 430
  - 3. 422
  - 4. 446

Question ID : 26433076743

Status : Answered

Chosen Option : 2

Q.5 सात व्यक्ति I, J, K, L, M, N और O एक सीधी पंक्ति में उत्तर की ओर मुख करके बैठे हैं। M के बाईं ओर केवल पांच व्यक्ति बैठे हैं। J, O के बाईं ओर तीसरे स्थान पर बैठा है। O, M के ठीक बगल में नहीं बैठा है। K, N के दाईं ओर ठीक बगल में बैठा है। I, J के दाईं ओर चौथे स्थान पर बैठा है। पंक्ति के दाएं सिरे पर कौन बैठा है?

- Ans
- 1. K
  - 2. L
  - 3. I
  - 4. O

Question ID : 26433076526

Status : Answered

Chosen Option : 2



Q.6 A @ B का अर्थ है 'A, B का पति है'।  
A & B का अर्थ है 'A, B की पुत्री है'।  
A # B का अर्थ है 'A, B का पिता है'।  
A % B का अर्थ है 'A, B का सहोदर है'।  
यदि H @ K % M # P & S है, तो S, K से किस प्रकार संबंधित है?

- Ans
- 1. बहन
  - 2. भाई
  - 3. पिता
  - 4. भाभी

Question ID : 26433069620

Status : Answered

Chosen Option : 4

www.exammix.com

Q.7 दर्पण को दाईं ओर रखे जाने पर, निम्नलिखित में से कौन-सी आकृति दी गई प्रश्न आकृति

का सटीक दर्पण प्रतिबिम्ब होगी?

प्रश्न आकृति:

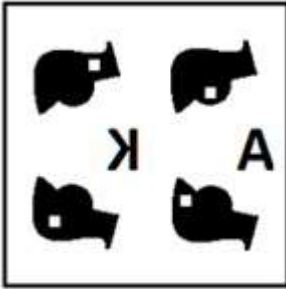


Ans

✓ 1.



✗ 2.



✗ 3.



✗ 4.



Question ID : 26433087090

Status : Answered

Chosen Option : 1

Q.8 Select the option that is related to the third word in the same way as the second word is related to the first word. (The words must be considered as meaningful English words and must not be related to each other based on the number of letters/number of consonants/vowels in the word.)

Doctor : Hospital :: Engineer : ?

- Ans
- 1. Construct
  - 2. School
  - 3. Court
  - 4. Site

Question ID : 26433067855

Status : Marked For Review

Chosen Option : 4

Q.9 उस विकल्प का चयन कीजिए जो तीसरे शब्द से उसी प्रकार संबंधित है, जिस प्रकार दूसरा शब्द पहले शब्द से संबंधित है। (शब्दों को अर्थपूर्ण शब्दों के रूप में माना जाना चाहिए और शब्द में अक्षरों/व्यंजनों/स्वरों की संख्या के आधार पर एक दूसरे से संबंधित नहीं किया जाना चाहिए)  
सिंह : गुफा :: राजा : \_\_\_\_\_

- Ans
- 1. खरगोश
  - 2. महल
  - 3. नौकर
  - 4. जाला

Question ID : 26433078831

Status : Answered

Chosen Option : 2

Q.10 किस विकल्प में निम्नलिखित शब्दों का वह क्रम दिया गया है, जिस क्रम में वे अंग्रेजी शब्दकोश में आते हैं।

1. micro
2. minute
3. miles
4. mimic
5. miniature

- Ans
- 1. 1,3,4,5,2
  - 2. 1,4,5,3,2
  - 3. 1,4,3,5,2
  - 4. 1,5,2,4,3

Question ID : 26433069293

Status : Answered

Chosen Option : 1

Q.11 निम्नलिखित में से कौन-सी संख्या दी गई श्रृंखला में प्रश्न-चिह्न (?) के स्थान पर पर आएगी?  
11, 35, 69, 209, 417, ?

Ans  1. 1253

2. 1152

3. 1125

4. 1521

Question ID : 26433069118

Status : Answered

Chosen Option : 1

Q.12 एक निश्चित कूट भाषा में, 'BREAD' को 'BED19' के रूप में लिखा जाता है, 'IRONY' को 'IOY32' के रूप में लिखा जाता है, उसी भाषा में 'SHARP' को कैसे लिखा जाएगा?

Ans  1. SAP62

2. SAP26

3. 26SAP

4. SHA26

Question ID : 26433069647

Status : Answered

Chosen Option : 2

Q.13 नीचे दिए गए समीकरण को गणितीय रूप से सही बनाने के लिए किन दो चिन्हों को परस्पर बदलना चाहिए?

$$60 \div 3 \times 20 - 15 + 12 = 6$$

Ans  1. ÷ और -

2. ÷ और ×

3. × और -

4. - और +

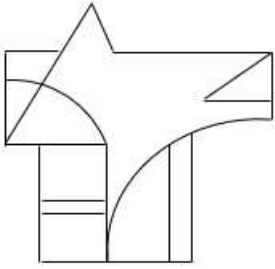
Question ID : 264330117511

Status : Answered

Chosen Option : 2

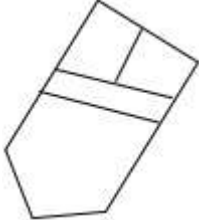
Q.14 वह विकल्प चित्र चुनिए, जो प्रस्तुत चित्र में अंतर्निहित है। (घुमाना अनुमन्य नहीं

है)

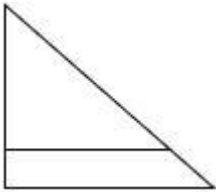


Ans

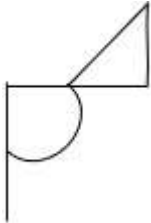
✗ 1.



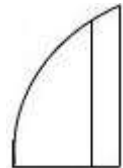
✗ 2.



✗ 3.



✓ 4.



Question ID : 26433069355

Status : Answered

Chosen Option : 4

Q.15 दिए गए विकल्पों में से उस अक्षर-समूह का चयन कीजिए जो निम्न श्रृंखला में प्रश्न-चिह्न (?) के स्थान पर आ सकता है।

RXUT, VVYX, ZTCB, ?, HPKJ

Ans ✓ 1. DRGF

✗ 2. FDNT

✗ 3. DGFR

✗ 4. FQCU

Question ID : 26433074739

Status : Answered

Chosen Option : 1

Q.16 दिए गए समीकरण को संतुलित करने के लिए विकल्पों में दी गई किन दो संख्याओं(अंको को नहीं) को परस्पर बदलना होगा?  
(48 ÷ 3 + 6) ÷ 11 = 81 - 27 ÷ 3 × 5

- Ans
- 1. 11 और 5
  - 2. 81 और 27
  - 3. 5 और 6
  - 4. 48 और 81

Question ID : 26433082483

Status : Answered

Chosen Option : 4

Q.17 Three statements are given, followed by three conclusions numbered I, II and III. Assuming the statements to be true, even if they seem to be at variance with commonly known facts, decide which of the conclusions logically follow(s) from the statements.

Statements:

All trees are walls.

No wall is a door.

Some doors are rooms.

Conclusions:

I. Some rooms are walls.

II. No trees are doors.

III. All walls are trees.

- Ans
- 1. Only conclusions II and III follow
  - 2. All conclusions follow
  - 3. Only conclusion II follows
  - 4. Only conclusions I and III follow

Question ID : 26433090989

Status : Marked For Review

Chosen Option : 3

Q.18 एक ही पासे की दो अलग-अलग स्थितियों को दिखाया गया है। '21' दर्शाने वाले फलक के विपरीत फलक पर संख्या ज्ञात कीजिए।



- Ans
- 1. 24
  - 2. 22
  - 3. 20
  - 4. 19

Question ID : 26433089507

Status : Answered

Chosen Option : 2

Q.19 कौन-सा अक्षर-समूह दी गई श्रृंखला में प्रश्नचिह्न (?) के स्थान पर आकर श्रृंखला को पूर्ण करेगा?  
ZYXW, STUV, RQPO, ?, JIHG, CDEF

- Ans
- 1. JIHG
  - 2. NMLK
  - 3. KLMN
  - 4. LKMN

Question ID : 26433067721

Status : Marked For Review

Chosen Option : 3

Q.20 एक निश्चित कूट भाषा में 'CHURCH' को 'FKXUFK' और 'MUMBAI' को 'PXPEDL' लिखा जाता है।  
उस भाषा में 'TEMPLE' कैसे लिखा जाएगा?

- Ans
- 1. WHSPOH
  - 2. WHPSOH
  - 3. WHPOSH
  - 4. WHPSHO

Question ID : 26433080468

Status : Answered

Chosen Option : 2

Section : Part-B-General Knowledge and General awareness

Q.1 In which of the following year did Australia Host the Commonwealth Games?

- Ans
- 1. 2018
  - 2. 2014
  - 3. 2002
  - 4. 1998

Question ID : 264330115919

Status : Answered

Chosen Option : 3

Q.2 भारत में न्यूनतम मजदूरी अधिनियम किस वर्ष में लागू किया गया था?

- Ans
- 1. 1948
  - 2. 1951
  - 3. 1950
  - 4. 1949

Question ID : 264330116084

Status : Not Answered

Chosen Option : --

Q.3 \_\_\_\_\_ में, भुगतान संतुलन में संकट के कारण भारत में आर्थिक सुधारों की शुरुआत हुई।

- Ans
- 1. 1997
  - 2. 2001
  - 3. 1981
  - 4. 1991

Question ID : 264330115298

Status : Answered

Chosen Option : 4

Q.4 निम्नलिखित में से किस नर्तक कथकली से संबंधित है?

- Ans
- 1. दर्शना झावेरी
  - 2. वेम्पति चिन्ना सत्यम
  - 3. शोभना नारायण
  - 4. कुंचु कुरुप

Question ID : 264330115886

Status : Marked For Review

Chosen Option : 3

Q.5 2022-2023 के लिए ऑडिट ब्यूरो ऑफ सर्कुलेशन (ABC) के अध्यक्ष के रूप में किसे निर्वाचित किया गया है?

- Ans
- 1. प्रताप पवार
  - 2. मधुकर कामथ
  - 3. आशीष अग्रवाल
  - 4. देवेन्द्र विजय दर्डा

Question ID : 264330115001

Status : Not Answered

Chosen Option : --

Q.6 भारतीय संविधान की उद्देशिका में 'पंथनिरपेक्ष' शब्द किस वर्ष में जोड़ा गया था?

- Ans
- 1. 1976 में
  - 2. 1972 में
  - 3. 1974 में
  - 4. 1970 में

Question ID : 26433090662

Status : Answered

Chosen Option : 1



Q.7 बुद्ध शाक्य गण नामक एक छोटे गण से संबंधित थे, और एक \_\_\_\_\_ थे।

- Ans
- 1. ब्रह्म
  - 2. वैश्य
  - 3. क्षत्रिय
  - 4. शूद्र

Question ID : 26433089854

Status : Marked For Review

Chosen Option : 3

Q.8 What was the Zamindari Association popularly known as?

- Ans
- 1. Peasant's Society
  - 2. Tenant's Society
  - 3. Landholder's Society
  - 4. Farmer's Society

Question ID : 264330115693

Status : Answered

Chosen Option : 3

Q.9 अंतर्राष्ट्रीय व्यापार समझौतों में पार्टियों के रूप में \_\_\_\_\_ होते हैं।

- Ans
- 1. दो या उससे अधिक देश
  - 2. दो या उससे अधिक राज्य
  - 3. दो भिन्न शहर
  - 4. दो या उससे अधिक प्रांत

Question ID : 264330115388

Status : Answered

Chosen Option : 1

Q.10 निम्नलिखित में से क्या हरित क्रांति का एक घटक नहीं है?

- Ans
- 1. अधिक उपज देने वाली किस्म के बीज
  - 2. न्यूनतम समर्थन मूल्य
  - 3. एकाधिक फसल पैटर्न
  - 4. उर्वरकों और रसायनों का उपयोग

Question ID : 26433054629

Status : Marked For Review

Chosen Option : 2

Q.11 A reaction in which reactants combine to form products and again products recombine to form reactants is called \_\_\_\_\_ reaction.

- Ans
- 1. redox
  - 2. displacement
  - 3. irreversible
  - 4. reversible

Question ID : 264330115159  
Status : Answered  
Chosen Option : 4

Q.12 Blossom shower is common in \_\_\_\_\_.

- Ans
- 1. Assam
  - 2. Uttar Pradesh
  - 3. Kerala
  - 4. West Bengal

Question ID : 26433089658  
Status : Answered  
Chosen Option : 1

Q.13 आपराधिक प्रक्रिया \_\_\_\_\_, पुलिस अधिकारियों या जेल अधिकारियों को दोषियों या किसी अपराध के लिए गिरफ्तार किए गए लोगों से कुछ पहचान योग्य जानकारी (जैसे उंगलियों की छाप, जैविक नमूने) एकत्र करने की अनुमति देता है।

- Ans
- 1. पहचान अधिनियम, 2022
  - 2. निशान अधिनियम, 2021
  - 3. दंड अधिनियम, 2022
  - 4. नमूना अधिनियम, 2022

Question ID : 264330116232  
Status : Marked For Review  
Chosen Option : 3

Q.14 निम्नलिखित में से कौन-सी नृत्य शैली एडक्का संगीत वाद्ययंत्र से संबंधित है?

- Ans
- 1. ओडिसी
  - 2. मणिपुरी
  - 3. कथक
  - 4. मोहिनीअट्टम

Question ID : 26433086710  
Status : Answered  
Chosen Option : 2

Q.15 What is the chemical name of baking soda?

- Ans
- 1. Calcium sulphate hemihydrate
  - 2. Sodium hydrogencarbonate
  - 3. Sodium carbonate
  - 4. Calcium sulphate

Question ID : 264330115198

Status : Answered

Chosen Option : 3

Q.16 \_\_\_\_\_ provides supporting services in the main areas of industrial and agricultural production, domestic and foreign trade and commerce.

- Ans
- 1. Infrastructure
  - 2. Communication
  - 3. Trade
  - 4. Education

Question ID : 264330115545

Status : Answered

Chosen Option : 1

Q.17 निम्नलिखित में से कौन सा पुरस्कार राष्ट्रीय खेल दिवस पर प्रदान नहीं किया जाता है?

- Ans
- 1. ध्यान चंद अवार्ड
  - 2. अर्जुन अवार्ड
  - 3. परमवीर चक्र
  - 4. द्रोणाचार्य अवार्ड

Question ID : 264330116303

Status : Answered

Chosen Option : 3

Q.18 निम्नलिखित में से कौन नवंबर 2022 में भारत में मोकामा, बिहार से विधान सभा के सदस्य बने?

- Ans
- 1. नीलम देवी
  - 2. तेजस्वी यादव
  - 3. आनंदीबेन पटेल
  - 4. मोहन कुमार गुप्ता

Question ID : 264330114924

Status : Answered

Chosen Option : 2

Q.19 दशहरा, जो रावण पर भगवान राम की विजय का प्रतीक है, हिंदू माह \_\_\_\_\_ में मनाया जाता है।

- Ans
- 1. फाल्गुन
  - 2. कार्तिक
  - 3. चैत्र
  - 4. अश्विन

Question ID : 264330115100

Status : Answered

Chosen Option : 4

Q.20 भारत के राष्ट्रपति के चुनाव में राज्यों का/के कौन-सा/से सदन भाग लेता/लेते हैं/हैं?

- Ans
- 1. विधान सभा और विधान परिषद दोनों
  - 2. न तो विधान सभा और न ही विधान परिषद
  - 3. विधान सभा
  - 4. विधान परिषद

Question ID : 26433074851

Status : Answered

Chosen Option : 1

Section : Part-C-Elementary Mathematics

Q.1 एक ऊनी जैकेट का अंकित मूल्य Rs.800 है। दुकानदार प्रत्येक वस्तु पर 10% की छूट देता है। ऑफ सीजन होने के कारण दुकानदार 5% की अतिरिक्त छूट देता है। जैकेट का विक्रय मूल्य ज्ञात कीजिए।

- Ans
- 1. Rs.720
  - 2. Rs.684
  - 3. Rs.705
  - 4. Rs.668

Question ID : 26433065276

Status : Answered

Chosen Option : 2

Q.2 यदि पेट्रोल की कीमत Rs. 95/लीटर से Rs. 110/लीटर हो जाती है, तो रवि द्वारा पेट्रोल की खपत में कितने प्रतिशत की कमी की जानी चाहिए ताकि उसका खर्च उतना ही बना रहे? (दशमलव के दो स्थानों तक सही उत्तर दीजिए)

- Ans
- 1. 14.63%
  - 2. 15.29%
  - 3. 13.64%
  - 4. 16.34%

Question ID : 26433080292

Status : Answered

Chosen Option : 3

Q.3 If 3,x,12 and  $2x + 7$  are in proportion, then  $6x$  is :

Ans

1.  $\frac{7}{2}$

2. 42

3. 21

4.  $\frac{21}{2}$

Question ID : 26433081716

Status : Marked For Review

Chosen Option : 3

Q.4 625 मीटर की एक वृत्ताकार दौड़ में, X और Y एक ही बिंदु से, एक ही समय पर और क्रमशः 36 km/h और 54 km/h की चाल से दौड़ना शुरू करते हैं। यदि वे विपरीत दिशाओं में दौड़ रहे हैं तो वे ट्रैक पर पहली बार फिर से कब मिलेंगे?

Ans  1. 15 सेकंड में

2. 25 सेकंड में

3. 20 सेकंड में

4. 10 सेकंड में

Question ID : 26433076382

Status : Answered

Chosen Option : 2

Q.5 The height of a right circular cone is 24 cm and its slant height is 25 cm. What is the curved surface area of the cone?

(Use  $\pi = \frac{22}{7}$ )

Ans  1. 548 cm<sup>2</sup>

2. 528 cm<sup>2</sup>

3. 550 cm<sup>2</sup>

4. 648 cm<sup>2</sup>

Question ID : 26433075212

Status : Answered

Chosen Option : 3

Q.6 सबसे बड़ी संख्या जो 1560 और 2040 को पूरी तरह से विभाजित कर सकती है वह X है।  $121 - X$  का मान क्या है?

Ans  1. 1

2. 20

3. 49

4. 24

Question ID : 264330116641

Status : Answered

Chosen Option : 1

Q.7 Abhi has a solid sphere of diameter 10 cm. He cuts it into two equal halves and decides to paint it. The painting cost per square cm is Rs.10. Which of the following is the approximate difference between the painting cost of the sphere and the hemispheres? (Use  $\pi = 22/7$ , rounded off to two decimal places.)

- Ans  1. Rs.1,571.43  
 2. Rs.1,600.00  
 3. Rs.1,500.556  
 4. Rs.1,512.45

Question ID : 26433075331

Status : Not Answered

Chosen Option : --

Q.8 एक शहर की वर्तमान जनसंख्या 10 लाख अनुमानित है और अगले 2 वर्षों के दौरान 12.10 लाख तक बढ़ने की उम्मीद है। वृद्धि की एकसमान वार्षिक दर क्या है?

- Ans  1. 10%  
 2. 12%  
 3. 8%  
 4. 7%

Question ID : 26433076083

Status : Answered

Chosen Option : 1

Q.9 14 व्यक्ति प्रतिदिन 7 घंटे कार्य करते हुए किसी कार्य का  $\frac{5}{12}$  भाग 18 दिनों में पूरा कर सकते हैं। 21 व्यक्ति प्रतिदिन कितने घंटे कार्य करके शेष कार्य को 15 दिनों में पूरा करेंगे?

- Ans  1.  $11\frac{3}{25}$  घंटे  
 2.  $3\frac{21}{25}$  घंटे  
 3.  $7\frac{21}{25}$  घंटे  
 4.  $9\frac{16}{25}$  घंटे

Question ID : 26433064934

Status : Not Answered

Chosen Option : --

Q.10 M, N और O क्रमशः 22, 24 और 16 दिनों में एक कार्य कर सकते हैं। यदि वे बारी-बारी से एक-एक दिन कार्य करते हैं; जैसे कि M पहले दिन कार्य करता है, N दूसरे दिन कार्य करता है, O तीसरे दिन कार्य करता है और फिर M चौथे दिन कार्य करता है और इसी प्रकार यह क्रम जारी रहता है, तो कार्य लगभग कितने दिनों में पूरा होगा?

- Ans  1. 20 दिन  
 2. 19 दिन  
 3. 17 दिन  
 4. 16 दिन

Question ID : 264330116916

Status : Answered

Chosen Option : 1

Q.11 6, 9, 18 का चौथा समानुपाती \_\_\_\_\_ है।

Ans  1. 15

2. 24

3. 9

4. 27

Question ID : 26433082646

Status : Answered

Chosen Option : 4

Q.12 महेश द्वारा पाँच विषयों में प्राप्त औसत अंक 62 है और वह छठे विषय में 71 अंक प्राप्त करता है। महेश द्वारा सभी छह विषयों में प्राप्त अंकों का औसत कितना है?

Ans  1. 64.6

2. 65.5

3. 63.5

4. 62.4

Question ID : 26433080287

Status : Answered

Chosen Option : 3

Q.13 दो संख्याओं का योग 21 है और उनके महत्तम समापवर्तक और लघुत्तम समापवर्त्य क्रमशः 7 और 14 हैं। दो संख्याओं के व्युत्क्रमों का योग \_\_\_\_\_ है।

Ans

1.  $\frac{3}{14}$

2.  $\frac{1}{14}$

3.  $\frac{3}{4}$

4.  $\frac{1}{4}$

Question ID : 26433082591

Status : Answered

Chosen Option : 1

Q.14 एक दुकानदार हर एक दर्जन पेन खरीदने पर एक पेन मुफ्त देता है। दुकानदार द्वारा दी जाने वाली छूट % की गणना करें। सभी पेनों का क्रय मूल्य समान है। (दशमलव के बाद एक स्थान तक पूर्णांकित)

- Ans
- 1. 7.6 प्रतिशत
  - 2. 6.3 प्रतिशत
  - 3. 12.5 प्रतिशत
  - 4. 8.3 प्रतिशत

Question ID : 26433081572

Status : Answered

Chosen Option : 1

Q.15 यदि एक व्यक्ति पहाड़ की तराई से चोटी तक की यात्रा में 6 km/h की चाल से पहाड़ी पर चढ़ता है और 10 km/h की चाल से वापस आता है, तो यात्रा में उसकी औसत चाल (km/h में) ज्ञात करें।

- Ans
- 1. 4
  - 2. 7.5
  - 3. 6.5
  - 4. 8

Question ID : 26433079907

Status : Answered

Chosen Option : 2

Q.16 भिन्न  $\frac{3}{4}$  की प्रतिशत तुल्यता (Percentage Equivalence) ज्ञात करें।

- Ans
- 1. 75%
  - 2. 70%
  - 3. 65%
  - 4. 80%

Question ID : 26433075101

Status : Answered

Chosen Option : 1

Q.17 एक व्यक्ति वार्षिक रूप से चक्रवृद्धि ब्याज की एक निश्चित दर पर 5 वर्ष के लिए ₹30,000 का निवेश करता है। 1 वर्ष के अंत में, यदि राशि ₹34,200 हो जाती है, तो दूसरे वर्ष के अंत में राशि ज्ञात कीजिए।

- Ans
- 1. ₹45,432
  - 2. ₹38,988
  - 3. ₹39,876
  - 4. ₹44,365

Question ID : 26433080039

Status : Answered

Chosen Option : 2



Q.18 तीन साइकिलें Rs.16,500 में खरीदी जाती हैं और परिवहन लागत Rs.200 प्रति साइकिल है। 8% का लाभ प्राप्त करने के लिए प्रत्येक साइकिल का विक्रय मूल्य (Rs. में) कितना होना चाहिए?

- Ans
- 1. 6651
  - 2. 5661
  - 3. 6156
  - 4. 5166

Question ID : 26433071253

Status : Answered

Chosen Option : 3

Q.19 दो ट्रेनें एक ही समय में बैंगलोर और चेन्नई से चलना शुरू करती हैं और एक दूसरे की ओर 80 km/h और 95 km/h की चाल से आगे बढ़ती हैं। जब वे मिलती हैं, तो पता चलता है कि एक ट्रेन ने दूसरी से 180 km अधिक यात्रा की है। बैंगलोर और चेन्नई के बीच की दूरी \_\_\_\_\_ है।

- Ans
- 1. 400 km
  - 2. 1200 km
  - 3. 345 km
  - 4. 2100 km

Question ID : 26433075888

Status : Not Answered

Chosen Option : --

Q.20 विनोद एक वस्तु खरीदता है और उसे 5% की हानि पर बेचता है। यदि वह इसे 20% कम पर खरीदता और Rs.25 अधिक में बेचता, तो उसे 20% का लाभ होता। वस्तु का वास्तविक क्रय मूल्य ज्ञात करें।

- Ans
- 1. Rs.2,250
  - 2. Rs.2,000
  - 3. Rs.2,500
  - 4. Rs.1,850

Question ID : 26433075466

Status : Answered

Chosen Option : 3

Section : Part-D-English

Q.1 Select the most appropriate option that can substitute the underlined segment in the given sentence. If there is no need to substitute it, select 'No substitution required'.

While I was driving the car, my brother talked over phone to his kid.

- Ans
- 1. talking over the phone
  - 2. had talked over the phone
  - 3. was talking over the phone
  - 4. No substitution required

Question ID : 26433088559

Status : Not Answered

Chosen Option : --

Q.2 Select the most appropriate ANTONYM of the given word.

**Salient**

- Ans  1. Clear  
 2. Striking  
 3. Noteworthy  
 4. Negligible

Question ID : 26433072667  
Status : Not Answered  
Chosen Option : --

Q.3 Select the most appropriate option to fill in the blank.

Most often, child labour occurs when families \_\_\_\_\_ financial challenges or uncertainty – whether due to poverty, sudden illness of a caregiver or job loss of a primary wage earner.

- Ans  1. happen  
 2. contend  
 3. face  
 4. emulate

Question ID : 26433084864  
Status : Not Answered  
Chosen Option : --

Q.4 Select the most appropriate meaning of the given idiom.

**Keep a straight face**

- Ans  1. To be stingy  
 2. Look serious though you want to laugh  
 3. To pretend to be cheerful  
 4. When a plan suddenly fails

Question ID : 26433072683  
Status : Not Answered  
Chosen Option : --

Q.5 Select the most appropriate option to fill in the blank.

It is better to end up certain matters than \_\_\_\_\_ a dead horse.

- Ans  1. coaching  
 2. beating  
 3. riding  
 4. talking

Question ID : 26433073211  
Status : Not Answered  
Chosen Option : --

Q.6 Select the most appropriate ANTONYM of the given word.  
Quiet

- Ans  1. Commotion  
 2. Stillness  
 3. Compose  
 4. Completely

Question ID : 26433086344  
Status : Not Answered  
Chosen Option : --

Q.7 Select the most appropriate option to fill in the blank.

The cat couldn't find a \_\_\_\_\_ place for its kittens in the backyard of the house.

- Ans  1. proper  
 2. stern  
 3. drastic  
 4. vague

Question ID : 26433073788  
Status : Not Answered  
Chosen Option : --

Q.8 Select the most appropriate homophone of the given word.

Ate

- Ans  1. Hate  
 2. Eight  
 3. Egg  
 4. Weight

Question ID : 26433086351  
Status : Not Answered  
Chosen Option : --

Q.9 Select the most appropriate option that can substitute the underlined segment in the given sentence. If there is no need to substitute it, select 'No substitution required'.

Robinson Crusoe puzzles when he discovered a footprint in the sand.

- Ans  1. was puzzled  
 2. is puzzled  
 3. has puzzled  
 4. No substitution required

Question ID : 264330101273  
Status : Not Answered  
Chosen Option : --

Q.10 Select the INCORRECTLY spelt word.

- Ans
- 1. Abundant
  - 2. Engineer
  - 3. Ecstasy
  - 4. Pionier

Question ID : 26433073652  
Status : Not Answered  
Chosen Option : --

Q.11 Select the most appropriate option to fill in the blank.

The play usually needs half an hour for its preparation and makeup, and its performance \_\_\_\_\_ within ten minutes.

- Ans
- 1. has ended
  - 2. ended
  - 3. ends
  - 4. would end

Question ID : 26433089301  
Status : Not Answered  
Chosen Option : --

Q.12 Select the most appropriate synonym of the word 'doubtful' from the following sentence.

He was in a dilemma about the completion of the project investigation because of his health issues.

- Ans
- 1. Investigation
  - 2. Dilemma
  - 3. Project
  - 4. Completion

Question ID : 26433072262  
Status : Not Answered  
Chosen Option : --

Q.13 Select the most appropriate synonym of the given word.

Attain

- Ans
- 1. Achieve
  - 2. Commence
  - 3. Destroy
  - 4. Abandon

Question ID : 26433073690  
Status : Not Answered  
Chosen Option : --

Q.14 Select the most appropriate synonym of the underlined word in the given sentence.

Incompetent people keep on blaming others for their failures.

- Ans
- 1. inevitable
  - 2. incongruous
  - 3. inefficient
  - 4. inappropriate

Question ID : 26433092109

Status : Not Answered

Chosen Option : --

Q.15 Select the most appropriate ANTONYM of the given word.

Restore

- Ans
- 1. Random
  - 2. Productive
  - 3. Recover
  - 4. Destroy

Question ID : 26433090796

Status : Not Answered

Chosen Option : --

**Comprehension:**

In the following passage, some words have been deleted. Read the passage carefully and select the most appropriate option to fill in each blank.

The world is becoming increasingly (1)\_\_\_\_\_. Since 2007, more than half of the world's population has been living in cities, and that share is (2)\_\_\_\_\_ to rise to 60 per cent by 2030. Cities and metropolitan areas are powerhouses of economic growth—(3)\_\_\_\_\_ about 60 per cent of global GDP. However, they also account for about 70 per cent of global carbon emissions and over 60 per cent of (4)\_\_\_\_\_ use. Rapid urbanisation is resulting in a growing number of slum dwellers, inadequate and (5)\_\_\_\_\_ infrastructure and services, worsening air pollution and unplanned urban sprawl.

**SubQuestion No : 16**

Q.16 Select the most appropriate option to fill in blank number 1.

- Ans
- 1. localised
  - 2. intensified
  - 3. decentralised
  - 4. urbanised

Question ID : 26433088180

Status : Not Answered

Chosen Option : --

**Comprehension:**

In the following passage, some words have been deleted. Read the passage carefully and select the most appropriate option to fill in each blank.

The world is becoming increasingly (1)\_\_\_\_\_. Since 2007, more than half of the world's population has been living in cities, and that share is (2)\_\_\_\_\_ to rise to 60 per cent by 2030. Cities and metropolitan areas are powerhouses of economic growth—(3)\_\_\_\_\_ about 60 per cent of global GDP. However, they also account for about 70 per cent of global carbon emissions and over 60 per cent of (4)\_\_\_\_\_ use. Rapid urbanisation is resulting in a growing number of slum dwellers, inadequate and (5)\_\_\_\_\_ infrastructure and services, worsening air pollution and unplanned urban sprawl.

**SubQuestion No : 17**

**Q.17** Select the most appropriate option to fill in blank number 2.

- Ans
- 1. planned
  - 2. multiplied
  - 3. projected
  - 4. contrived

Question ID : 26433088181

Status : Not Answered

Chosen Option : --

**Comprehension:**

In the following passage, some words have been deleted. Read the passage carefully and select the most appropriate option to fill in each blank.

The world is becoming increasingly (1)\_\_\_\_\_. Since 2007, more than half of the world's population has been living in cities, and that share is (2)\_\_\_\_\_ to rise to 60 per cent by 2030. Cities and metropolitan areas are powerhouses of economic growth—(3)\_\_\_\_\_ about 60 per cent of global GDP. However, they also account for about 70 per cent of global carbon emissions and over 60 per cent of (4)\_\_\_\_\_ use. Rapid urbanisation is resulting in a growing number of slum dwellers, inadequate and (5)\_\_\_\_\_ infrastructure and services, worsening air pollution and unplanned urban sprawl.

**SubQuestion No : 18**

**Q.18** Select the most appropriate option to fill in blank number 3.

- Ans
- 1. exploiting
  - 2. causing
  - 3. attempting
  - 4. contributing

Question ID : 26433088182

Status : Not Answered

Chosen Option : --

**Comprehension:**

In the following passage, some words have been deleted. Read the passage carefully and select the most appropriate option to fill in each blank.

The world is becoming increasingly (1)\_\_\_\_\_. Since 2007, more than half of the world's population has been living in cities, and that share is (2)\_\_\_\_\_ to rise to 60 per cent by 2030. Cities and metropolitan areas are powerhouses of economic growth—(3)\_\_\_\_\_ about 60 per cent of global GDP. However, they also account for about 70 per cent of global carbon emissions and over 60 per cent of (4)\_\_\_\_\_ use. Rapid urbanisation is resulting in a growing number of slum dwellers, inadequate and (5)\_\_\_\_\_ infrastructure and services, worsening air pollution and unplanned urban sprawl.

**SubQuestion No : 19**

**Q.19** Select the most appropriate option to fill in blank number 4.

- Ans**  1. resource  
 2. assets  
 3. nature  
 4. wealth

Question ID : 26433088183

Status : Not Answered

Chosen Option : --

**Comprehension:**

In the following passage, some words have been deleted. Read the passage carefully and select the most appropriate option to fill in each blank.

The world is becoming increasingly (1)\_\_\_\_\_. Since 2007, more than half of the world's population has been living in cities, and that share is (2)\_\_\_\_\_ to rise to 60 per cent by 2030. Cities and metropolitan areas are powerhouses of economic growth—(3)\_\_\_\_\_ about 60 per cent of global GDP. However, they also account for about 70 per cent of global carbon emissions and over 60 per cent of (4)\_\_\_\_\_ use. Rapid urbanisation is resulting in a growing number of slum dwellers, inadequate and (5)\_\_\_\_\_ infrastructure and services, worsening air pollution and unplanned urban sprawl.

**SubQuestion No : 20**

**Q.20** Select the most appropriate option to fill in blank number 5.

- Ans**  1. necessary  
 2. destructed  
 3. overburdened  
 4. redundant

Question ID : 26433088184

Status : Not Answered

Chosen Option : --

Q.1 “प्रत्येक व्यक्ति को स्वयं आत्मनिर्भर होना चाहिए।”  
उपरोक्त वाक्य का शुद्ध रूप क्या होगा?

- Ans
- 1. प्रत्येक व्यक्ति को स्वयं आत्मनिर्भर रहना चाहिए।
  - 2. प्रत्येक व्यक्ति को आत्मनिर्भर मिलाना चाहिए।
  - 3. प्रत्येक व्यक्ति को आत्मनिर्भर होना चाहिए।
  - 4. प्रत्येक व्यक्ति को स्वयं में आत्मनिर्भर होना चाहिए।

Question ID : 26433066998

Status : Answered

Chosen Option : 3

Q.2 “नम्रतापूर्वक याचना करना \_\_\_\_\_ कहलाता है।”  
उपरोक्त वाक्य में रिक्त स्थान पर किस शब्द का प्रयोग उपयुक्त होगा?

- Ans
- 1. आग्रह
  - 2. अनुग्रह
  - 3. अनुदेश
  - 4. अनुरोध

Question ID : 26433067007

Status : Answered

Chosen Option : 1

Q.3 निम्न में से किस वाक्य में वर्तनी की त्रुटि है, पहचान करें?

- Ans
- 1. नेहा की स्कूल में मन नहीं लगाता।
  - 2. सुजाता मनोहर के गाँव से है।
  - 3. रमेश बाजार से सब्जी लाया।
  - 4. महेंद्र बड़े जमींदार का बेटा है।

Question ID : 26433067108

Status : Answered

Chosen Option : 1

Q.4 “मनुष्य को किसी के प्रति द्वेष नहीं रखना चाहिए।”  
उक्त वाक्य में प्रयुक्त ‘द्वेष’ के स्थान पर उसके समानार्थी शब्द का प्रयोग निम्न में से किस वाक्य में किया गया है?

- Ans
- 1. मनुष्य को किसी के प्रति ममता नहीं रखनी चाहिए।
  - 2. मनुष्य को किसी के प्रति ईर्ष्या नहीं रखनी चाहिए।
  - 3. मनुष्य को किसी के प्रति क्रोध नहीं रखना चाहिए।
  - 4. मनुष्य को किसी के प्रति प्रतिशोध का भाव नहीं रखना चाहिए।

Question ID : 26433067029

Status : Answered

Chosen Option : 2



Q.5 निम्न शब्दों में से आश्रम का पर्याय शब्द है-

- Ans
- 1. साकेत
  - 2. थान
  - 3. अखाड़ा
  - 4. निवास

Question ID : 26433074415

Status : Answered

Chosen Option : 2

Q.6 आज शीतल पवन बह रही है।

उपरोक्त वाक्य में रेखांकित शब्द के उचित पर्यायवाची शब्द का चयन विकल्पों में से कीजिए।

- Ans
- 1. अनिल
  - 2. अनल
  - 3. क्षणदा
  - 4. बतासा

Question ID : 26433079724

Status : Answered

Chosen Option : 2

Q.7 जिससे किसी कार्य के करने का बोध होता है, उसे कहते हैं-

- Ans
- 1. संज्ञा
  - 2. विशेषण
  - 3. सर्वनाम
  - 4. क्रिया

Question ID : 26433085036

Status : Answered

Chosen Option : 4

Q.8 निम्न वाक्यांश के लिए एक शब्द क्या होगा?

जिसके शेखर पर चन्द्र हो

- Ans
- 1. चन्द्रकान्त
  - 2. चन्द्ररेखा
  - 3. चन्द्रशेखर
  - 4. चन्द्रपाणि

Question ID : 26433070085

Status : Answered

Chosen Option : 3

Q.9 'जो निगाह से परे हो' इस वाक्यांश के लिए सार्थक शब्द है -

- Ans
- 1. दृष्टिक्षेप
  - 2. परोक्ष
  - 3. प्रत्यागत
  - 4. प्रत्यक्ष

Question ID : 26433062336

Status : Marked For Review

Chosen Option : 1

Q.10 दिए गए वाक्य के रेखांकित शब्द को सर्वोचित विकल्प से प्रतिस्थापित करें।  
बरात का अभिवादन आत्मीयता से किया गया।

- Ans
- 1. स्वागत
  - 2. अपमान
  - 3. अभिनंदन
  - 4. सम्मान

Question ID : 26433069914

Status : Answered

Chosen Option : 1

Q.11 निम्नलिखित विकल्पों में से कौन सा एक वाक्य मूल क्रिया-विशेषण से सम्बन्ध नहीं रखता है?

- Ans
- 1. तुम ठीक कह रहे हो।
  - 2. सीता खेलती-कूदती रहती है।
  - 3. वह अचानक आ गया।
  - 4. नगर यहाँ से दूर पड़ता है।

Question ID : 26433062957

Status : Answered

Chosen Option : 2

Q.12 'उसकी महिला भी उसके साथ आई है।' इस वाक्य में रेखांकित शब्द के स्थान पर सर्वोपयुक्त शब्द निम्न में से क्या होगा?

- Ans
- 1. पत्नी
  - 2. स्त्री
  - 3. मित्र
  - 4. साथी

Question ID : 26433062781

Status : Answered

Chosen Option : 1

Q.13 नीचे दिए गए मुहावरे में रेखांकित अंश के स्थान पर सबसे उपयुक्त विकल्प कौन-सा होगा?  
तिल का पहाड़ करना

- Ans
- 1. पेड़
  - 2. खजूर
  - 3. आम
  - 4. ताड़

Question ID : 26433066746  
Status : Answered  
Chosen Option : 4

Q.14 विकल्पों में दिया गया कौन सा शब्द निम्न वाक्य में रेखांकित अंश के स्थान पर आ सकता है?  
वह सचमुच में बीमार है।

- Ans
- 1. वाकई
  - 2. सत्य
  - 3. झूठ
  - 4. सच

Question ID : 26433066878  
Status : Answered  
Chosen Option : 4

Q.15 निम्नलिखित विकल्पों में से 'तलवार की धार पर चलना' मुहावरे का अर्थ क्या है?

- Ans
- 1. अनावश्यक सलाह देना
  - 2. ताकतवर होना
  - 3. जोखिम-भरा काम करना
  - 4. चाल सफल न होना

Question ID : 26433062554  
Status : Answered  
Chosen Option : 3

#### Comprehension:

निम्नलिखित गद्यांश में कुछ शब्दों को हटा दिया गया है। दिए गए विकल्पों की सहायता से रिक्त स्थानों की पूर्ति कीजिए। प्रत्येक संख्या के लिए सबसे उपयुक्त विकल्प का चयन कीजिए।  
मनुष्य विवेकशील 1. \_\_\_\_\_ है। सब कुछ जानने और समझने की 2. \_\_\_\_\_ उसमें विद्यमान है। विशेष ज्ञान रूप विज्ञान उसकी इसी 3. \_\_\_\_\_ वृत्ति का परिणाम है। पेड़ से फल को 4. \_\_\_\_\_ गिरते हुए देखा तो जिज्ञासा हुई कि वस्तुएँ नीचे पृथ्वी पर ही क्यों गिरती हैं? विज्ञान ने गुरुत्वाकर्षण का महत्त्वपूर्ण 5. \_\_\_\_\_ दिया।

#### SubQuestion No : 16

Q.16 रिक्त स्थान 1 की पूर्ति के लिए सबसे उपयुक्त विकल्प का चयन कीजिए।

- Ans
- 1. प्राणी
  - 2. आविष्कार
  - 3. असाध्य
  - 4. मानव

Question ID : 264330111041  
Status : Answered  
Chosen Option : 1

**Comprehension:**

निम्नलिखित गद्यांश में कुछ शब्दों को हटा दिया गया है। दिए गए विकल्पों की सहायता से रिक्त स्थानों की पूर्ति कीजिए। प्रत्येक संख्या के लिए सबसे उपयुक्त विकल्प का चयन कीजिए।  
मनुष्य विवेकशील 1. \_\_\_\_\_ है। सब कुछ जानने और समझने की 2. \_\_\_\_\_ उसमें विद्यमान है। विशेष ज्ञान रूप विज्ञान उसकी इसी 3. \_\_\_\_\_ वृत्ति का परिणाम है। पेड़ से फल को 4. \_\_\_\_\_ गिरते हुए देखा तो जिज्ञासा हुई कि वस्तुएँ नीचे पृथ्वी पर ही क्यों गिरती हैं? विज्ञान ने गुरुत्वाकर्षण का महत्वपूर्ण 5. \_\_\_\_\_ दिया।

**SubQuestion No : 17**

Q.17 रिक्त स्थान 2 की पूर्ति के लिए सबसे उपयुक्त विकल्प का चयन कीजिए।

- Ans
- 1. मशीन
  - 2. गुंजाइश
  - 3. घड़ियाँ
  - 4. इच्छा

Question ID : 264330111042

Status : Answered

Chosen Option : 4

**Comprehension:**

निम्नलिखित गद्यांश में कुछ शब्दों को हटा दिया गया है। दिए गए विकल्पों की सहायता से रिक्त स्थानों की पूर्ति कीजिए। प्रत्येक संख्या के लिए सबसे उपयुक्त विकल्प का चयन कीजिए।  
मनुष्य विवेकशील 1. \_\_\_\_\_ है। सब कुछ जानने और समझने की 2. \_\_\_\_\_ उसमें विद्यमान है। विशेष ज्ञान रूप विज्ञान उसकी इसी 3. \_\_\_\_\_ वृत्ति का परिणाम है। पेड़ से फल को 4. \_\_\_\_\_ गिरते हुए देखा तो जिज्ञासा हुई कि वस्तुएँ नीचे पृथ्वी पर ही क्यों गिरती हैं? विज्ञान ने गुरुत्वाकर्षण का महत्वपूर्ण 5. \_\_\_\_\_ दिया।

**SubQuestion No : 18**

Q.18 रिक्त स्थान 3 की पूर्ति के लिए सबसे उपयुक्त विकल्प का चयन कीजिए।

- Ans
- 1. रोग
  - 2. शांत
  - 3. जिज्ञासा
  - 4. विचित्र

Question ID : 264330111043

Status : Marked For Review

Chosen Option : 3

**Comprehension:**

निम्नलिखित गद्यांश में कुछ शब्दों को हटा दिया गया है। दिए गए विकल्पों की सहायता से रिक्त स्थानों की पूर्ति कीजिए। प्रत्येक संख्या के लिए सबसे उपयुक्त विकल्प का चयन कीजिए।  
मनुष्य विवेकशील 1. \_\_\_\_\_ है। सब कुछ जानने और समझने की 2. \_\_\_\_\_ उसमें विद्यमान है। विशेष ज्ञान रूप विज्ञान उसकी इसी 3. \_\_\_\_\_ वृत्ति का परिणाम है। पेड़ से फल को 4. \_\_\_\_\_ गिरते हुए देखा तो जिज्ञासा हुई कि वस्तुएँ नीचे पृथ्वी पर ही क्यों गिरती हैं? विज्ञान ने गुरुत्वाकर्षण का महत्वपूर्ण 5. \_\_\_\_\_ दिया।

**SubQuestion No : 19**

Q.19 रिक्त स्थान 4 की पूर्ति के लिए सबसे उपयुक्त विकल्प का चयन कीजिए।

- Ans
- 1. उठाते
  - 2. हमेशा
  - 3. नीचे
  - 4. आते

Question ID : 264330111044

Status : Answered

Chosen Option : 3

**Comprehension:**

निम्नलिखित गद्यांश में कुछ शब्दों को हटा दिया गया है। दिए गए विकल्पों की सहायता से रिक्त स्थानों की पूर्ति कीजिए। प्रत्येक संख्या के लिए सबसे उपयुक्त विकल्प का चयन कीजिए।  
मनुष्य विवेकशील 1. \_\_\_\_\_ है। सब कुछ जानने और समझने की 2. \_\_\_\_\_ उसमें विद्यमान है। विशेष ज्ञान रूप विज्ञान उसकी इसी 3. \_\_\_\_\_ वृत्ति का परिणाम है। पेड़ से फल को 4. \_\_\_\_\_ गिरते हुए देखा तो जिज्ञासा हुई कि वस्तुएँ नीचे पृथ्वी पर ही क्यों गिरती हैं? विज्ञान ने गुरुत्वाकर्षण का महत्वपूर्ण 5. \_\_\_\_\_ दिया।

**SubQuestion No : 20**

Q.20 रिक्त स्थान 5 की पूर्ति के लिए सबसे उपयुक्त विकल्प का चयन कीजिए।

Ans  1. सिद्धांत

2. सूचना

3. ज्ञान

4. क्षेत्र

Question ID : 264330111045

Status : Answered

Chosen Option : 1

www.exammix.com

# Constable GD in CAPFs SSF Rifleman GD in Assam Rifles and Sepoy in NCB Examination 2022

Roll Number	
Candidate Name	
Venue Name	
Exam Date	02/02/2023
Exam Time	5:15 PM - 6:15 PM
Subject	Constable GD Examination 2022

## Section : Part-A-General Intelligence and Reasoning

Q.1 उस विकल्प का चयन कीजिए जो तीसरे शब्द से उसी प्रकार संबंधित है जिस प्रकार दूसरा शब्द पहले शब्द से संबंधित है। (शब्दों को अर्थपूर्ण शब्दों के रूप में मानना है और उन्हें शब्द में अक्षरों/व्यंजनों/स्वरों की संख्या के आधार पर एक-दूसरे से संबंधित नहीं करना है।)  
लेखक : कलम :: डॉक्टर : \_\_\_\_\_

- Ans
- 1. धातु
  - 2. स्टेथोस्कोप
  - 3. शार्पनर
  - 4. इरेज़र

Q.2 एक निश्चित कूट भाषा में, 'FIT' को 'FGIST' के रूप में लिखा जाता है और 'KIN' को 'KLIMN' के रूप में लिखा जाता है। उसी भाषा में 'JOY' को कैसे लिखा जाएगा?

- Ans
- 1. KKQXX
  - 2. JJOYY
  - 3. KJOYX
  - 4. JKOXY

Q.3 दर्पण को दाईं ओर रखे जाने पर, निम्नलिखित में से कौन-सी आकृति दी गई प्रश्न आकृति

का सटीक दर्पण प्रतिबिम्ब होगी?

प्रश्न आकृति:



Ans

✓ 1.



✗ 2.



✗ 3.



✗ 4.



Question ID : 26433087086

Status : Answered

Chosen Option : 1

Q.4 एक कूट भाषा में 'sweet fruits' को 're de', 'mango is sweet' को 'de me ke', 'orange is citrus' को 'ke le pe', 'eat orange' को 'pe ne' के रूप में कूटबद्ध किया जाता है। शब्द 'citrus' के लिए कूट क्या होगा?

- Ans
- 1. pe
  - 2. ke
  - 3. de
  - 4. le

Question ID : 26433082268

Status : Answered

Chosen Option : 4

Q.5 'A + B' का अर्थ है कि 'A, B का भाई है'  
'A - B' का अर्थ है कि 'A, B की पत्नी है'  
'A × B' का अर्थ है कि 'A, B का पुत्र है'  
'A ÷ B' का अर्थ है कि 'A, B का पति है'  
यदि  $P + Q - S + R \times L \div M$  है, तो निम्नलिखित में से कौन-सा कथन सही नहीं है?

- Ans
- 1. P, S की पत्नी का भाई है।
  - 2. Q, R के भाई की पत्नी है।
  - 3. M, R की माता है।
  - 4. M, Q की बहन है।

Question ID : 26433069656

Status : Answered

Chosen Option : 4

Q.6 दिए गए विकल्पों में से उस अक्षर-समूह का चयन कीजिए जो निम्न श्रृंखला में प्रश्न-चिह्न (?) के स्थान पर आ सकता है।  
BWLS, FTPW, JQTA, ? , RKBI

- Ans
- 1. NXCR
  - 2. JLPR
  - 3. LKPE
  - 4. NNXE

Question ID : 26433074741

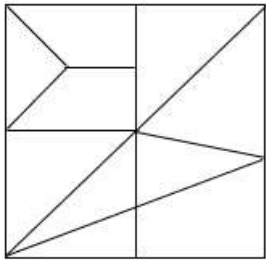
Status : Answered

Chosen Option : 4



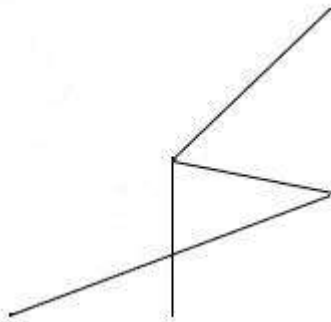
Q.7 वह विकल्प चित्र चुनिए, जो प्रस्तुत चित्र में अंतर्निहित है। (घुमाना अनुमन्य नहीं

है)




Ans

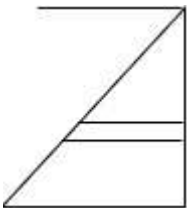
✓ 1.



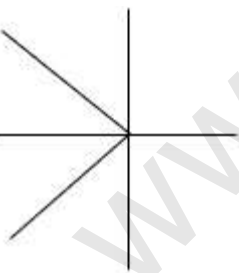
✗ 2.



✗ 3.



✗ 4.



Question ID : 26433069357

Status : Answered

Chosen Option : 1

Q.8 उस विकल्प का चयन करें, जो पाँचवीं संख्या से उसी प्रकार संबंधित है, जिस प्रकार दूसरी संख्या, पहली संख्या से संबंधित है और चौथी संख्या, तीसरी संख्या से संबंधित है।  
320 : 4 :: 40 : 2 :: 1715 : ?

Ans  1.7

2.5

3.10

4.9

Q.9 कौन-सा अक्षर-समूह दी गई श्रृंखला में प्रश्नचिह्न (?) के स्थान पर आकर श्रृंखला को पूर्ण करेगा?  
ALTY, DNVA, ?, JRZE, MTBG

Ans  1. GQYC

2. GPYC

3. GPXC

4. GQXC

Question ID : 26433067950

Status : Answered

Chosen Option : 3

Q.10 छः व्यक्ति A, B, C, D, E और F एक पंक्ति में उत्तर की ओर मुख करके बैठे हैं। D पंक्ति के दाएं सिरे पर बैठा है। F, D के बाईं ओर ठीक बगल में बैठा है। A और F के बीच में केवल B बैठा है। C और A के बीच में केवल E बैठा है। A के दाईं ओर ठीक बगल में कौन बैठा है?

Ans  1. F

2. E

3. B

4. D

Question ID : 26433074626

Status : Answered

Chosen Option : 3

Q.11 यदि @ का अर्थ ÷, # का अर्थ ×, \$ का अर्थ + और % का अर्थ - है, तो निम्नलिखित समीकरण का मान क्या होगा?

$$10 \# 25 @ 5 \$ 20 \% 10 = ?$$

Ans  1. 40

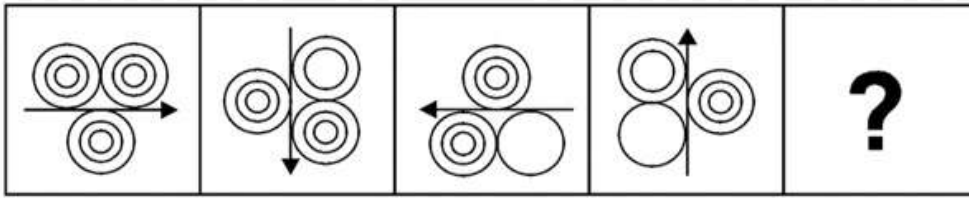
2. 60

3. 50

4. 65

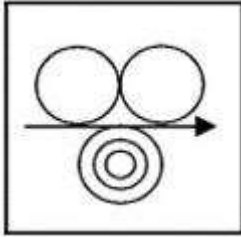
Q.12 दिए गए विकल्पों में से उस आकृति का चयन करें जो निम्नलिखित श्रृंखला में

प्रश्नवाचक चिह्न (?) का स्थान ले सकती है।

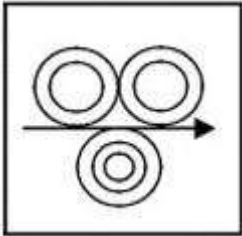


Ans

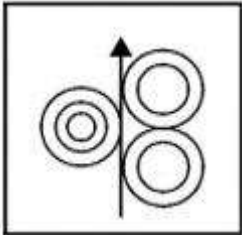
✓ 1.



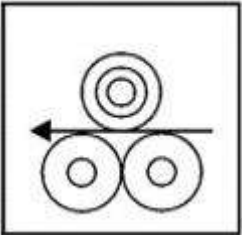
✗ 2.



✗ 3.



✗ 4.



Question ID : 26433080485

Status : Answered

Chosen Option : 1

Q.13 किस विकल्प में निम्नलिखित शब्दों का वह क्रम दिया गया है, जिस क्रम में वे अंग्रेजी शब्दकोश में आते हैं?  
1 fondant  
2 fountain  
3 follow  
4 forgive  
5 forget

- Ans  1. 3,5,1,2,4  
 2. 3,1,5,4,2  
 3. 3,4,1,5,2  
 4. 3,1,4,5,2

Question ID : 26433069309

Status : Answered

Chosen Option : 4

Q.14 उस विकल्प का चयन कीजिए जो तीसरे शब्द से उसी प्रकार संबंधित है जिस प्रकार दूसरा शब्द पहले शब्द से संबंधित है। (शब्दों को अर्थपूर्ण शब्दों के रूप में मानना है और उन्हें शब्द में अक्षरों/व्यंजनों/स्वरों की संख्या के आधार पर एक-दूसरे से संबंधित नहीं करना है।)  
हाथी : हर्ड :: मछली : ?

- Ans  1. नदी  
 2. शोल  
 3. समुद्र  
 4. एकेरियम

Question ID : 26433067375

Status : Answered

Chosen Option : 2

Q.15 तीन कथन दिए गए हैं, जिनके बाद तीन निष्कर्ष I, II और III दिए गए हैं। कथनों को सत्य मानते हुए, भले ही वे सामान्य रूप से ज्ञात तथ्यों से भिन्न प्रतीत होते हों, निर्धारित करें कि कौन-सा/से निष्कर्ष कथनों का तार्किक रूप से अनुसरण करता है/करते हैं।

कथन:

सभी लड़के पुरुष हैं।  
कुछ पुरुष लड़कियां हैं।  
सभी लड़कियां महिलाएँ हैं।  
निष्कर्ष:

I. सभी लड़के लड़कियां हैं।  
II. सभी पुरुष महिलाएँ हैं।  
III. कुछ लड़कियां पुरुष हैं।

- Ans  1. केवल निष्कर्ष II और III अनुसरण करते हैं  
 2. सभी निष्कर्ष अनुसरण करते हैं  
 3. केवल निष्कर्ष I और III अनुसरण करते हैं  
 4. केवल निष्कर्ष III अनुसरण करता है

Question ID : 26433090985

Status : Answered

Chosen Option : 4

Q.16 नीचे दिए गए समीकरण को गणितीय रूप से सही बनाने के लिए किन दो चिन्हों को परस्पर बदलना चाहिए?

$$25 \times 16 + 8 - 36 \div 18 = 32$$

Ans  1. + और ÷

2. - और +

3. × और -

4. ÷ और ×

Question ID : 264330117513

Status : Answered

Chosen Option : 1

Q.17 छः विद्यार्थी एक वृत्ताकार मेज के परितः मेज के केंद्र की ओर मुख करके बैठे हैं। मैरी, सुसान के बाईं ओर दूसरे स्थान पर है। एलिस, सुसान और प्रिया के ठीक बगल में है। रिया, प्रिया के दाईं ओर तीसरे स्थान पर बैठी है। जोन, रिया के बाईं ओर दूसरे स्थान पर बैठा है। प्रिया, सुसान के दाईं ओर दूसरे स्थान पर बैठी है। इनमें से कौन मैरी और सुसान के ठीक बगल में बैठा/बैठी है?

Ans  1. एलिस

2. रिया

3. प्रिया

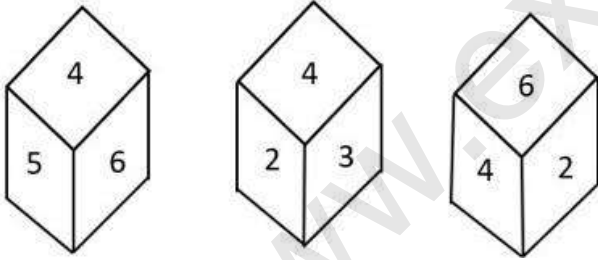
4. जोन

Question ID : 26433081772

Status : Answered

Chosen Option : 2

Q.18 एक ही पासे की तीन अलग-अलग स्थितियों को दर्शाया गया है। '4' दर्शाने वाले फलक के विपरीत फलक की संख्या ज्ञात कीजिए।



Ans  1. 2

2. 5

3. 1

4. 3

Question ID : 26433090079

Status : Answered

Chosen Option : 3

Q.19 दिए गए विकल्पों में से वह संख्या चुनिए, जो निम्नलिखित श्रृंखला में प्रश्न-चिह्न (?) को प्रतिस्थापित कर सके।  
23, 32, 14, 41, 5, 50, ?

- Ans  1. -4  
 2. 2  
 3. -2  
 4. -3

Question ID : 26433078925  
Status : Answered  
Chosen Option : 1

Q.20 निम्नलिखित में से कौन-सी संख्या दी गई श्रृंखला में प्रश्न-चिह्न (?) को प्रतिस्थापित करेगी?  
51, 52, 56, ?, 81, 106

- Ans  1. 67  
 2. 65  
 3. 66  
 4. 64

Question ID : 26433069385  
Status : Answered  
Chosen Option : 2

Section : Part-B-General Knowledge and General awareness

Q.1 लोहा और इस्पात \_\_\_\_\_ उद्योग हैं।

- Ans  1. हथकरघा  
 2. कृषि  
 3. खनिज आधारित  
 4. कृषि आधारित

Question ID : 264330115404  
Status : Answered  
Chosen Option : 3

Q.2 भारत में, किसके द्वारा मुख्यमंत्री की नियुक्ति की जाती है?

- Ans  1. उप राष्ट्रपति  
 2. प्रधानमंत्री  
 3. राज्यपाल  
 4. राष्ट्रपति

Question ID : 26433089185  
Status : Answered  
Chosen Option : 3

Q.3 भारत में, मानसून की अवधि जून के आरंभ से सितंबर के मध्य तक \_\_\_\_\_ दिनों के बीच होती है।

Ans  1. 200 - 240

2. 100 - 120

3. 60 - 80

4. 260 - 280

Question ID : 26433089660

Status : Answered

Chosen Option : 3

Q.4 निम्नलिखित में से किस खिलाड़ी ने भारत के लिए क्रिकेट टेस्ट मैच में पहला शतक बनाया था?

Ans  1. पंकज राय

2. सी के नायडू

3. विनू मांकड़

4. लाला अमरनाथ

Question ID : 264330116299

Status : Answered

Chosen Option : 2

Q.5 काम के अधिकार को लागू करने के लिए भारत की केंद्र सरकार द्वारा महात्मा गांधी राष्ट्रीय ग्रामीण रोजगार गारंटी अधिनियम किस वर्ष में अधिनियमित किया गया था?

Ans  1. 2007

2. 2005

3. 2006

4. 2009

Question ID : 264330116080

Status : Answered

Chosen Option : 2

Q.6 भारत सरकार ने वर्ष \_\_\_\_\_ में एक अधिनियम पारित करके, तत्कालीन जम्मू और कश्मीर राज्य की विशेष संवैधानिक स्थिति को रद्द कर दिया।

Ans  1. 2018

2. 2014

3. 2021

4. 2019

Question ID : 264330116228

Status : Answered

Chosen Option : 4

Q.7 सितंबर 2022 में, मेडागास्कर गणराज्य में भारत के राजदूत के रूप में किसे नामित किया गया?

- Ans
- 1. अभय कुमार
  - 2. नवीन श्रीवास्तव
  - 3. बंडारू विल्सनबाबू
  - 4. मनप्रीत वोहरा

Question ID : 264330115003

Status : Not Answered

Chosen Option : --

Q.8 सफ़ेद सिल्वर क्लोराइड सूर्य के प्रकाश में क्यों हो जाता है?

- Ans
- 1. ऑक्सीजन की उपस्थिति में सिल्वर में जंग लगने के कारण
  - 2. रेडॉक्स अभिक्रिया के कारण
  - 3. सिल्वर क्लोराइड का प्रकाश द्वारा सिल्वर और क्लोरीन में अपघटन के कारण
  - 4. सिल्वर क्लोराइड के सिल्वर ऑक्साइड में विस्थापन के कारण

Question ID : 26433087845

Status : Answered

Chosen Option : 4

Q.9 नवंबर 2022 तक की स्थिति के अनुसार, भारत में केंद्रीय संचार और इलेक्ट्रॉनिक्स एवं सूचना प्रौद्योगिकी मंत्री कौन हैं?

- Ans
- 1. किरण रिजिजू
  - 2. नारायण राणे
  - 3. अनुराग ठाकुर
  - 4. अश्विनी वैष्णव

Question ID : 264330114940

Status : Answered

Chosen Option : 1

Q.10 भारत में हरित क्रान्ति में उच्च उपज देने वाली किस्मों के बीजों के प्रयोग की मुख्य आवश्यकता क्या थी?

- Ans
- 1. फसल उगाने की पुरानी पद्धति का उपयोग
  - 2. पानी की अनियमित आपूर्ति का उपयोग
  - 3. स्थानीय बीजों का उपयोग
  - 4. उर्वरक और कीटनाशक का उपयोग

Question ID : 26433054625

Status : Answered

Chosen Option : 3



Q.11 बी. आर. अम्बेडकर द्वारा दमित वर्ग संघ की स्थापना किस वर्ष की गई थी?

- Ans
- 1. 1932
  - 2. 1926
  - 3. 1928
  - 4. 1930

Question ID : 264330115695

Status : Not Answered

Chosen Option : --

Q.12 चोल अभिलेखों के अनुसार विद्यालयों के रख-रखाव के लिए भूमि को क्या कहा जाता था?

- Ans
- 1. देवदान
  - 2. शालाभोग
  - 3. ब्रह्मदेय
  - 4. वेल्लनवगाई

Question ID : 264330115458

Status : Answered

Chosen Option : 2

Q.13 कोशिकीय ऊर्जा हस्तांतरण प्रणालियों का प्रमुख घटक क्या है?

- Ans
- 1. फास्फोरस
  - 2. मेथेन
  - 3. कार्बन
  - 4. ऑक्सीजन

Question ID : 264330115258

Status : Answered

Chosen Option : 4

Q.14 मक्का और धान की फसलों की कटाई के दौरान किया जाने वाला हुरका बाउल (Hurka Baul) नृत्य मुख्यतः एक कथात्मक नृत्य रूप है। यह निम्नलिखित में से किस राज्य से संबंधित है?

- Ans
- 1. पश्चिम बंगाल
  - 2. ओडिशा
  - 3. पंजाब
  - 4. उत्तराखंड

Question ID : 264330115065

Status : Not Answered

Chosen Option : --

Q.15 राज्य की राजधानी को विभिन्न जिला मुख्यालयों से जोड़ने वाली सड़कों को \_\_\_\_\_ के रूप में जाना जाता है। इन सड़कों का निर्माण और रख-रखाव राज्य लोक निर्माण विभाग (PWD) द्वारा राज्य और केंद्र शासित प्रदेशों में किया जाता है।

- Ans
- 1. जिला मार्ग
  - 2. सीमांत सड़कें
  - 3. राज्य राजमार्ग
  - 4. राष्ट्रीय राजमार्ग

Question ID : 264330115547

Status : Answered

Chosen Option : 3

Q.16 साजिबू चेराओबा भारतीय राज्य \_\_\_\_\_ में सनमाहिज्म (Sanamahism) धर्म का पालन करने वाले लोगों का चंद्र नव वर्ष उत्सव है।

- Ans
- 1. मणिपुर
  - 2. अरुणाचल प्रदेश
  - 3. सिक्किम
  - 4. असम

Question ID : 264330115116

Status : Answered

Chosen Option : 3

Q.17 आईओसी (IOC) के अंतर्गत पहला आधुनिक ओलंपिक खेल कहाँ आयोजित हुआ था?

- Ans
- 1. सिडनी में
  - 2. ब्रिस्बेन में
  - 3. एर्थेस में
  - 4. टोक्यो में

Question ID : 26433071559

Status : Answered

Chosen Option : 3

Q.18 NABARD का पूर्ण रूप क्या है?

- Ans
- 1. National Bank for Agriculture and River Development (नेशनल बैंक फॉर एग्रीकल्चर एंड रिवर डेवलपमेंट)
  - 2. National Bank for Architecture and Rural Development (नेशनल बैंक फॉर आर्किटेक्चर एंड रूरल डेवलपमेंट)
  - 3. National Bank for Agriculture and Rural Development (नेशनल बैंक फॉर एग्रीकल्चर एंड रूरल डेवलपमेंट)
  - 4. National Body for Agriculture and Rural Development (नेशनल बॉडी फॉर एग्रीकल्चर एंड रूरल डेवलपमेंट)

Question ID : 264330115300

Status : Answered

Chosen Option : 3

Q.19 निम्नलिखित में से किसे कथक के लिए संगीत नाटक अकादमी पुरस्कार से सम्मानित किया गया है?

- Ans
- 1. टंकेश्वर हजारिका बोरबयान
  - 2. सरोदी सैकिया
  - 3. सुनयना हजारीलाल
  - 4. जोगेन दत्ता ब्यान

Question ID : 264330115882

Status : Answered

Chosen Option : 1

Q.20 भारतीय संविधान में मूल अधिकारों का सिद्धांत निम्नलिखित में से किस देश से लिया गया है?

- Ans
- 1. दक्षिण अफ्रीका
  - 2. यूनाइटेड किंगडम
  - 3. संयुक्त राज्य अमेरिका
  - 4. कनाडा

Question ID : 26433091447

Status : Answered

Chosen Option : 3

Section : Part-C-Elementary Mathematics

Q.1 एक खेप माल का तीन चौथाई भाग 6% लाभ पर और शेष माल 3% की हानि पर बेचा गया। यदि कुल लाभ Rs.600 है, तो उस खेप माल का क्रय मूल्य (Rs. में) \_\_\_\_\_ है।

- Ans
- 1. Rs.22,000
  - 2. Rs.14,000
  - 3. Rs.18,000
  - 4. Rs.16,000

Question ID : 26433073006

Status : Answered

Chosen Option : 4

Q.2 प्रीति 36 दिनों में एक कार्य कर सकती है। अनु उसी कार्य को 30 दिनों में कर सकती है। यदि प्रीति और अनु एक साथ कार्य शुरू करती हैं लेकिन अनु काम पूरा होने से 3 दिन पहले काम छोड़ देती है, तो दिनों की संख्या ज्ञात करें जिसमें कुल कार्य पूरा हुआ।

- Ans
- 1. 18 दिन
  - 2. 16 दिन
  - 3. 14 दिन
  - 4. 11 दिन

Question ID : 264330116912

Status : Answered

Chosen Option : 1

Q.3 6 के वर्ग, 4 के घन और 24 का लघुत्तम समापवर्त्य ज्ञात करें।

Ans  1. 576

2. 1152

3. 288

4. 144

Question ID : 264330116657

Status : Answered

Chosen Option : 1

Q.4 15%, 20% और 24% की क्रमिक छूटों के लिए समतुल्य एकल छूट कितनी होगी?

Ans  1. 48.32%

2. 41.35%

3. 44.25%

4. 46.56%

Question ID : 26433066308

Status : Answered

Chosen Option : 1

Q.5 यदि A और B के तृतीयानुपाती तथा A, B और C के चतुर्थानुपाती का अनुपात 3 : 4 है, तो B : C का अनुपात \_\_\_\_\_ है।

Ans  1. 4 : 5

2. 3 : 4

3. 5 : 4

4. 4 : 3

Question ID : 26433080117

Status : Answered

Chosen Option : 2

Q.6 एक वाहन द्वारा एक निश्चित दूरी को एक निश्चित चाल से तय किया जाता है। यदि उस दूरी के आधे भाग को किसी दूसरे वाहन द्वारा दोगुने समय में तय किया गया है, तो दोनों वाहनों की चालों का अनुपात \_\_\_\_\_ है।

Ans  1. 4 : 1

2. 2 : 1

3. 6 : 1

4. 3 : 1

Question ID : 26433063949

Status : Answered

Chosen Option : 2

Q.7 एक कारखाने में लगातार 5 महीने में 7482, 8952, 6524, 8432 और 6562 इकाइयों का उत्पादन होता है। छठे महीने में कितनी इकाइयों का उत्पादन किया जाना चाहिए, ताकि 6 महीने का औसत उत्पादन 7200 हो जाए?

- Ans
- 1. 5420
  - 2. 5248
  - 3. 4912
  - 4. 5812

Question ID : 26433079995

Status : Answered

Chosen Option : 2

Q.8 एक अर्धगोले की त्रिज्या 42 cm है। इसके वक्र पृष्ठीय क्षेत्रफल का आधा ज्ञात कीजिए ( $\pi = \frac{22}{7}$ )।

- Ans
- 1. 4554 cm<sup>2</sup>
  - 2. 5544 cm<sup>2</sup>
  - 3. 3663 cm<sup>2</sup>
  - 4. 2772 cm<sup>2</sup>

Question ID : 26433075748

Status : Answered

Chosen Option : 2

Q.9 एक संख्या में 10% की वृद्धि की जाती है और बड़ी हुई संख्या में 20% की कमी की जाती है। मूल संख्या में हुए परिवर्तन का शुद्ध प्रतिशत ज्ञात करें।

- Ans
- 1. 8% वृद्धि
  - 2. 12% वृद्धि
  - 3. 8% कमी
  - 4. 12% कमी

Question ID : 26433075098

Status : Answered

Chosen Option : 4

Q.10 एक निश्चित अवधि के लिए ₹2,300 की राशि पर 10% वार्षिक की दर से वार्षिक रूप से चक्रवृद्धि किया जाने वाला चक्रवृद्धि ब्याज ₹483 है। वर्षों में अवधि ज्ञात करें।

- Ans
- 1. 2 वर्ष 6 महीने
  - 2. 1 वर्ष 9 महीने
  - 3. 2 वर्ष
  - 4. 3 वर्ष

Question ID : 26433076228

Status : Answered

Chosen Option : 3

Q.11 यदि  $k + 3$ ,  $k + 2$ ,  $3k - 7$ ,  $2k - 3$  दिए गए क्रम में समानुपात में हों, तो चौथे समानुपाती का न्यूनतम मान क्या होगा?

- Ans
- 1. 7
  - 2. -5
  - 3. 5
  - 4. -7

Question ID : 26433090255

Status : Not Answered

Chosen Option : --

Q.12 एक डीलर उस वस्तु पर 25% की अतिरिक्त रियायत देता है, जिस पर पहले से ही अंकित मूल्य पर 20% की छूट है। यदि कोई क्रेता वस्तु के लिए ₹1,500 का भुगतान करता है, तो अंकित मूल्य ज्ञात कीजिए।

- Ans
- 1. ₹2,000
  - 2. ₹1,875
  - 3. ₹2,225
  - 4. ₹2,500

Question ID : 26433090324

Status : Answered

Chosen Option : 4

Q.13 एक वस्तु के मूल्य में 30% की वृद्धि की जाती है और फिर 30% की कमी की जाती है। वस्तु के अंतिम मूल्य में शुद्ध प्रतिशत परिवर्तन ज्ञात कीजिए।

- Ans
- 1. 12% की कमी
  - 2. 9% की कमी
  - 3. 12% की वृद्धि
  - 4. 9% की वृद्धि

Question ID : 26433079769

Status : Answered

Chosen Option : 2

Q.14 वह सबसे बड़ी संख्या क्या है जिससे क्रमशः 73 और 98 को विभाजित करने पर 4 और 6 शेष बचता है?

- Ans
- 1. 23
  - 2. 13
  - 3. 1
  - 4. 46

Question ID : 26433075044

Status : Answered

Chosen Option : 1

Q.15 नीचे Rs.2 में 3 की दर से खरीदे जाते हैं और Rs.3 में 2 की दर से बेचे जाते हैं। लाभ प्रतिशत ज्ञात कीजिए।

- Ans
- 1. 115%
  - 2. 128%
  - 3. 120%
  - 4. 125%

Question ID : 26433075148

Status : Answered

Chosen Option : 4

Q.16 एक तेज़ ट्रेन 192 किमी की यात्रा के लिए, धीमी ट्रेन से 2 घंटे कम समय लेती है। यदि धीमी ट्रेन की चाल, तेज ट्रेन की चाल से 16 किमी/घंटा कम है, तो क्रमशः धीमी और तेज ट्रेनों की चाल ज्ञात करें।

- Ans
- 1. 48 किमी/घंटा, 64 किमी/घंटा
  - 2. 32 किमी/घंटा, 48 किमी/घंटा
  - 3. 28 किमी/घंटा, 34 किमी/घंटा
  - 4. 30 किमी/घंटा, 40 किमी/घंटा

Question ID : 26433075394

Status : Answered

Chosen Option : 1

Q.17 एक कस्बे की जनसंख्या में सालाना 20% की वृद्धि होती है। यदि 4 वर्ष पहले जनसंख्या 62,500 थी, तो वर्तमान जनसंख्या कितनी है?

- Ans
- 1. 1,29,900
  - 2. 1,29,800
  - 3. 1,29,600
  - 4. 1,29,700

Question ID : 26433082981

Status : Answered

Chosen Option : 3

Q.18 5 पुरुष एक काम को 2 दिनों में पूरा कर सकते हैं, 4 महिलाएं उसे 3 दिनों में कर सकती हैं और 5 बच्चे उसे 3 दिनों में पूरा कर सकते हैं। 1 पुरुष, 1 महिला और 1 बच्चा तीनों मिलकर उसी काम को कितने दिनों में पूरा करेंगे?

- Ans
- 1. 6 दिन
  - 2. 4 दिन
  - 3. 8 दिन
  - 4. 10 दिन

Question ID : 26433076048

Status : Not Answered

Chosen Option : --

Q.19 7 cm त्रिज्या और 25 cm तिर्यक ऊंचाई वाले एक शंकु के आयतन की गणना करें।  $\pi = \frac{22}{7}$  लें

- Ans
- 1. 1,223 cm<sup>3</sup>
  - 2. 1,322 cm<sup>3</sup>
  - 3. 1,323 cm<sup>3</sup>
  - 4. 1,232 cm<sup>3</sup>

Question ID : 26433076252

Status : Answered

Chosen Option : 4

Q.20 13 घंटे की यात्रा के लिए कार की औसत चाल (किमी/घंटा में) क्या होगी, यदि यह पहले 3 घंटे के लिए 50 किमी/घंटा, अगले 4 घंटे के लिए 60 किमी/घंटा और अंतिम 6 घंटे के लिए 65 किमी/घंटा से चलती है?

- Ans
- 1. 65
  - 2. 65.5
  - 3. 62.5
  - 4. 60

Question ID : 26433075906

Status : Answered

Chosen Option : 4

Section : Part-D-English

Q.1 Parts of the following sentence have been given as options. Select the option that contains an error.

The instructions on the bottle say – open the packet and poured the contents into hot water.

- Ans
- 1. say – open the packet and
  - 2. The instructions on the bottle
  - 3. into hot water
  - 4. poured the contents

Question ID : 26433088470

Status : Not Answered

Chosen Option : --



Q.2 Select the most appropriate ANTONYM of the word given in the brackets to fill in the blank.

Don't try to walk \_\_\_\_\_ (after) you can crawl.

- Ans
- 1. already
  - 2. before
  - 3. later
  - 4. soon

Question ID : 26433088852

Status : Not Answered

Chosen Option : --

Q.3 Select the most appropriate option that can substitute the underlined segment in the given sentence. If there is no need to substitute it, select 'No substitution required'.

Rosie became an expert in the field of painting by her.

- Ans
- 1. No substitution required
  - 2. paint by himself
  - 3. painted by herself
  - 4. painting by herself

Q.4 Select the most appropriate synonym of the given word.

Cheerless

- Ans
- 1. Bright
  - 2. Clear
  - 3. Strong
  - 4. Gloomy

Question ID : 26433074043

Status : Not Answered

Chosen Option : --

Q.5 Select the INCORRECTLY spelt word.

- Ans
- 1. Demolish
  - 2. Discersive
  - 3. Discard
  - 4. Jeopardy

Question ID : 26433073654

Status : Not Answered

Chosen Option : --

Q.6 Select the most appropriate meaning of the given idiom.

At the drop of a hat

- Ans  1. Do something immediately without hesitation  
 2. Extremely pleased about something  
 3. Force someone to behave in a disciplined manner  
 4. Refuse to do something

Question ID : 26433072685  
Status : Not Answered  
Chosen Option : --

Q.7 Select the most appropriate meaning of the highlighted idiom in the given sentence.

The marriage of my elder brother has been on the cards for some time now.

- Ans  1. Probable  
 2. Stuck  
 3. Improbable  
 4. Certain

Question ID : 264330108897  
Status : Not Answered  
Chosen Option : --

Q.8 Select the most appropriate synonym of the underlined word in the given sentence.

In his moment of despair, I am with him.

- Ans  1. contentment  
 2. misery  
 3. beliefs  
 4. hope

Question ID : 26433092105  
Status : Not Answered  
Chosen Option : --

Q.9 The sentence given below has one misspelt word. Spot the INCORRECTLY spelt word and select its correct spelling.

A unanimos consent of all the shareholders was required to approve the merger.

- Ans  1. Anenimous  
 2. Unanemous  
 3. Unanimous  
 4. Ananimous

Question ID : 26433073561  
Status : Not Answered  
Chosen Option : --

Q.10 Select the most appropriate option to fill in the blanks in the given sentence.

I \_\_\_\_\_ the gift of my aunt and she \_\_\_\_\_ money from my father.

- Ans
- 1. accepted; expected
  - 2. excepted; expected
  - 3. accepted; excepted
  - 4. excepted; accepted

Question ID : 26433084773  
Status : Not Answered  
Chosen Option : --

Q.11 Select the most appropriate option that can substitute the underlined segment in the given sentence. If there is no need to substitute it, select 'No substitution'.

You should take your car in for a service because it has starting to make weird noises.

- Ans
- 1. No substitution
  - 2. because it's starting to make weird noises
  - 3. because it had starting to make weird noises
  - 4. because it has start to make weird noises

Question ID : 264330101021  
Status : Not Answered  
Chosen Option : --

Q.12 Select the most appropriate synonym of the word 'liberate' from the following sentence.

There is a famous saying by Rousseau which says that man is born free but he is surrounded by the clutches of slavery in society.

- Ans
- 1. Surrounded
  - 2. Slavery
  - 3. Clutches
  - 4. Free

Question ID : 26433072264  
Status : Not Answered  
Chosen Option : --

Q.13 Select the most appropriate option to fill in the blank.

There is only one thing that \_\_\_\_\_ with us that cannot be taken away: to act with courage and dignity and to stick to the ideals that have given meaning to life.

- Ans
- 1. remains
  - 2. have remained
  - 3. remaining
  - 4. remained

Question ID : 26433092114  
Status : Not Answered  
Chosen Option : --

Q.14 Select the word that is OPPOSITE in meaning to the given word.

**Benevolent**

- Ans  1. Unsparing  
 2. Malevolent  
 3. Benign  
 4. Magnanimous

Question ID : 26433074427  
Status : Not Answered  
Chosen Option : --

Q.15 Select the most appropriate ANTONYM of the given word.

**Courtesy**

- Ans  1. Decline  
 2. Generosity  
 3. Crudeness  
 4. Modulate

Question ID : 26433090792  
Status : Not Answered  
Chosen Option : --

**Comprehension:**

In the following passage, some words have been deleted. Read the passage carefully and select the most appropriate option to fill in each blank.

The effect (1)\_\_\_\_\_ on the mind by travelling depends entirely on the mind of the traveller and on the way in which he conducts himself. The chief idea of one very common type of traveller is to see as many objects of (2)\_\_\_\_\_ as he possibly can. If he can only after his return home say that he has seen such and such a temple, castle, picture gallery, or museum, he is perfectly (3)\_\_\_\_\_. Therefore, when he arrives at a famous city, he (4)\_\_\_\_\_ it, so that he may get over as quickly as possible the task of seeing its principal sights, entered them by name in his notebook as visited or, in his own phraseology 'done', then hurry on to another city which he treats in the same (5)\_\_\_\_\_ way.

**SubQuestion No : 16**

Q.16 Select the most appropriate option to fill in blank number 1.

- Ans  1. appeared  
 2. produced  
 3. created  
 4. ingrained

Question ID : 26433089094  
Status : Not Answered  
Chosen Option : --

### Comprehension:

In the following passage, some words have been deleted. Read the passage carefully and select the most appropriate option to fill in each blank.

The effect (1)\_\_\_\_\_ on the mind by travelling depends entirely on the mind of the traveller and on the way in which he conducts himself. The chief idea of one very common type of traveller is to see as many objects of (2)\_\_\_\_\_ as he possibly can. If he can only after his return home say that he has seen such and such a temple, castle, picture gallery, or museum, he is perfectly (3)\_\_\_\_\_. Therefore, when he arrives at a famous city, he (4)\_\_\_\_\_ it, so that he may get over as quickly as possible the task of seeing its principal sights, entered them by name in his notebook as visited or, in his own phraseology 'done', then hurry on to another city which he treats in the same (5)\_\_\_\_\_ way.

#### SubQuestion No : 17

Q.17 Select the most appropriate option to fill in blank number 2.

- Ans
- 1. variety
  - 2. desire
  - 3. rarity
  - 4. interest

Question ID : 26433089095

Status : Not Answered

Chosen Option : --

### Comprehension:

In the following passage, some words have been deleted. Read the passage carefully and select the most appropriate option to fill in each blank.

The effect (1)\_\_\_\_\_ on the mind by travelling depends entirely on the mind of the traveller and on the way in which he conducts himself. The chief idea of one very common type of traveller is to see as many objects of (2)\_\_\_\_\_ as he possibly can. If he can only after his return home say that he has seen such and such a temple, castle, picture gallery, or museum, he is perfectly (3)\_\_\_\_\_. Therefore, when he arrives at a famous city, he (4)\_\_\_\_\_ it, so that he may get over as quickly as possible the task of seeing its principal sights, entered them by name in his notebook as visited or, in his own phraseology 'done', then hurry on to another city which he treats in the same (5)\_\_\_\_\_ way.

#### SubQuestion No : 18

Q.18 Select the most appropriate option to fill in blank number 3.

- Ans
- 1. happy
  - 2. enjoyed
  - 3. satisfied
  - 4. amused

Question ID : 26433089096

Status : Not Answered

Chosen Option : --

### Comprehension:

In the following passage, some words have been deleted. Read the passage carefully and select the most appropriate option to fill in each blank.

The effect (1)\_\_\_\_\_ on the mind by travelling depends entirely on the mind of the traveller and on the way in which he conducts himself. The chief idea of one very common type of traveller is to see as many objects of (2)\_\_\_\_\_ as he possibly can. If he can only after his return home say that he has seen such and such a temple, castle, picture gallery, or museum, he is perfectly (3)\_\_\_\_\_. Therefore, when he arrives at a famous city, he (4)\_\_\_\_\_ it, so that he may get over as quickly as possible the task of seeing its principal sights, entered them by name in his notebook as visited or, in his own phraseology 'done', then hurry on to another city which he treats in the same (5)\_\_\_\_\_ way.

#### SubQuestion No : 19

Q.19 Select the most appropriate option to fill in blank number 4.

- Ans
- 1. comes across
  - 2. browses through
  - 3. visits
  - 4. rushes through

Question ID : 26433089097

Status : Not Answered

Chosen Option : --

### Comprehension:

In the following passage, some words have been deleted. Read the passage carefully and select the most appropriate option to fill in each blank.

The effect (1)\_\_\_\_\_ on the mind by travelling depends entirely on the mind of the traveller and on the way in which he conducts himself. The chief idea of one very common type of traveller is to see as many objects of (2)\_\_\_\_\_ as he possibly can. If he can only after his return home say that he has seen such and such a temple, castle, picture gallery, or museum, he is perfectly (3)\_\_\_\_\_. Therefore, when he arrives at a famous city, he (4)\_\_\_\_\_ it, so that he may get over as quickly as possible the task of seeing its principal sights, entered them by name in his notebook as visited or, in his own phraseology 'done', then hurry on to another city which he treats in the same (5)\_\_\_\_\_ way.

#### SubQuestion No : 20

Q.20 Select the most appropriate option to fill in blank number 5.

- Ans
- 1. lack lustre
  - 2. nonchalant
  - 3. unceremonious
  - 4. disinterest

Question ID : 26433089098

Status : Not Answered

Chosen Option : --

Q.1 निम्न में से किस शब्द में वर्तनी की अशुद्धि है?

- Ans
- 1. सोडषी
  - 2. व्यावहारिक
  - 3. दृष्टि
  - 4. आकृष्ट

Question ID : 26433067110

Status : Answered

Chosen Option : 2

Q.2 'जिस पर किसी का नियंत्रण न हो' इस वाक्यांश के लिए सार्थक शब्द है -

- Ans
- 1. निःस्पृह
  - 2. निरंकुश
  - 3. निरामिष
  - 4. नियंत्रित

Question ID : 26433062338

Status : Answered

Chosen Option : 3

Q.3 वाक्य में रेखांकित शब्द को दिए गए शब्दों में से उचित शब्द से बदलें।  
विषयों में अनुराग होने से सर्वनाश होता है।

- Ans
- 1. प्रेम
  - 2. मैत्री
  - 3. आसक्ति
  - 4. स्नेह

Question ID : 26433062876

Status : Answered

Chosen Option : 3

Q.4 जो देने योग्य हो।

दिए गए वाक्यांश के लिए एक शब्द होगा-

- Ans
- 1. निर्दय
  - 2. देय
  - 3. अदेय
  - 4. प्रदाता

Question ID : 26433070055

Status : Answered

Chosen Option : 2

Q.5 'घर बसाना' मुहावरे का उचित अर्थ है-

- Ans
- 1. घर के अंदर जाना
  - 2. विवाह करना
  - 3. नया घर बनाना
  - 4. घर में ही रहना

Question ID : 26433065882

Status : Answered

Chosen Option : 2

Q.6 रेखांकित अंश के स्थान पर सबसे उपयुक्त विकल्प दिए गए विकल्पों में से कौन-सा है?

तलवार एक उपयोगी अस्त्र है।

- Ans
- 1. शस्त्र
  - 2. निरस्त्र
  - 3. वस्त्र
  - 4. द्रव्य

Question ID : 26433066874

Status : Answered

Chosen Option : 1

Q.7 नुक्ता बीनी करना। रेखांकित शब्द के स्थान पर मुहावरा होगा-

- Ans
- 1. ऋणी
  - 2. चीनी
  - 3. पीनी
  - 4. मिनी

Question ID : 26433062818

Status : Answered

Chosen Option : 1

Q.8 'जातीय' शब्द का विलोम क्या होगा?

- Ans
- 1. प्रजातीय
  - 2. अनजातीय
  - 3. विजातीय
  - 4. कुजातीय

Question ID : 26433067094

Status : Answered

Chosen Option : 3



Q.9 दिए गए वाक्य के रेखांकित शब्द को उचित विकल्प से परिवर्तित करें।

अभी तक हिंदी के अनेक शब्दों की वर्तनी व्यवस्थित नहीं है।

- Ans
- 1. शाश्वत
  - 2. स्थित
  - 3. स्थिर
  - 4. सुगठित

Question ID : 26433069916

Status : Answered

Chosen Option : 4

Q.10 निम्नलिखित में से कौन-सी, अकर्मक क्रिया नहीं है?

- Ans
- 1. उगना
  - 2. उड़ना
  - 3. खाता
  - 4. जागना

Question ID : 26433085038

Status : Answered

Chosen Option : 3

Q.11 निम्नलिखित विकल्पों में से कौन-से वाक्य में संख्यावाचक विशेषण का उचित प्रयोग नहीं किया गया है?

- Ans
- 1. शुभम का दिमाग दस गुना तेज चलता है।
  - 2. पाँचवें दिन तक पानी का बरसना जारी रहा।
  - 3. वहीदा बड़ी शैतान लड़की है।
  - 4. भारत का हर दूसरा आदमी बुद्धिमान है।

Question ID : 26433062969

Status : Answered

Chosen Option : 3

Q.12 निम्न समानार्थी शब्दों में से उचित शब्द का प्रयोग करके दिए गए वाक्य के रिक्त स्थान की पूर्ति करें।  
कैदियों ने अपनी माँगें पूरी न होने पर जेल में \_\_\_\_\_ करने की धमकी दी है।

- Ans
- 1. फाका
  - 2. व्रत
  - 3. अनशन
  - 4. उपवास

Question ID : 26433062933

Status : Answered

Chosen Option : 3

Q.13 निम्नलिखित में से शुद्ध वाक्य है-

- Ans
- 1. गोपियां कृष्ण की राह में आंखें बिछाए बैठी थीं।
  - 2. गोपियों किसन की राह में आंखें बिछाए बैठी थीं।
  - 3. गोपियां कृष्ण की राह में आंखें बिठाकर बैठी थीं।
  - 4. गोपियां कृष्ण की राह में आंखें बिछाए बैठी थीं।

Question ID : 26433066846

Status : Answered

Chosen Option : 4

Q.14 सिंह को देखकर मोनू के होश उड़ गए।

रेखांकित शब्द के उचित पर्यायवाची शब्द का चयन कीजिए।

- Ans
- 1. व्याघ्र
  - 2. वासव
  - 3. धनद
  - 4. दैत्य

Question ID : 26433079726

Status : Answered

Chosen Option : 1

Q.15 'असुर' का पर्यायवाची शब्द है-

- Ans
- 1. मनुज
  - 2. अनुज
  - 3. दनुज
  - 4. कृशानु

Question ID : 26433062913

Status : Answered

Chosen Option : 1

**Comprehension:**

निम्नलिखित गद्यांश में से कुछ शब्द हटा दिए गए हैं। दिए गए विकल्पों की सहायता से रिक्त स्थानों की पूर्ति कीजिए। प्रत्येक संख्या के लिए उपयुक्त विकल्प का चयन कीजिए।

मेरा विचार है 1. \_\_\_\_\_ एक ही खुराक 2. \_\_\_\_\_ के बाद तबीयत ठीक 3. \_\_\_\_\_ जाएगी। कभी-कभी हवा रुक 4. \_\_\_\_\_ है और फंदा डाल लेती है। बस 5. \_\_\_\_\_ की ऐंठन है।

SubQuestion No : 16

Q.16 रिक्त स्थान 1 की पूर्ति के लिए सर्वाधिक उपयुक्त विकल्प का चयन कीजिए।

- Ans
- 1. की
  - 2. के
  - 3. कि
  - 4. का

Question ID : 26433069756

Status : Answered

Chosen Option : 3

**Comprehension:**

निम्नलिखित गद्यांश में से कुछ शब्द हटा दिए गए हैं। दिए गए विकल्पों की सहायता से रिक्त स्थानों की पूर्ति कीजिए। प्रत्येक संख्या के लिए उपयुक्त विकल्प का चयन कीजिए।

मेरा विचार है 1. \_\_\_\_\_ एक ही खुराक 2. \_\_\_\_\_ के बाद तबीयत ठीक 3. \_\_\_\_\_ जाएगी। कभी-कभी हवा रुक 4. \_\_\_\_\_ है और फंदा डाल लेती है। बस 5. \_\_\_\_\_ की ऐंठन है।

**SubQuestion No : 17**

Q.17 रिक्त स्थान 2 की पूर्ति के लिए सर्वाधिक उपयुक्त विकल्प का चयन कीजिए।

- Ans
- 1. पीया
  - 2. पीना
  - 3. पीने
  - 4. पीनी

Question ID : 26433069757

Status : Answered

Chosen Option : 3

**Comprehension:**

निम्नलिखित गद्यांश में से कुछ शब्द हटा दिए गए हैं। दिए गए विकल्पों की सहायता से रिक्त स्थानों की पूर्ति कीजिए। प्रत्येक संख्या के लिए उपयुक्त विकल्प का चयन कीजिए।

मेरा विचार है 1. \_\_\_\_\_ एक ही खुराक 2. \_\_\_\_\_ के बाद तबीयत ठीक 3. \_\_\_\_\_ जाएगी। कभी-कभी हवा रुक 4. \_\_\_\_\_ है और फंदा डाल लेती है। बस 5. \_\_\_\_\_ की ऐंठन है।

**SubQuestion No : 18**

Q.18 रिक्त स्थान 3 की पूर्ति के लिए सर्वाधिक उपयुक्त विकल्प का चयन कीजिए।

- Ans
- 1. होनी
  - 2. हो
  - 3. ही
  - 4. होगी

Question ID : 26433069758

Status : Answered

Chosen Option : 2

**Comprehension:**

निम्नलिखित गद्यांश में से कुछ शब्द हटा दिए गए हैं। दिए गए विकल्पों की सहायता से रिक्त स्थानों की पूर्ति कीजिए। प्रत्येक संख्या के लिए उपयुक्त विकल्प का चयन कीजिए।

मेरा विचार है 1. \_\_\_\_\_ एक ही खुराक 2. \_\_\_\_\_ के बाद तबीयत ठीक 3. \_\_\_\_\_ जाएगी। कभी-कभी हवा रुक 4. \_\_\_\_\_ है और फंदा डाल लेती है। बस 5. \_\_\_\_\_ की ऐंठन है।

**SubQuestion No : 19**

Q.19 रिक्त स्थान 4 की पूर्ति के लिए सर्वाधिक उपयुक्त विकल्प का चयन कीजिए।

- Ans
- 1. जाता
  - 2. जाते
  - 3. जाती
  - 4. जानी

Question ID : 26433069759

Status : Answered

Chosen Option : 3

**Comprehension:**

निम्नलिखित गद्यांश में से कुछ शब्द हटा दिए गए हैं। दिए गए विकल्पों की सहायता से रिक्त स्थानों की पूर्ति कीजिए। प्रत्येक संख्या के लिए उपयुक्त विकल्प का चयन कीजिए।

मेरा विचार है 1. \_\_\_\_\_ एक ही खुराक 2. \_\_\_\_\_ के बाद तबीयत ठीक 3. \_\_\_\_\_ जाएगी। कभी-कभी हवा रुक 4. \_\_\_\_\_ है और फंदा डाल लेती है। बस 5. \_\_\_\_\_ की ऐंठन है।

**SubQuestion No : 20**

Q.20 रिक्त स्थान 5 की पूर्ति के लिए सर्वाधिक उपयुक्त विकल्प का चयन कीजिए।

- Ans  1. उसी  
 2. उनके  
 3. उसकी  
 4. उसके

Question ID : 26433069760

Status : Answered

Chosen Option : 1

www.exammix.com