

- 1 फ्रांस में "निर्वाह संकट" के निम्नवत परिणाम थे। 1
(अ) खराब फसल से अनाज की कमी हो जाती है
(ब) खाद्य कीमतें बढ़ जाती हैं और सबसे गरीब लोग रोटी नहीं खरीद सकते
(स) कमजोर शरीर, बीमारियों, मौतों और यहां तक कि भोजन संबंधी दंगों का कारण बनता है
(द) उपरोक्त सभी

The "crisis of subsistence" in France had the following consequences

- (A) Bad harvest leads to scarcity of grains
(B) Food prices rise and the poorest cannot buy bread
(C) Leads to weaker bodies, diseases, deaths and even food riots
(D) All of the above
- 2 नीचे दिए गए प्रश्न में, कथन (A) और कारण (R) के रूप में चिह्नित दो कथन हैं। कथन को पढ़ें और सही विकल्प चुनें। 1
कथन (A): फ्रांस के लोगों ने बास्तील के किले को ध्वस्त कर दिया।
कारण (R): लोगों को बास्तील किले में राजा लुई XVI एवं कमांडर के होने की संभावना थी।
(अ) A और R दोनों सत्य हैं और R, A की सही व्याख्या है।
(ब) A और R दोनों सत्य हैं लेकिन R, A की सही व्याख्या नहीं है।
(स) A सत्य है लेकिन R गलत है।
(द) A गलत है लेकिन R सत्य है।

In the question given below, there are two statements marked as Assertion (A) and Reason (R). Read the statements and chose the correct option:

Assertion (A): The people of France stormed the fort of the Bastille.

Reason (R): They were hopeful to find King Louis XVI and commander of the Bastille there.

- (A) Both A and R are true and R is the correct explanation of A.
(B) Both A and R are true but R is not the correct explanation of A.
(C) A is correct but R is wrong.
(D) A is wrong but R is correct.
- 3 इनमें से किस मांग को लेनिन की "अप्रैल थीसिस" कहा जाता है? 1
(अ) प्रथम विश्व युद्ध समाप्त होना चाहिए
(ब) भूमि किसानों को हस्तांतरित की जानी चाहिए
(स) बैंकों का राष्ट्रीयकरण किया जाना चाहिए
(द) उपरोक्त सभी

Which of these demands is/are referred to as "Lenin April Thesis"?

- (A) World war I should end.
(B) Land should be transferred to the peasant.
(C) Banks should be nationalised
(D) All of the Above
- 4 सेंट पीटर्सबर्ग में हड़ताल पर गए कर्मचारियों की क्या मांगें थी? 1
(अ) काम के समय को घटाकर आठ घंटे करना।
(ब) मजदूरी में वृद्धि
(स) कामकाजी परिस्थितियों में सुधार
(द) उपरोक्त सभी

What were the demands made by the worker in St. Petersburg who went on strike?

- (A) Reduction of working time to eight hours.

- (B) Increase in wages
(C) Improvement in working conditions
(D) All of the above
- 5 हिटलर की विदेश नीति का मुख्य उद्देश्य क्या था, जिसके कारण द्वितीय विश्व युद्ध छिड़ गया? 1
(अ) समाजवाद का विस्तार (ब) यूरोपीय संघ का निर्माण
(स) विश्व शांति का प्रयास (द) जर्मन क्षेत्र का विस्तार
What was the main aim of Hitler's foreign policy, which led to the outbreak of World War II?
(A) Expansion of socialism (B) Creation of a European Union
(C) Pursuit of world peace (D) Expansion of German territory
- 6 मेरे मित्र एक उस देश का निवासी है जिस देश की सीमा भारत के साथ नहीं लगती है, आप बताएं कि वह किस देश का निवासी है? 1
(अ) भूटान (ब) ताजिकिस्तान
(स) बांग्लादेश (द) नेपाल
My friend hails from a country which does not share land boundary with India. Identify the country.
(A) Bhutan (B) Tajikistan
(C) Bangladesh (D) Nepal
- 7 ब्रह्मपुत्र नदी में, दुनिया का सबसे बड़ा आबाद नदी द्वीप है? 1
(अ) नर्मदा (ब) कृष्णा
(स) गोदावरी (द) माजुली
In the Brahmaputra river, is the largest inhabited riverine island in the world.
(A) Narmada (B) Krishna
(C) Godavari (D) Majuli
- 8 निम्नलिखित में से कौन सी प्रायद्वीपीय भारत की सबसे लंबी नदी है? 1
(अ) नर्मदा (ब) कृष्णा
(स) गोदावरी (द) महानदी
Which one of the following is the longest river of the Peninsular India?
(A) Narmada (B) Krishna
(C) Godavari (D) Mahanadi
- 9 संविधान के निर्माण में उनकी भूमिकाओं के साथ निम्नलिखित नेताओं का मिलान करें 1
अ- मोतीलाल नेहरू 1- संविधान सभा के अध्यक्ष थे
ब- भी. राव. अम्बेडकर 2- संविधान सभा के सदस्य
स- राजेंद्र प्रसाद 3- प्रारूप समिति के अध्यक्ष
द- सरोजिनी नायडू 4- 1928 में भारत के लिए एक संविधान का निर्माण
(अ) अ-4, ब-3, स-1, द-2 (ब) अ-4, ब-2, स-1, द-3
(स) अ-3, ब-2, स-1, द-4 (द) अ-4, ब-1, स-2, द-3
Match the following leaders with their roles in the making of the Constitution:
a Motilal Nehru i President of the Constituent Assembly
b B.R. Ambedkar ii Member of the Constituent Assembly
c Rajendra Prasad iii Chairman of the Drafting Committee
d Sarojini Naidu iv Prepared a Constitution for India in 1928
(A) a-iv, b-iii, c-i, d-iii (B) a-iv, b-ii, c-i, d-iii
(C) a-iii, b-ii, c-i, d-iv (D) a-iv, b-i, c-ii, d-iii

- 10 इनमें से कौन सा ऐसा प्रावधान है जो एक लोकतांत्रिक संविधान में नहीं है? 1
 (अ)राज्य के मुखिया की शक्तियाँ (ब)राज्य के मुखिया का नाम
 (स)विधायिका की शक्तियाँ (द)देश का नाम
Which of these is a provision that a democratic constitution does not have?
 (A)Powers of the head of the state (B)Name of the head of the state
 (C)Powers of the legislature (D)Name of the country
- 11 दक्षिण अफ्रीका में लोकतांत्रिक संविधान के निर्माण में सबसे प्रमुख अंतर्निहित संघर्ष इनमें से कौन सा था? 1
 (अ)दक्षिण अफ्रीका और उसके पड़ोसियों के बीच
 (ब)पुरुषों और महिलाओं के बीच
 (स)श्वेत बहुमत और अश्वेत अल्पसंख्यक के बीच
 (द)श्वेत अल्पसंख्यक और काले बहुमत के बीच
Which of these was the most salient underlying conflict in the making of a democratic constitution in South Africa?
 (A)Between South Africa and its neighbours
 (B)Between men and women
 (C)Between the white majority and the black minority
 (D)Between the white minority and the black majority
- 12 यदि आप भारत के राष्ट्रपति के रूप में चुने जाते हैं तो निम्नलिखित में से कौन सा निर्णय आप स्वयं ले सकते हैं? 1
 (अ)उस व्यक्ति का चयन करें जिसे आप प्रधान मंत्री के रूप में पसंद करते हैं
 (ब)उस प्रधान मंत्री को बर्खास्त करें जिसके पास लोकसभा में बहुमत है
 (स)दोनों सदनों द्वारा पारित विधेयक पर पुनर्विचार के लिए कहना
 (द)अपनी पसंद के नेताओं को मंत्रिपरिषद में नामांकित करें
If you are elected as the President of India which of the following decision can you take on your own?
 (A)Select the person you like as Prime Minister.
 (B)Dismiss a Prime Minister who has a majority in Lok Sabha.
 (C)Ask for reconsideration of a bill passed by both the Houses.
 (D)Nominate the leaders of your choice to the Council of Ministers.
- 13 निम्नलिखित में से कौन सी स्वतंत्रता भारतीय नागरिक को उपलब्ध नहीं है? 1
 (अ)सरकार की आलोचना करने की आज़ादी
 (ब)सशस्त्र क्रांति में भाग लेने की स्वतंत्रता
 (स)सरकार बदलने के लिए आंदोलन शुरू करने की स्वतंत्रता
 (द)सरकार के केंद्रीय मूल्यों का विरोध करने की स्वतंत्रता
Which of the following freedoms is not available to an Indian citizen?
 (A)Freedom to criticise the government
 (B)Freedom to participate in armed revolution
 (C)Freedom to start a movement to change the government
 (D)Freedom to oppose the central values of the government
- 14 निम्नलिखित में से कौन सा अधिकार भारतीय संविधान के मौलिक अधिकार के अंतर्गत उपलब्ध है? 1
 (अ)काम करने का अधिकार (ब)पर्याप्त आजीविका का अधिकार
 (स)सांस्कृतिक और शैक्षिक अधिकार (द)निजता का अधिकार
Which of the following rights is available as fundamental right under the Indian Constitution?

- (A)Right to work (B)Right to adequate livelihood
(C)Cultural and Educational Rights D)Right to privacy
- 15 आप किस पूंजी को सर्वोत्तम मानेंगे - 1
(अ)भूमि (ब)श्रम
(स)भौतिक पूंजी (द)मानव पूंजी
Which capital would you consider the best —
(A)Land (B)Labour,
(C)Physical capital (D)Human capital
- 16 गरीबों में सबसे गरीब कौन हैं? 1
(अ) जमींदार, मंत्री और पार्टियां
(ब) महिलाएं, बूढ़े और बच्चे
(स)भूमिहीन, दैनिक श्रमिक और बेघर
(द)इनमें से कोई नहीं
Who are the poorest of the poor?
(A) Landlord, ministers and parties
(B) Women, old people and children
(C)Landless, daily wage workers and homeless
(D)None of these
- 17 नीचे दिए गए प्रश्न में, कथन (A) और कारण (R) के रूप में चिह्नित दो कथन हैं। बयानों को पढ़ें और सही विकल्प चुनें 1
कथन (A): भारत में लोग सामाजिक दायित्वों और धार्मिक अनुष्ठानों के आयोजन में बहुत पैसा खर्च करते हैं।
कारण (R): लोगों के ऊपर सामाजिक-सांस्कृतिक दबाव होता है।
(अ) A और R दोनों सत्य हैं और R, A की सही व्याख्या है।
(ब) A और R दोनों सत्य हैं लेकिन R, A की सही व्याख्या नहीं है।
(स)A सत्य है लेकिन R गलत है।
(द)A गलत है लेकिन R सत्य है।
There are two statements marked as Assertion (A) and Reason (R). Read the statements and choose the correct option:
Assertion (A): An average Indian has to spend huge amount on marriage and other rituals
Reason (R): There is socio-cultural pressure.
(A) Both A and R are true and R is the correct explanation of A.
(B) Both A and R are true but R is not the correct explanation of A.
(C) A is correct but R is wrong.
(D) A is wrong but R is correct.
- 18 निर्धनता के ऐतिहासिक कारण की पहचान कीजिए 1
(अ)स्थानीय अर्थव्यवस्था के प्रतिकूल ब्रिटिश सरकार की नीतियाँ
(ब)भूमि संसाधनों की कमी
(स)निर्धनों की शिक्षा का निम्न स्तर
(द)अत्यधिक ऋणग्रस्तता
Identify the historical reason for poverty
(A)British policies not in favour of the local economy
(B) Lack of land resources
(C)Low level of education of the poor
(D)High level of indebtedness

- 19 सार्वजनिक वितरण प्रणाली द्वारा वितरित भोजन _____ के माध्यम से खरीदा जाता है। 1
 (अ) भारतीय खाद्य निगम
 (ब) कृषि मंत्रालय
 (स) स्वास्थ्य और परिवार मामलों का मंत्रालय
 (द) खाद्य नियंत्रण विभाग

The food distributed by the Public Distribution System is procured through --
 ---.

- (A) Food Corporation of India (B) Ministry of Agriculture
 (C) Ministry of Health and Family Affairs (D) Department of Food Control

- 20 हरित क्रांति के संबंध में निम्नलिखित में से कौन सा कथन सत्य है? 1
 (अ) हरित क्रांति के बाद देश अकाल से बचा है
 (ब) हरित क्रांति ने देश में अकाल की स्थिति को और खराब कर दिया है
 (स) हरित क्रांति भारत में अकाल से निपटने में विफल रही
 (द) हरित क्रांति ने भारत में अकाल की घटनाओं को बढ़ा दिया

Which of the following statements is true regarding the Green Revolution?

- (A) The country has avoided famines after the Green Revolution
 (B) The Green Revolution has worsened the famine situation in the country
 (C) The Green Revolution failed to deal with famines in India
 (D) The Green Revolution increased the occurrence of famines in India

खंड-ख/Section B अति लघु उत्तरीय प्रश्न/VERY SHORT ANSWER QUESTION

(2x4=8)

- 21 नात्सी सोच की विशिष्ट विशेषताएँ क्या हैं? 2
 What are the peculiar features of Nazi thinking?
 22 कन्याकुमारी में दिन और रात की अवधि के बीच अंतर क्यों मुश्किल से महसूस होता है कश्मीर में ऐसा क्यों नहीं है? 2

Why is the difference between the durations of day and night hardly felt at Kanyakumari but not so in Kashmir?

Or/अथवा

82°30'E को भारत की मानक मध्याह्न रेखा के रूप में क्यों चुना गया है?

Why 82°30'E has been selected as the Standard Meridian of India?

- 23 क्या अभिव्यक्ति की आज़ादी उन लोगों को भी मिलनी चाहिए जो गलत और संकीर्ण सोच फैला रहे हैं? क्या उन्हें जनता को भ्रमित करने की इजाजत दी जानी चाहिए? 2
 Should the freedom of expression be extended to those who are spreading wrong and narrowminded ideas? Should they be allowed to confuse the public?

- 24 मानव पूंजी निर्माण में शिक्षा की क्या भूमिका है? 2
 What is the role of education in human capital formation?

खंड-ग/Section C - लघु उत्तरीय प्रश्न/SHORT ANSWER-BASED QUESTIONS (3x5-

15)

- 2 1917 से पहले रूस में कामकाजी आबादी यूरोप के अन्य देशों से किस तरह अलग थी? 3
 5 In what ways was the working population in Russia different from other countries in Europe, before 1917?

Or

1917 में जारशाही की निरंकुशता का पतन क्यों हो गया?

Why did the Tsarist autocracy collapse in 1917?

- 2 अंतर लिखे 3
 6 **Distinguish between**
 भांगर और खादर
Bhangar and Khadar

Or/अथवा

पश्चिमी घाट और पूर्वी घाट
Western Ghats and Eastern Ghats

- 2 निम्नलिखित संदर्भों में एक कारण देकर बताये कि भारतीय न्यायपालिका किस तरह स्वतन्त्र 3
 7 है?(किसी एक पर)
 अ-न्यायाधीशों की नियुक्ति
 ब-जजों को हटाना
 स-न्यायपालिका की शक्तियाँ

Give one reason each to argue that Indian judiciary is independent with respect to:

A-Appointment of judges

B-Removal of judges

C-Powers of the judiciary

- 2 3
 8

Table 3.1: Estimates of Poverty in India (Tendulkar Methodology)

Year	Poverty ratio (%)			Number of poor (in millions)		
	Rural	Urban	Total	Rural	Urban	Combined
1993-94	50	32	45	329	75	404
2004-05	42	26	37	326	81	407
2009-10	34	21	30	278	76	355
2011-12	26	14	22	217	53	270

Source: India in figures, 2018, Government of India Central Statistics office.
 niti.gov.in/statistics (accessed on Nov. 15, 2021)

तालिका 3.1 का अध्ययन करें और निम्नलिखित प्रश्नों के उत्तर दें:

28-अ-1993-94 और 2004-05 के मध्य में निर्धनता अनुपात में गिरावट आने के बावजूद निर्धनों की संख्या लगभग 407 के लगभग क्यों बनी रही (2)

28-ब-क्या ग्रामीण और शहरी भारत में गरीबी में कमी की गतिशीलता समान है? (1)

Study Table 3.1 and answer the following questions:

28-A-Even if poverty ratio declined between 1993-94 and 2004-05, why did the number of poor remain at about 407 million? (2)

28-B-Are the dynamics of poverty reduction the same in rural and urban India? (1)

- 2 वाइमर गणराज्य के सामने आने वाली समस्याओं का वर्णन करें 3
 9 Describe the problems faced by the Weimar Republic

खंड-घ /Section D- दीर्घ उत्तरीय प्रश्न /LONG ANSWER-BASED QUESTIONS

(5X4=20)

- 3 क्रांति से फ्रांसीसी समाज के किन समूहों को लाभ हुआ? किन समूहों को सत्ता छोड़ने के 5
 0 लिए मजबूर किया गया? क्रांति के परिणाम से समाज का कौन सा वर्ग निराश हुआ होगा?
Which groups of French society benefited from the revolution? Which groups were forced to relinquish power? Which sections of society would have been disappointed with the outcome of the revolution?

Or/अथवा

उन लोकतांत्रिक अधिकारों की एक सूची बनाएं जो आज हमें मिले हुए हैं जिनकी उत्पत्ति/उदगम फ्रांसीसी क्रांति में है?

Draw up a list of democratic rights we enjoy today whose origins could be traced to the French Revolution

3
1

Stations	Latitude	Altitude (Metres)	Jan.	Feb.	Mar.	Apr.	May	Jun.	Jul.	Aug.	Sep.	Oct.	Nov.	Dec.
Temperature (°C)	12°58'N	909	20.5	22.7	25.2	27.1	26.7	24.2	23.0	23.0	23.1	22.9	18.9	20.2
Rainfall (cm)			0.7	0.9	1.1	4.5	10.7	7.1	11.1	13.7	16.4	15.3	6.1	1.3
Temperature (°C)	19°N	11	24.4	24.4	26.7	28.3	30.0	28.9	27.2	27.2	27.2	27.8	27.2	25.0
Rainfall (cm)			0.2	0.2	-	-	1.8	50.6	61.0	36.9	26.9	4.8	1.0	-
Temperature (°C)	22°34'N	6	19.6	22.0	27.1	30.1	30.4	29.9	28.9	28.7	28.9	27.6	23.4	19.7
Rainfall (cm)			1.2	2.8	3.4	5.1	13.4	29.0	33.1	33.4	25.3	12.7	2.7	0.4
Temperature (°C)	29°N	219	14.4	16.7	23.3	30.0	33.3	33.3	30.0	29.4	28.9	25.6	19.4	15.6
Rainfall (cm)			2.5	1.5	1.3	1.0	1.8	7.4	19.3	17.8	11.9	1.3	0.2	1.0
Temperature (°C)	26°18'N	224	16.8	19.2	26.6	29.8	33.3	33.9	31.3	29.0	20.1	27.0	20.1	14.9
Rainfall (cm)			0.5	0.6	0.3	0.3	1.0	3.1	10.8	13.1	5.7	0.8	0.2	0.2
Temperature (°C)	13°4'N	7	24.5	25.7	27.7	30.4	33.0	32.5	31.0	30.2	29.8	28.0	25.9	24.7
Rainfall (cm)			4.6	1.3	1.3	1.8	3.8	4.5	8.7	11.3	11.9	30.6	35.0	13.9
Temperature (°C)	21°9'N	312	21.5	23.9	28.3	32.7	35.5	32.0	27.7	27.3	27.9	26.7	23.1	20.7
Rainfall (cm)			1.1	2.3	1.7	1.6	2.1	22.2	37.6	28.6	18.5	5.5	2.0	1.0
Temperature (°C)	24°34'N	1461	9.8	11.3	15.9	18.5	19.2	20.5	21.1	20.9	20.0	17.2	13.3	10.4
Rainfall (cm)			1.4	2.9	5.6	14.6	29.5	47.6	35.9	34.3	30.2	18.8	3.8	0.6
Temperature (°C)	8°29'N	61	26.7	27.3	28.3	28.7	28.6	26.6	26.2	26.2	26.5	26.7	26.6	26.5
Rainfall (cm)			2.3	2.1	3.7	10.6	20.8	35.6	22.3	14.6	13.8	27.3	20.6	7.5
Temperature (°C)	34°N	3506	-8.5	-7.2	-0.6	6.1	10.0	14.4	17.2	16.1	12.2	6.1	0.0	-5.6
Rainfall (cm)			1.0	0.8	0.8	0.5	0.5	0.5	1.3	1.3	0.8	0.8	-	0.5

5

31-i) दो सर्वाधिक वर्षा वाले स्टेशनों के नाम बताइए।

31-(ii) दो सबसे शुष्क स्टेशनों के नाम बताइए।

31-(iii) सर्वाधिक समान जलवायु वाले दो स्टेशन।

31-(iv) सर्वाधिक विषम जलवायु वाले दो स्टेशन।

31-(v) लौटते मानसून से प्रभावित दो स्टेशन।

31-(i) Name two rainiest stations.

31-(ii) Name two driest stations.

31-(iii) Two stations with most equable climate.

31-(iv) Two stations with most extreme climate.

31-(v) Two stations influenced by retreating monsoons.

3 स्वतंत्र एवं निष्पक्ष चुनाव की चुनौतियाँ क्या हैं?

5

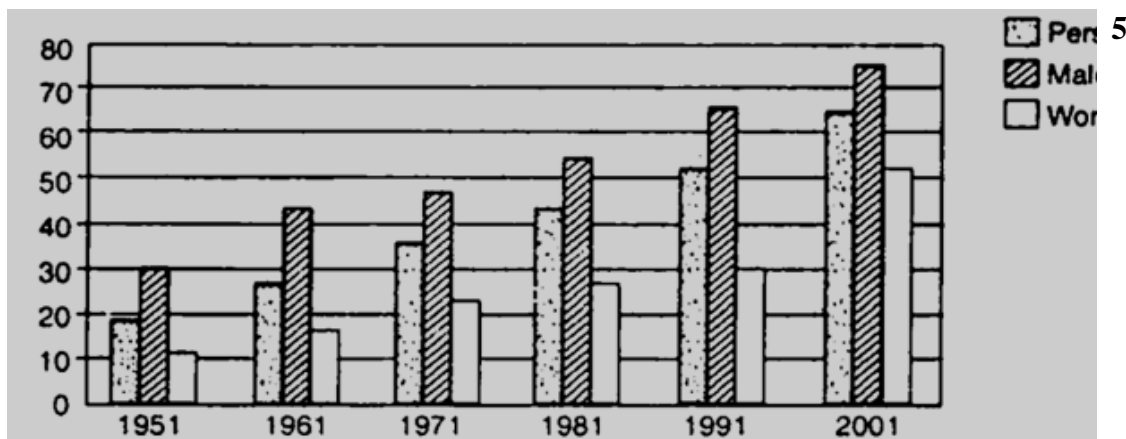
2 What are the challenges of free and fair election?

Or

चुनाव आयोग के पास इतनी शक्तियाँ क्यों हैं, क्या यह प्रजातंत्र के लिए अच्छा है?

Why does the Election Commission have so much powers, is this good for democracy?

3
3



सन्दर्भ- भारत में साक्षरता दर/ literacy rate in India

ग्राफ का अध्ययन करें और निम्नलिखित प्रश्नों के उत्तर दें:

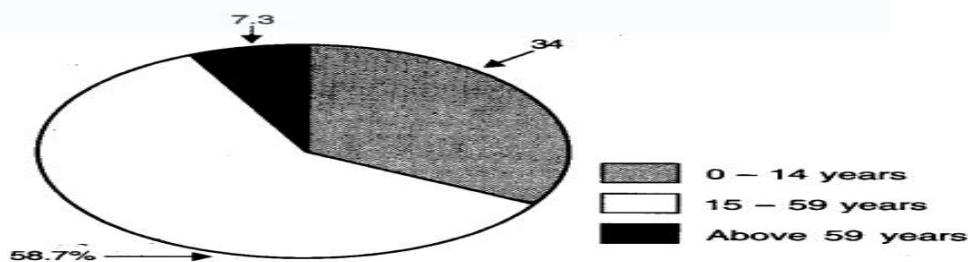
1. क्या 1951 के बाद से जनसंख्या की साक्षरता दर में वृद्धि हुई है?
2. भारत में साक्षरता दर किस वर्ष सर्वाधिक रही?
3. भारत के पुरुषों में साक्षरता दर अधिक क्यों है?
4. महिलाएं पुरुषों की तुलना में कम शिक्षित क्यों हैं?
5. आप भारत में साक्षरता दर की गणना कैसे करेंगे?

Study the graph and answer the following questions:

1. Has the literacy rates of the population increased since 1951?
2. In which year India has the highest literacy rates?
3. Why literacy rate is high among the males of India?
4. Why are women less educated than men?
5. How would you calculate literacy rate in India?

खंड- ड /Section E स्रोत आधारित प्रश्न /CASE-BASED QUESTIONS (4X3=12)

3
4



दिए गए चित्र का ध्यानपूर्वक अध्ययन करें और निम्नलिखित प्रश्नों के उत्तर दें:

- (i) जनसंख्या में किस आयु वर्ग का हिस्सा सबसे अधिक है? (1)
- (ii) कुल जनसंख्या के सापेक्ष कार्यशील जनसंख्या का प्रतिशत कितना है? (2)
- (iii) भारत की आश्रित जनसंख्या कितनी प्रतिशत है? (1)

Study the given figure carefully and answer the following questions:

- (i) Which age group has the maximum share in the population? (1)
- (ii) What is the percentage of working population in relation to the total population? (1)
- (iii) What is the percentage of India's dependent population? (1)

3

5

नीचे दिए गए स्रोत को पढ़ें और निम्न प्रश्नों के उत्तर दें:

चीन की संसद को कवांगुओ रेममिन दाइवियाओ दाहुई (नेशनल पीपल्स कांग्रेस) कहते हैं। चीन की संसद के लिए प्रति पाँच वर्ष बाद नियमित रूप से चुनाव होते हैं। इस संसद को देश का राष्ट्रपति नियुक्त करने का अधिकार है। इसमें पूरे चीन से करीब 3000 सदस्य आते हैं। कुछ

4

सदस्यों का चुनाव सेना भी करती है। चुनाव लड़ने से पहले सभी उम्मीदवारों को चीनी कम्युनिस्ट पार्टी से मंजूरी लेनी होती है। 2002-03 में हुए चुनावों में सिर्फ कम्युनिस्ट पार्टी और उससे संबद्ध कुछ छोटी पार्टियों के सदस्यों को ही चुनाव लड़ने की अनुमति मिली। सरकार सदा कम्युनिस्ट पार्टी की ही बनती है। 1930 में आजाद होने के बाद से मैक्सिको में हर छः वर्ष बाद राष्ट्रपति चुनने के लिए चुनाव कराए जाते हैं। देश में कभी भी फ़ौजी शासन या तानाशाही नहीं आई। लेकिन सन् 2000 तक हर चुनाव में पीआरआई (इंस्टीट्यूशनल रिवोल्यूशनरी पार्टी) नाम की एक पार्टी को ही जीत मिलती थी। विपक्षी दल चुनाव में हिस्सा लेते थे पर कभी भी उन्हें जीत हासिल नहीं होती थी। चुनाव में तरह-तरह के हथकंडे अपनाकर हर हाल में जीत हासिल करने के लिए पीआरआई कुख्यात थी। सरकारी दफ्तरों में काम करने वाले सभी लोगों के लिए पार्टी की बैठकों में जाना अनिवार्य था। सरकारी स्कूलों के अध्यापक अपने छात्र छात्राओं के माँ-बाप से पीआरआई के लिए वोट देने को कहते थे। मीडिया भी जब-तब विपक्षी दलों की आलोचना करने के अलावा उनकी गतिविधियों को नज़रअंदाज ही करती थी। कई बार एकदम अंतिम क्षणों में मतदान केंद्रों को एक जगह से हटाकर दूसरी जगह कर दिया जाता था जिससे अनेक लोग वोट ही नहीं डाल पाते थे। पीआरआई अपने उम्मीदवारों के चुनाव अभियान पर काफ़ी पैसे खर्च करती थी। चीन के चुनावों में लोगों के सामने कोई वास्तविक और गंभीर विकल्प ही नहीं होता। लोगों को शासक दल या उसके द्वारा स्वीकृत उम्मीदवारों को ही वोट देना होता है। क्या हम इसे मनपसंद चुनाव कह सकते हैं? मैक्सिको के मामले में ऐसा लगता है कि कहने को विकल्प होते हुए भी असल में वहाँ की जनता के पास कोई दूसरा विकल्प न था। किसी भी तरह वहाँ शासक दल को पराजित नहीं किया जा सकता था, लोगों के चाहने पर भी नहीं। वहाँ हुए चुनाव निष्पक्ष नहीं थे। लोकतंत्र के लिए सिर्फ चुनाव कराना ही पर्याप्त नहीं होता। चुनाव में एक से ज्यादा असली राजनैतिक विकल्पों के बीच चुनने की स्थिति भी होनी चाहिए। लोगों के पास यह विकल्प रहना चाहिए कि वे चाहें तो शासक दल को गद्दी से उतार दें।

1-चीन में नियमित अवधि पर चुनाव होने के बावजूद भी उसे एक लोकतांत्रिक देश नहीं कहा जा सकता है, क्यों? (2)

2-1930 में आजाद होने के बाद से सन् 2000 तक हर चुनाव में _____ को ही जीत मिलती थी। (1)

3-उद्धृत स्रोत लोकतंत्र की किस विशेषता को इंगित कर रहा है? (1)

Read the source given below and answer the questions that follow:

In China, elections are regularly held after every five years for electing the country's parliament, called Quanguo Renmin Daibiao Dahui. The National People's Congress has the power to appoint the President of the country. It has nearly 3,000 members elected from all over China. Some members are elected by the army. Before contesting elections, a candidate needs the approval of the Chinese Communist Party. Only those who are members of the Chinese Communist Party or eight smaller parties allied to it were allowed to contest elections held in 2002-03. The government is Since its independence in 1930, Mexico holds elections after every six years to elect its President. The country has never been under a military or dictator's rule. But until 2000 every election was won by a party called PRI. Opposition parties did contest elections, but never

managed to win. The PRI was known to use many dirty tricks to always formed by the Communist Party. win elections. All those who were employed in government offices had to attend its party meetings. Teachers of government schools used to force parents to vote for the PRI. Media largely ignored the activities of opposition political parties except to criticize them. Sometimes the polling booths were shifted from one place to another in the last minute, which made it difficult for people to cast their votes. The PRI spent a large sum of money in the campaign for its candidates. In China the elections do not offer the people any serious choice. They have to choose the ruling party and the candidates approved by it. In the Mexican example, people seemed to really have a choice but in practice they had no choice. There was no way the ruling party could be defeated, even if people were against it. These are not fair elections. Holding elections of any kind is not sufficient. The elections must offer a real choice between political alternatives. And it should be possible for people to use this choice to remove the existing rulers, if they wish so.

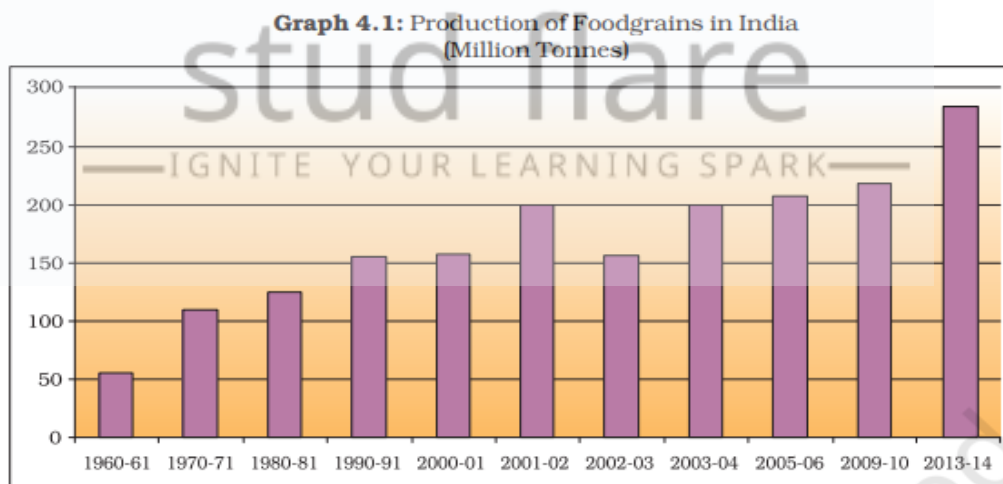
1-Why can the Chinese government not be called a democratic government even though elections are held there? (2)

2-___ always won elections in Mexico since its independence in 1930 until 2000. (1)

3-Does the given source explain the significance of which feature of democracy? (1)

3
6

4



Source: Economic Survey 2011-12, 2013-14

ग्राफ़ 4.1 का अध्ययन करें और उत्तर दें सवालों के जवाब निम्नलिखित:

36-(अ) हमारा देश किस वर्ष में खाद्यान्न उत्पादन वर्ष 200 मिलियन टन प्रति वर्ष पार हुआ था? (1)

36-(ब) भारत में किस दशक में अनाज उत्पादन में सर्वाधिक दशकीय वृद्धि हुई? (2)

36-(स) क्या 2000-01 से भारत उत्पादन में लगातार वृद्धि हो रही है? (1)

Study the Graph 4.1 and answer the following questions:

36-(a) In which year did our country cross the 200 million tonnes per year mark in food grain production? (1)

36-(b) In which decade did India experience the highest decadal increase in food grain production? (2)

36-(c) Is production increase consistent in India since 2000-01? (1)

खंड-च /Section F- मानचित्र आधारित /MAP SKILL-BASED QUESTION (2+3=5)

- 37 विश्व के रूपरेखा मानचित्र पर दो राष्ट्र A और B अंकित हैं। ये मित्र राष्ट्र हैं जिन्होंने प्रथम विश्व युद्ध में भाग लिया था। इन देशों को पहचानिए और उनके सही नाम मानचित्र पर अंकित रेखाओं पर लिखिए 5

On an outline map of the world, two nations A and B are marked. These are Allied powers that participated in the First World War. Identify these countries and write their correct names on the lines marked on the map.

भारत के रूपरेखा मानचित्र पर निम्नलिखित में से किन्हीं तीन को उपयुक्त प्रतीकों के साथ खोजें और लेबल करें।

- 1-नर्मदा नदी
- 2-उष्णकटिबंधीय पर्णपाती वन
- 3-कर्क रेखा
- 4-चिल्का झील

On the outline map of India locate and label ANY THREE of the following with suitable Symbols.

- 1- Narmada river
- 2-Tropical Deciduous Forest – Vegetation Type
- 3-Tropic of Cancer
- 4-Chilka Lake

निम्नलिखित प्रश्न केवल दृष्टि बाधित छात्रों के लिए प्रश्न संख्या 37 के स्थान पर हैं

37-अ

- 1-"द कम्युनिस्ट मेनिफेस्टो" पुस्तक किसने लिखी, जिसने समाजवादी विचारों की नींव रखी?
- 2- रूसी क्रांति के दौरान बोल्शेविक पार्टी के नेता कौन थे?

37- ब

- 1-अरब सागर में स्थित द्वीपों के समूह का नाम बताइये।
- 2-भारत में किस नदी का बेसिन (अपवाह तंत्र) सबसे बड़ा है?
- 3- सिमलीपाल बायो-रिजर्व किस राज्य में स्थित है?
- 4- प्रायद्वीपीय भारत की सबसे लंबी नदी कौन सी है

The following questions are in lieu of question no 37 only for visually Impaired students

37-A

- 1- Who wrote the book "The Communist Manifesto," which laid the foundation for socialist ideas?
- 2- Who was the leader of the Bolshevik Party during the Russian Revolution?

37- B

- 1-Name the group of islands lying in the Arabian Sea.
- 2-Which river has the largest basin in India?
- 3- In which state is the Simlipal bio-reserve located?
- 4- Which is the longest river of the Peninsular India?

नाम-

कक्षा -

वर्ग -

अनुक्रमांक -



stud flare

—IGNITE YOUR LEARNING SPARK—



70° 00'E Published by Survey of India
Scale 1:16M

80° 00'E

90° 00'E